

التمرين 1 : اكتب الأعداد المحصورة بين العددين 950 و 430

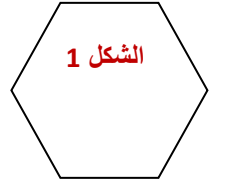
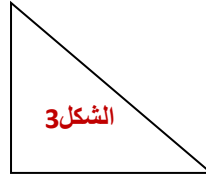
560 - 480 - 300 - 920 - 610 - 290 - 710 - 180 - 834 - 370

التمرين 2 : أضغ < أو > أو =

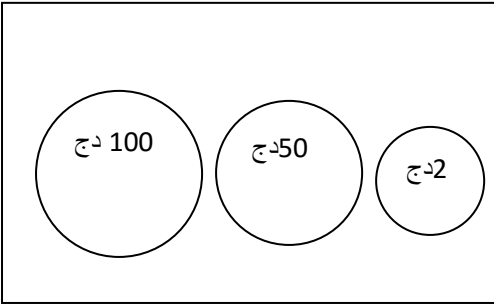
460 . 360 / 130 . 103 / 100+ 200+500 . 800 / 640 . 570 / 230 . 320

التمرين 3 : الأخط ثم أكمل الجدول

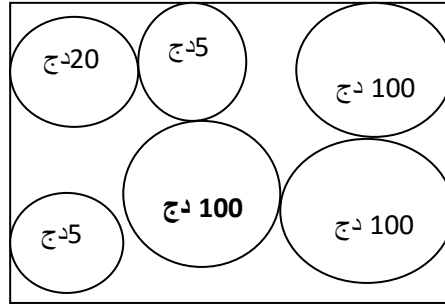
الأشكال	عدد الرؤوس	عدد الأضلاع
1		
2		
3		



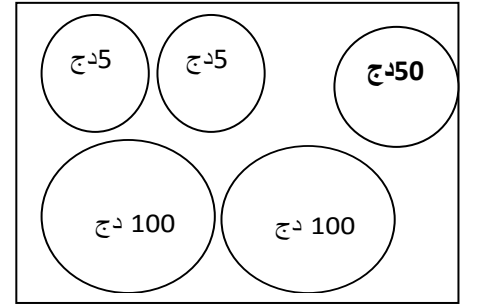
التمرين 3 : أربط بينهم بين المبلغ ورسمه



260 ديناراً



152 ديناراً



330 ديناراً

التمرين 4 : عند الخباز 390 خبزة، باع في الصباح 160 خبزة، و في المساء 175 خبزة

كم خبزة بقيت عند الخباز؟

كم خبزة باع الخباز؟

.....

.....

