

## اختبار شهر أفريل في مادة الرياضيات

1. التمرين الأول: (2ن) أنجز العمليات التالية:

$$\begin{array}{r} 805 \\ - \dots \\ \hline 503 \end{array} \quad \begin{array}{r} 877 \\ - 657 \\ \hline \dots \end{array} \quad \begin{array}{r} 339 \\ + \dots \\ \hline 853 \end{array} \quad \begin{array}{r} 275 \\ + 625 \\ \hline \dots \end{array}$$

2. التمرين الثاني: (2ن) أكمل حسب المثال :  $2+2+2 = 2 \times 3 = 6$ 

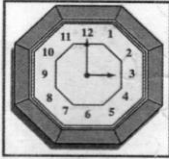
$$7+7+7 = .X . = .. \quad 5+5+5 = .X . = .. \quad 4+4+4+4 = .X . = .. \quad 6+6+6 = .X . = ..$$

3. التمرين الثالث: (2ن) أنجز العمليات التالية:

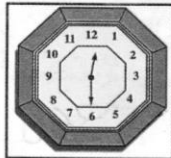
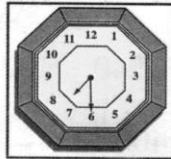
$$23 \times 10 = .. \quad 282 \times 10 = .. \quad 33 \times .. = 330 \quad 10 \times .. = 100$$

4. التمرين الرابع: (2ن) أكمل ما يلي :

أوقات العمل مساءً



أوقات العمل صباحاً



- يفتح المحل أبوابه صباحاً على الساعة : .....

- يفتح المحل أبوابه مساءً على الساعة : .....

- أكتب ساعة إغلاق المحل صباحاً : .....

- أكتب ساعة إغلاق المحل مساءً : .....

5. التمرين الخامس: (2ن) - المسألة:

- اشترى لَبَّان 42 صناديق في كلّ صندوق 10 أكياس من الحليب
- كم كيساً من الحليب اشترى ؟

.....

.....

باع 419 كيساً من الحليب

- كم كيساً من الحليب تبقى له ؟

.....

.....