

السؤال الأول

أنجز العمليات التالية:

$258$	$583$	$420$	$26$
$+ 741$	$+ 259$	$- 339$	$\times 5$
...	...	...	...

السؤال الثاني

ألاحظ الجدول




	م	ل	س
5			
6			
7			

أضع ● في الخانة م6      أضع ▲ في الخانة م5

أضع  في الخانة م6

السؤال الثالث

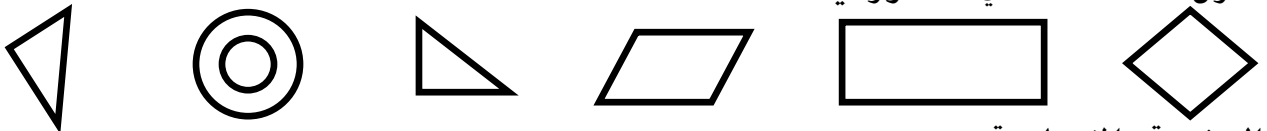
أكتب تحت الساعة الزمن الذي تشير إليه:



.....

السؤال الرابع

ألون الشكل الذي له زوايا قائمة:



الوضعية الإدماجية

مع أحمد 700 دينار، اشتري 4 قصص ثمن الواحدة 65 ديناراً وقلماً بـ 15 ديناراً ومقلمة بـ 120 ديناراً.  
 ما ثمن القصص؟  
 كم صرف أحمد؟  
 ما هو المبلغ الباقي؟

<p>.....</p> <p>.....</p> <p>.....</p> <p>.....</p> <p>.....</p> <p>.....</p> <p>.....</p> <p>.....</p> <p>.....</p> <p>.....</p>	<p>.....</p> <p>.....</p> <p>.....</p> <p>.....</p> <p>.....</p> <p>.....</p> <p>.....</p> <p>.....</p> <p>.....</p> <p>.....</p>
---	---