

الصف: الثانية ابتدائي

ابتدائية مصطفى بن بولعيد (دبيديبي - الحجيرة - ورقلة )

الموسم الدراسي ( 2016/2015 ) المدة 90

الاسم واللقب: .....

10

## اختبار الفصل الثالث في الرياضيات

التمرين الأول : أكمل الشريطين التاليين

100	200							800
-----	-----	--	--	--	--	--	--	-----

500	550		650				800		
-----	-----	--	-----	--	--	--	-----	--	--

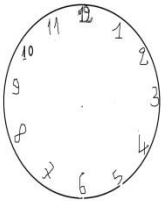
التمرين الثاني: حول الى مجموع /حول الى جداء

فكك كل عدد حسب المجموع	ركب العدد حسب كل وضعية
$6+6+6=.$ $\times$ .	$3 \times 3 = . + . + .$
$5+5=.$ $\times$ . = .	$10 \times 3 = . + . + . = .$

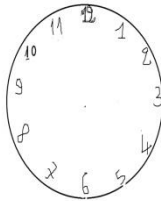
التمرين الثالث: انجز عمليات الطرح التالية

250	958	456	215
—	—	—	—
100	48	326	311
==	==	==	==

التمرين الرابع : لاحظ الساعة وحدد الزمن ثم لاحظ الزمن وارسم العقربين



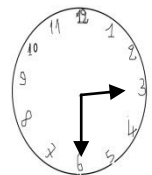
10 : 00



05 : 20



..... : .....



..... : .....

التمرين الخامس:

غرس فلاح 406 شجرة تفاح و121 شجرة برتقال

كم شجرة غرس الفلاح ؟

لما هبت الرياح تكسرت 25 شجرة

كم شجرة بقيت عنده؟

الجواب

الحل

العمليات

.....=.....

غرس الفلاح ..... شجرة

.....=.....

بقيت عنده ..... شجرة