

اختبار الفصل الأول في التاريخ

2016

س 3 ابتدائي

2015

الأسئلة

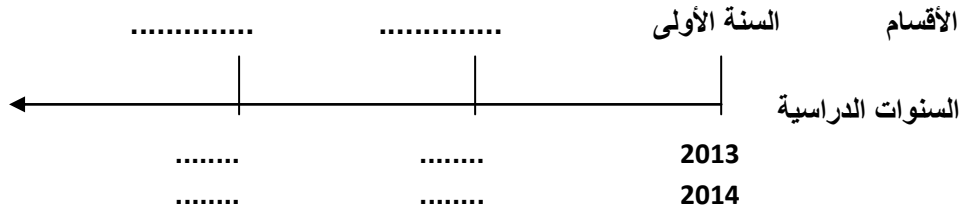
(1) أربط بسهم بين الوحدة الزمنية ومدتها :

الأسبوع	12 شهرا
اليوم	60 دقيقة
الشهر	أربعة أسابيع
السنة	سبعة أيام
الساعة	24 ساعة

(2) أجب بـ صحيح أو خطأ :

- عيد الثورة في الفاتح من شهر نوفمبر .
- عدد الأيام في كل شهر 30 يوما .
- شجرة عائلتي تضم أفراد أسرتي فقط .

(3) إليك السلم الزمني لبعض الأحداث الشخصية الخاصة بك ,
أكمل المخطط .



(4) أكتب تاريخ كل عيد من الأعياد :

- ذكرى المولد النبوي الشريف
- عيد الأضحى المبارك
- عيد الفطر
- عيد الثورة
- عيد الاستقلال

اختبار الفصل الأول في الجغرافيا

2016

س 3 ابتدائي

2015

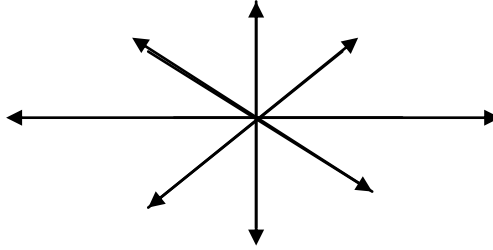
الأسئلة

(1) أجب بـ نعم أو لا:

- أ- التصميم هو رسم مصغر لمكان أو شيء .
- ب- المعلم هو كل شيء يسمح بالتعرف على مكان معين .
- ت- الجهة التي تشير إليها البوصلة هي الجنوب .

(2) ضع كل اتجاه مكانه على وردة الرياح :

الشمال الغربي	غرب	الجنوب الشرقي	شرق
جنوب	الشمال الشرقي	شمال	الجنوب الغربي

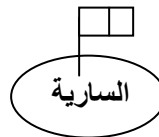


(3) أكمل :

- اسم بلديتي
- اسم بلدية مجاورة لها
- تقع بلديتي في ولاية
- تقع ولاية المسيلة في وطني
- يقع وطني في قارة

المطعم

قسم السنة
الثالثة



السارية

(4) لاحظ التصميم :

قسم السنة
الثانية

○ حدد موقع قسمك بالنسبة لـ :

السارية - المطعم - السنة الثانية

بالتوفيق