

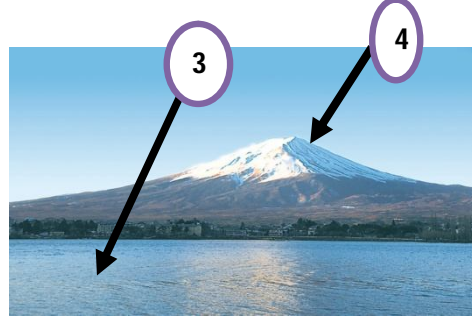

اختبار الفصل الثاني في مادة التاريخ و الجغرافيا

جغرافيا

التعليمة الأولى: أذكر ثلاث مناظر طبيعية تتميز بها بلادنا (03)

- 1-
- 2-
- 3-

التعليمة الثانية: ألاحظ الصورتين ثم أكتب أسماء المناظر في الجدول مع تصنيفها إلى مناظر طبيعية أو من عمل الإنسان. (02)



الرقم	اسم المنظر	تصنيفه
01		
02		
03		
04		

تاريخ

التعليمة الأولى: أملأ الفراغ (03)

ينقسم التقويم التاريخي إلى
نسبة إلى
نسبة إلى

تبدأ السنة الميلادية بشهر و تنتهي بشهر

تبدأ السنة الهجرية بشهر و تنتهي بشهر

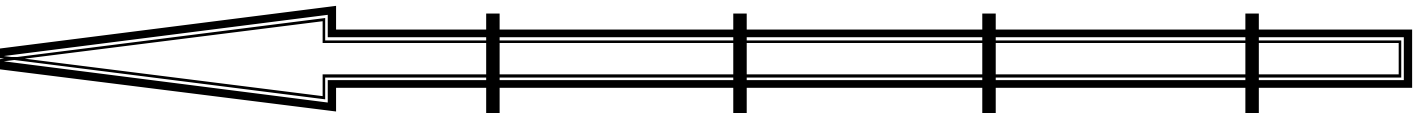
التاريخ هو سلسلة التي يعيشها الإنسان في جميع

التعليمة الثانية: (02)

بمناسبة يوم الشهيد أراد زميلك القيام ببحث حول الشهيد ديدوش مراد و لكنه وجد المعلومات غير مرتبة فطلب منك

مساعدته على ترتيبها ترتيبا صحيحا حسب تسلسلها الزمني. وهذه المعلومات هي: انضم إلى حزب الشعب سنة 1942، ولد

سنة 1927، توفي سنة 1955، شارك في اجتماع مجموعة "22" سنة 1954.



إمضاء الولي:



بالتوفيق أعزائي

