

إمضاء الولي

يوم

التاريخ

النشاط الأول : رتب الوحدات الزمنية التالية من أصغرها إلى أكبرها :
الشهر - الفصل - اليوم - الساعة - الدقيقة - السنة

3

--	--	--	--	--	--

النشاط الثاني : إملأ الفراغ بالكلمة المناسبة :

- التقويم التاريخي ينقسم إلى : تقويم وتقويم
- التقويم نسبة إلى مولد نبي الله عليه السلام ، ويستعمله شعوب
- التقويم نسبة إلى هجرة سيدنا صلى الله عليه وسلم ، ويستعمله الشعوب في تسجيل الأحداث المختلفة وعدد شهوره شهرا.

3

النشاط الثالث : صنف الشهور الآتية في الجدول :

رجب - جانفي - صفر - ماي - شوال - ديسمبر - رمضان - أوت

أشهر السنة الهجرية

أشهر السنة الميلادية

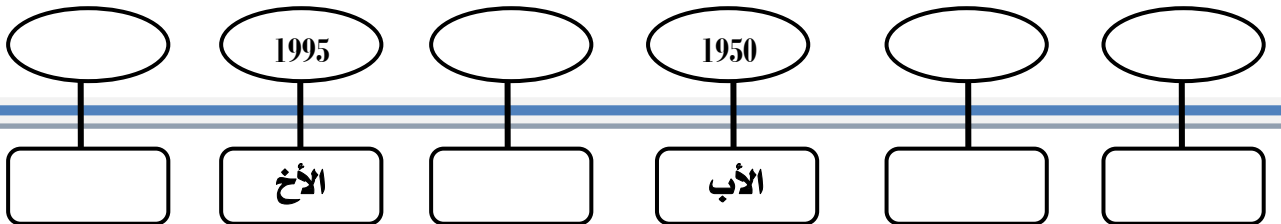
2

.....
-------	-------

النشاط الرابع :

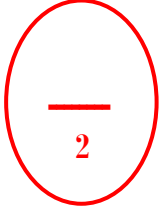
- تتكون عائلة منى من الجد المولود سنة 1945 ومن الجدة المولودة سنة 1950 ومن الأب المولود سنة 1962 ومن الأم المولودة سنة 1968 ومن الأخ الأكبر المولود سنة 1995 ، أما هي فميلادها سنة 2005 .
- رتب هذه التواريخ على السلم الزمني :

2




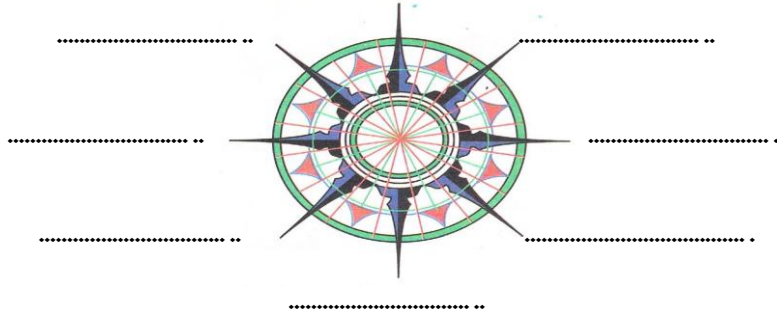
النشاط الأول : أربط كل مصطلح بما يناسبه :

- الكوكب
- اليابسة
- الماء
- القارة
- مجموعة من البلدان
- بحار ومحيطات
- قارات
- يابسة وماء وغلاف جوي



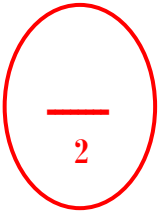
النشاط الثاني : حدد الجهات الأربعة الأساسية والجهات الفرعية على وردة الرياح.

الشمال



النشاط الثالث : ضع (ص) أمام العبارة الصحيحة و (خ) أمام العبارة الخاطئة :

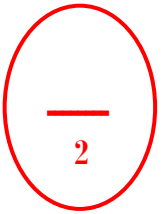
- يوجد الريف داخل المدينة (.....)
- يكون الإنسان قريبا من الطبيعة في المدينة (.....)
- المدينة هي تجمع سكاني كبير (.....)
- تتعرف على جهة الشمال والغرب بالبوصلت (.....)



النشاط الرابع : ضع كل مظهر في الخانة المناسبة له في الجدول :

- شوارع واسعة - أراضي زراعية - بنايات عالية - طرق ضيقة
- عمل صناعي - تربية الحيوانات - محلات تجارية - مساكن قليلة

الريف	المدينة
.....
.....



النشاط الخامس : أكتب رقم كل اسم في الدائرة المناسبة :

- 1 - الصحراء
- 2 - التل

