

المستوى : الثالثة ابتدائي

## امتحان الفصل الأخير في مادة التربية العلمية و التكنولوجيا

① أضعُ (ص) أمامَ العبارةِ الصَّحيحةِ ، وحَرَفَ (خ) أمامَ العبارةِ الخاطئةِ في ما يلي:

يُضَيُّ المِصْبَاحُ عِنْدَ إِيصَالِ مَرِبْطِيهِ بِقُطْبِي دَارَةِ كَهْرَبَائِيَّةٍ مُغْلَقَةٍ. (.....)

الْحَوَاسُّ كَافِيَّةٌ لِمُقَارَنَةِ وَزْنِ الْأَشْيَاءِ الْمُتَقَارِبَةِ فِي الْوِزْنِ. (.....)

وَحْدَةُ قِيَاسِ الْوِزْنِ هِيَ الْكِيلُوغَرَام (Kg). (.....)

هُنَاكَ نَوْعٌ وَاحِدٌ مِنَ الْمَوَازِينِ. (.....)

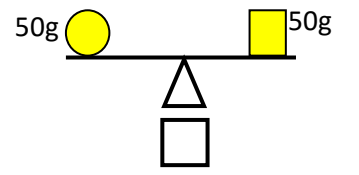
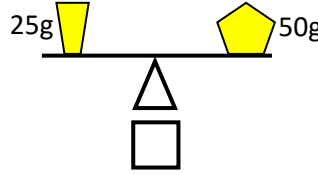
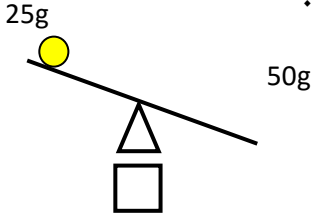
يَنْتُجُ عَنِ دَوْرَانِ الْأَرْضِ حَوْلَ نَفْسِهَا تَعَاقُبُ اللَّيْلِ وَالنَّهَارِ. (.....)

الشَّمْسُ تَدُورُ حَوْلَ الْأَرْضِ. (.....)

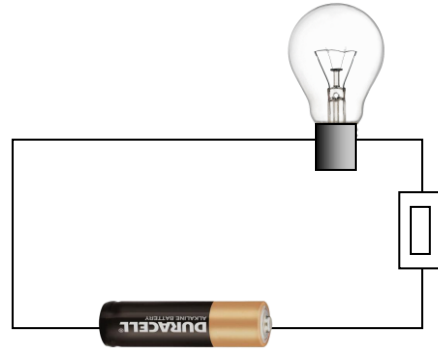
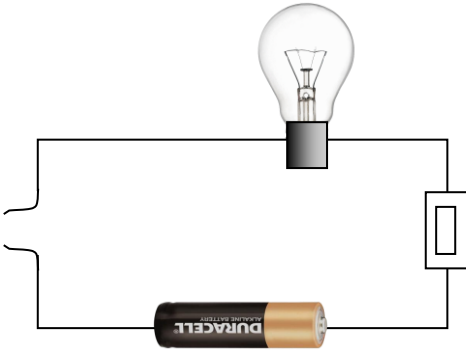
أَذْكُرُ ثَلَاثَةَ أَنْوَاعٍ مِنَ الْمَوَازِينِ:

..... ① ..... ② ..... ③ .....

② أضعُ علامةَ ☒ تَحْتَ الْحَالَةِ الصَّحِيحَةِ وعلامةَ ☒ تَحْتَ الْحَالَةِ الْخاطِئَةِ:



③ أُلَوْنُ بِالْأَصْفَرِ الْمِصْبَاحَ الَّذِي يَشْتَغِلُ فِي الدَّارَةِ الْكَهْرَبَائِيَّةِ:



④ أَكْمِلُ الْفَرَغَاتِ بِمَا يُنَاسِبُ:



تُوحِي لَكَ الْمَنْطِقَةُ A: .....

تُوحِي لَكَ الْمَنْطِقَةُ B: .....