

[اختبار شهر أفريل للسنة الثالثة من التعليم الابتدائي]

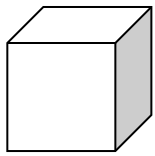
اختبار في مادة الرياضيات

المدة : ساعة ونصف

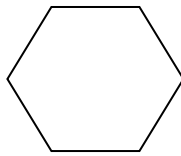
التمرين الأول :

اشترى أحمد 3 علب من البسكويت ب 35 ديناراً للوحدة  
عد احمد نقوده فوجد قد بقي له بعد الشراء 45 ديناراً  
\* ما هو ثمن شراء البسكويت ؟  
\* كم كان يملك قبل شراء البسكويت؟


التمرين الثاني : 1 - سم الأشكال التالية .



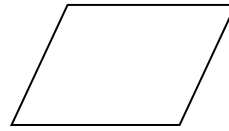
5



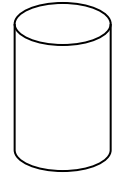
4



3




2




1

2 - لاحظ الشكل 5 :

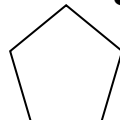
كم له من : وجه ، حرف ، رأس ؟



ج



ب



أ

حدد أثره :

المسألة :

اشترى أبي من السوق 5 كيلو غرامات من الدقيق ب : 35 ديناراً للكيلوغرام الواحد  
و 2 كيلو غراماً من السكر ب 50 ديناراً للكيلوغرام الواحد و علبة قهوة .  
1 - ما هو ثمن الدقيق ؟  
2 - ما هو ثمن السكر ؟  
3 - ما هو ثمن الدقيق و السكر معا ؟  
دفع أبي للتاجر ورقة ذات 500 ديناراً فأرجع له 150 ديناراً  
4 - ما هو ثمن كل المشتريات ؟  
5 - ما هو ثمن القهوة ؟