

المصفى : الخامس ابتدائي


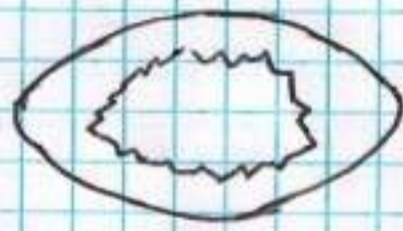


ابتدائية أولعزير الحاج

اختبار الفصل الثالث في التربية العلمية

مقاطعة بني راشد

العام الدراسي : 2015/2016

(1) لاحظ وتأمل بيضه ملقحة ، ثم رتب مراحل تطورها بوضع الأرقام المناسبة في مكانها : 1 - 2 - 3 - 4 .



(2) أكمل الفراغ بالكلمة المناسبة : الإلقاح - الخارجي - ملقحة - الداخلي - كتكوت

- الإلقاح ..... يتم في وسط برّي داخل جسم الأنثى .

- اتحاد بويضة مع ذطفة يشكّلان بيضة .....

- يتكاثر السمك عن طريق .....

- الإلقاح ..... يتم في وسط مائي خارج جسم الأنثى .

- تتحوّل بيضة الدجاجة إلى ..... بعد 21 يوم .

(3) صلّ بينهم بين الجهاز ونوع مصدر الطاقة :

• الآلة الغسّيل

• الآلة التّصوير

• المكيف الهوائي

• المصباح اليدوي

• الآلة الحاسبة

• التّلاّجة

• كهرباء القطار

(4) يتكوّن الماء من .....

الاسم : .....	العلامة	الملاحظة	إمضاء الوليّ
اللقب : .....			