



الأسدوس الثاني

النقطة	الإدارة	الولي
10		



المادة الرياضيات

الاسم:

التاريخ:

الفوج:

المستوى: الأولى ابتدائي

1 / أصل بخط.



خمسة عشر

42

ثلاثون

26

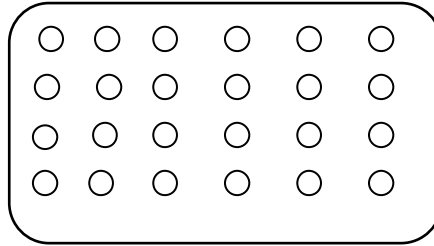

ستة و عشرون

15

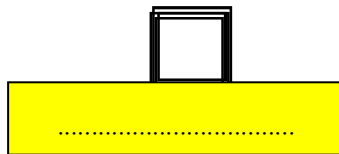
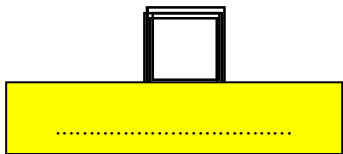
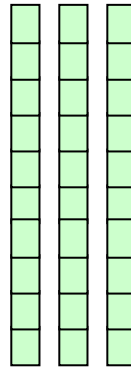
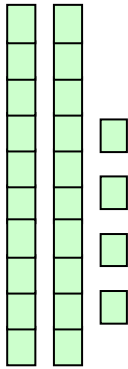
اثنان و أربعون

30

2 / ألون 15 قرصا :



3 / أكتب بالأرقام و الحروف :



4 / الأخط ثم أكتب المتساوية:



$$\dots + \dots = \dots$$

2

1

1

0.75



$7 + 3 = \dots\dots\dots$

$9 + 2 = \dots\dots\dots$

$10 + 4 = \dots\dots\dots$

$20 + 1 = \dots\dots\dots$

5 / أحسب :

6 / أقارن باستعمال الرمز المناسب : < أو > أو =

$7 \dots\dots 12$

$19 \dots\dots 10$

$5 + 5 + 2 \dots\dots 17$

$10 + 3 \dots\dots 13$

7 / أرتب الأعداد التالية من الأصغر إلى الأكبر :

15 ; 10 ; 19 ; 6 ; 11

..... < < < <



8 / أصل بخط :

الخامسة

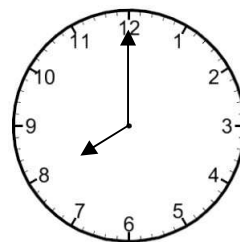
السادسة

الرابعة

تشير الساعة إلى

6 : 00

10 / أملأ الفراغ بما يناسب .



..... :

السابعة تماما

11 / أرسم المسار الذي سيسلكه القط للوصول إلى الفأر :

