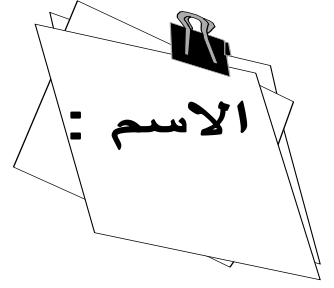
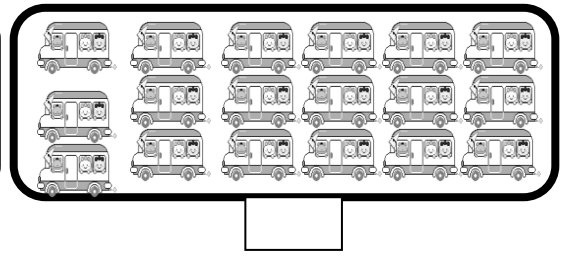
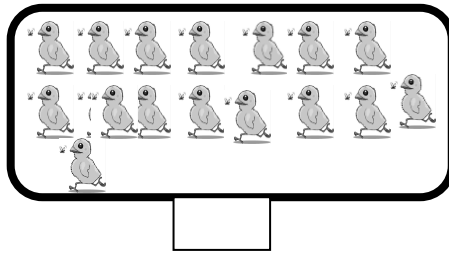
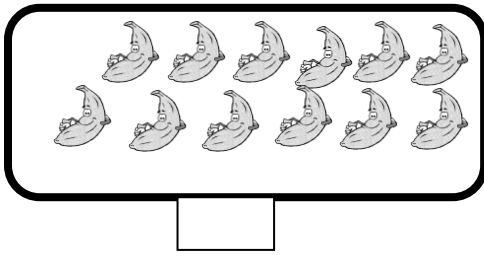


# امتحان 1 في الرياضيات ( الدورة الثانية )



أكمل :



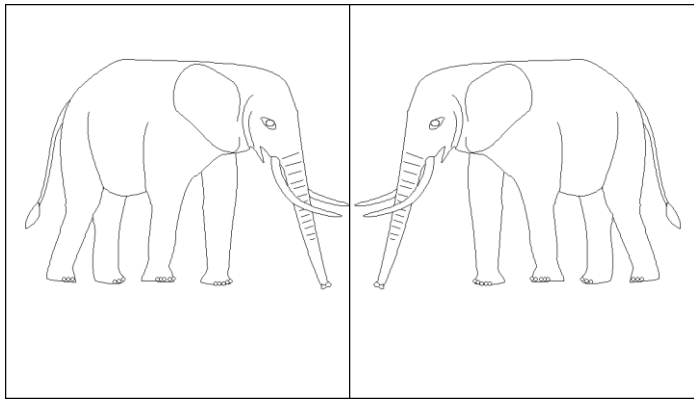
قارن :

$14+2 \dots\dots 13+3$

$17 \dots\dots 13$

$14 \dots\dots 19$

$15 \dots\dots 18$



لون الرسمين بنفس الألوان  
للحصول على رسمين متماثلين