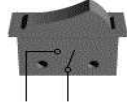






الاسم :	اختبار كتابي ع-02 دد	المدرسة الإعدادية ابو القاسم
اللقب :	التربية التكنولوجية	الشابي بنر الحفي
الرقم :	التوقيت : 30 دق	الأستاذ: العكريمي
7 أ	الضارب : 1	2010 / 2009


1 - اتمم تعمير الجدول التالي بما يناسب.

وظيفة المكون في الدارة الكهربائية	اسم المكون	المكون
.....	S 
.....	F 
.....	E 
.....	G 

2 - اربط بين هذه المكونات للحصول على دارة كهربائية ذات إنارة بسيطة .



3 - انجز الرسم البياني المقنن لهذه الدارة الكهربائية



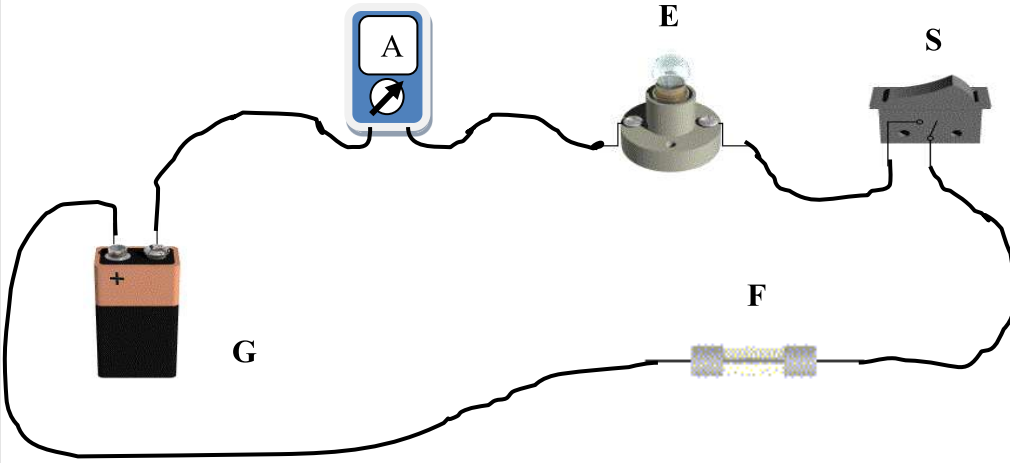
8

2

4

1


4- أضفنا لنفس الدارة الكهربائية المكون (A).



أ- ما اسم هذا المكون (A) ؟

ب- ماهي وظيفته ؟

ج- ارسم رمزه المقنن :



1

3

2