

اختبار كتابي عدد 3 النزبة التكنولوجية

2013 / 2012

التوقيت: 30دقة الضارب: 1

اسم و لقب التلميذ قسم: 8 أساسي الرقم
العدد المسند:

النشاط 1

1 اتمم الجمل التالية بما يناسب.

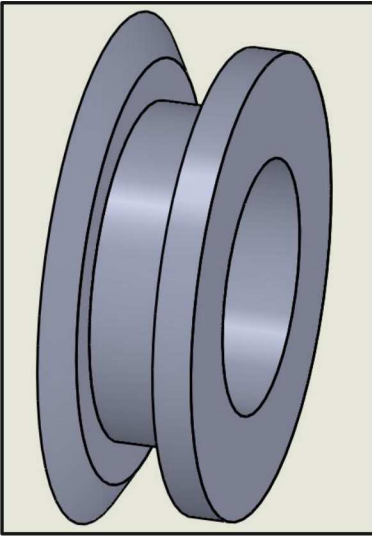
يمكن رسم القطع الاسطوانية باعتماد لإبراز مختلف جزئياتها.

لتمييز الأشكال الاسطوانية عن باقي الأشكال يجب

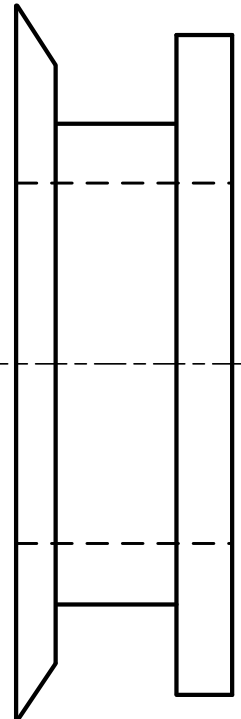
النشاط 2

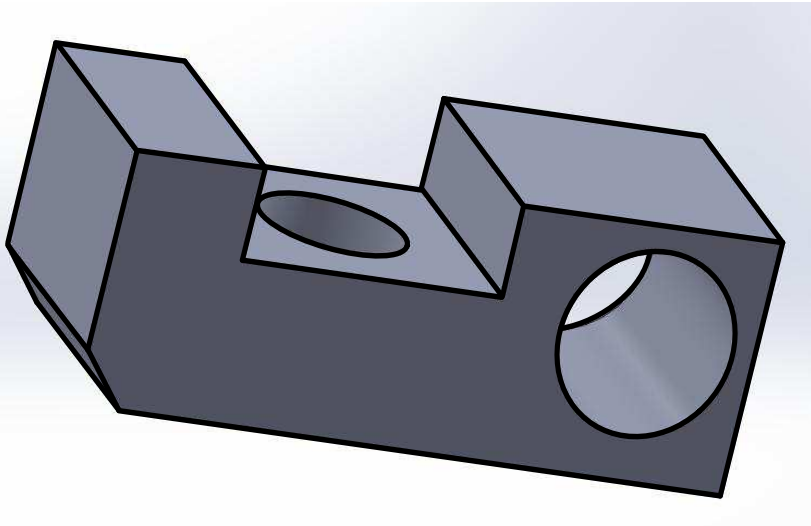
معتمدا على الرسم المنظوري :

2 أرسم المسقط اليميني



...../5





النشاط 3

معتمدا على الرسم المنظوري و المسقط الرأسي:

3 اتم رسم المسقط العلوي و المسقط اليساري

...../12

