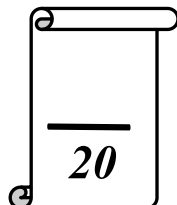


Collège Ali Belhwène Kélibia	Devoir de Contrôle N° 1	Prof : M ^{me} Zouaoui.
Classe : 7 ^{ème} année de base		Matière : Informatique
A .S : 2009/2010		Durée : 1 heure

Nom : Prénom : N°: Note :



Exercice N° 1 : (1,5 pt) Compléter le schéma suivant :



.....

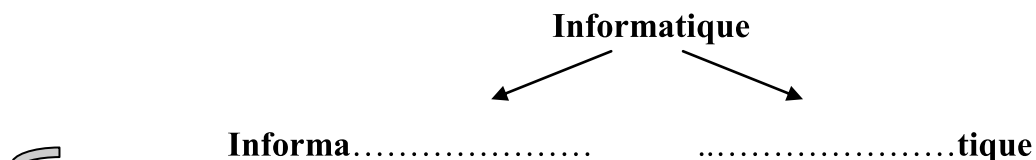


.....



.....

Exercice N° 2 : (2 pt) Compléter par : informations, traitement



Donc, l'informatique est la science deautomatique des.....

Exercice N° 3 : (4 pt) Compléter par les mots suivants :

Système d'exploitation, unité centrale, le modem, périphériques d'entrée.

.....	C'est le composant principal de l'ordinateur. Elle traite les informations.
.....	Un périphérique d'entrée/sortie utilisé pour se connecter à l'internet.
.....	Ils entrent les informations à l'ordinateur.
.....	Un ensemble des programmes permettant à l'utilisateur d'exploiter un ordinateur.

Exercice N° 4: (2 pt) Répondre par vrai ou faux

L'ordinateur est une machine automatique.
Le clavier est un périphérique de sortie.
Le dossier peut contenir des fichiers et des dossiers.
L'unité centrale est un périphérique.

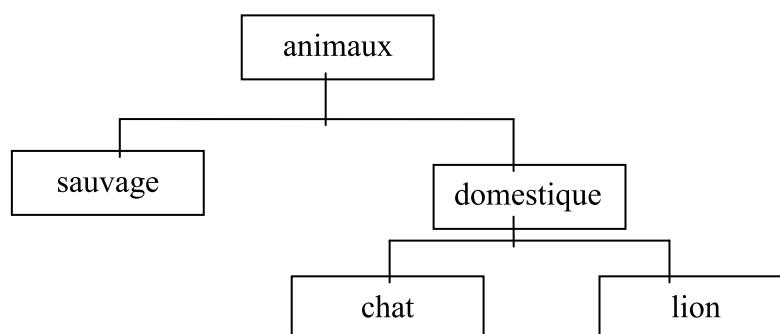
Exercice N°5 : (1,5 pt) Mettre une croix (×) devant chaque support de stockage :

() Clavier () disquette () Souris () écran () CD () Disque dur

PARTIE PRATIQUE

Exercice N°6 : (9 pt)

1) Créer l'arborescence suivante sous C:/



- 2) Renommer le dossier « chat » par un autre nom d'un animal domestique.
- 3) Le dossier « lion » n'est pas dans sa bonne place, déplacer le sous le bon dossier.
- 4) Copier l'arborescence sous le dossier « Devoir » sous « Mes Documents » .
- 5) Supprimer l'arborescence.

BON TRAVAIL

