

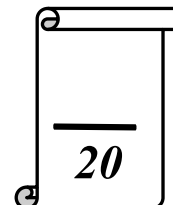
Collège Ali Belhwène Kélibia	Devoir de contrôle N° 1	Prof : M ^{me} Zouaoui.
Classe : 7 ^{ème} année de base		Matière : Informatique
Date : 23/10/2010 A .S : 2010/2011		Durée : 1 heure




Nom : Prénom : Classe : 7B1

Exercice N°1: (9.5 pts)

Question 1 (3 p)

Que suis-je ?



 Le composant qui permet de sortir le son.
 Le composant principal de l'ordinateur. Il traite les informations.
 Un périphérique de pointage.

Question 2 (3 p) Voici trois périphériques : la mémoire Flash, le caméscope et la casque multimédia.

Classer ces périphériques en des périphériques d'entrée, de sortie ou d'entrée/sortie suivant leurs définitions.






- la **mémoire Flash**: c'est un support de stockage.
- Le **caméscope numérique**: il est utilisée pour **entrer** les photos et les séquences vidéo à l'ordinateur.
- La **casque multimédia** : elle permet de visualiser un environnement virtuel de l'ordinateur.



Les périphériques d'entrée	Les périphériques de sortie	Les périphériques d'entrée/sortie
.....

Question 3 (3.5p)

Mettre une croix dans la case correspondante :

Vrai	Faux
------	------

 Un fichier peut être une image stockée sur l'ordinateur.		
 Le système d'exploitation est un ensemble de périphériques.		
 L'informatique peut être appliquée sans ordinateur.		
 L'ordinateur est commandé par un seul programme.		
 Les périphériques assurent le dialogue entre l'unité centrale et la souris.		

 Les dossiers peuvent contenir seulement des fichiers		
 Les fichiers sont caractérisés seulement par leur nom.		

Exercice N°2 : (10.5 pts)

Question 1 (2.5 p)

Relier par une flèche chaque opération avec le périphérique qu'on doit utiliser :

- Fermer l'ordinateur.
- Afficher des photos.
- Entrer ma photo.
- Ecrire un poème.
- Sortir le poème sur papier.

- Ecran.
- Webcam.
- Clavier.
- Souris.
- Imprimante.

Question 2 (2 p)

Relier par une flèche :



- représentent un lien vers des objets (dossier, programme) .
- est le lieu temporaire pour le stockage des supprimés.
- contient les liens avec tous les périphériques de stockage (le disque dur, lecteur CD,...).
- contient l'ensemble des ordinateurs qui sont connectés sur le réseau local.

Question 3 (6 p) Ouvrir le dossier « ordinateur » sur le bureau et schématiser l'arborescence :

- 1- Copier les images du dossier « périphériques » qui se trouve dans le dossier « Mes documents » sous le dossier « ordinateur ».
- 2- Parmi les images de périphériques, il y a une image intruse supprimer la.
- 3- Déplacer toute l'arborescence sur le bureau.
- 4- Sous le dossier « unité centrale », créer un fichier de type « Document Microsoft Word » portant le nom « Disque dur ».

BON TRAVAIL

