

المدرسة الإعدادية الشيعية	فرض مراقبة عدد 1 في مادة التربية		الإسم :
الأستاذ : طارق كريشان	التكنولوجيا		اللقب :
التاريخ : 2014/...../.....	الضارب : 1	التوقيت : 30 دق	القسم : 7 أ الرقم العدد المسند : 20 /

تمرين عدد 1 :

/3



دراجة نارية



دراجة عادية

أذكر مجال كل من المنتجين ثم أبين التطور الحاصل بينهما بتيجاز.

المجال هو :

التطور الحاصل هو :

تمرين عدد 2 :

/2

لبست ملابسها الجديد ثم امتطت أريج السيارة مع والدها أثناء الطريق رأت دكان فواكه جافة فدخلته و بيدها هاتفها

الجوال فاشتريت علبة شكلاطة ثم غادرت نحو دكان الإعلامية أين اشترت قرصا به لعبة رقمية.

ذكرت الفقرة بعض المنتجات ضع كلا منها في الجدول الموالي ثم أكمله.








المنتج أو الجهاز	مجالات الاستعمال
ملابس	النسيج (أو الملابس)
.....
.....
.....
.....

/5

تمرين عدد 3 :

أتمم الفراغات بالجدول التالي باعتماد صور المكونات و أرقامها.



3	7	2	1	4	5	6
						

الوظيفة	إسم المكون	رقم المكون
يخرج المعلومات في شكل صوت و يخرج أصوات الأفلام و الفيديو.
.....	الشاشة
.....	الوحدة المركزية
إخراج المعلومات على الورق.
.....	2
يرتبط بالوحدة المركزية و بخط الهاتف.
تحديد أو تحريك كل العناصر الموجودة على الشاشة.

تمرين عدد 4 :

/5

أتمم الفراغات بكتابة النشاط الذي يوافق العبارات.

العبارة	النشاط	رمز النشاط
الرسكلة
مصلحة بعد البيع
الرسوم البيانية
المواصفات المعمول بها
الإشهار
صنع نموذج
إعداد كراس شروط وظيفي
التعبير عن الحاجة
مواد أولية
التحكم في الجودة



أعبر عن الحاجة إلى مكواة الثياب.



.....

.....

.....
.....

.....
.....

المنتج

.....
.....



.....

خلاصة التعبير عن الحاجة إلى مكواة الثياب :

.....
.....

