




الاسم:	إختبار كتابي ع02-د	المدرسة الإعدادية
اللقب:	المادة: التربية	ابن شرف
القسم: 7 أساسي الرقم:	التوقيت: 30 دق	السنة الدراسية: 2012/2011
	الضارب: 1	الأستاذ: خالد السقني

السؤال الأول: (12 درجة)

أ) أكمل تعميم الجدول التالي وأستعمل الأدوات الهندسية لرسم الرموز المقننة :

رمز المكون	إسم المكون	صورة المكون
	
	

ب) أكمل كتابة الخصائص الكهربائية لهذا العنصر مستندا الى صورته :



- جهد الاستعمال :

- شدة التيار :

السؤال الثاني: (8 درجات)

أ) كم من سلّم مدرج يحتوى إطار جهاز الفولطمتر ؟

ب) ماهي قراءة المؤشر ؟

ت) ما هو العيار المستعمل ؟

ث) أحسب قيمة الجهد الكهربائي الذي يقيسه هذا الجهاز ؟

