





20	الإسم: .....	فرض مراقبة عدد 2 في مادة التريية التكنولوجية	المعهد الخاص الفوز بدقاش
	اللقب: .....		
	القسم: 17	التاريخ: 2019/01/29	الأستاذ: مهدي لغمي
	الرقم: .....	التوقيت: ساعة	

**تعريف 1:** ضع علامة (x): يستعمل التيار الكهربائي لتشغيل الأجهزة الكهربائية للحصول على:

الصوت والمعلومات	الحركة	الإنارة	الحرارة	الجهاز
				مدفئة 
				حاسوب 
				مصباح كهربائي 
				محرك كهربائي 

**تعريف 2:** أكمل الجدول التالي بالأسماء ورموز المتقبلات:

اسم العنصر	.....	.....	.....	.....
صورة العنصر				
الرمز المقنن للعنصر				



### تمرين 3: أتمم كل دائرة كهربائية

بالرسوم المقننة التالية.


أ - المتقبل: مصباح كهربائي

- مصدر تغذية (عمود جاف)
- قاطعة أو زر ضاغط



ب - المتقبل: محرك كهربائي

- مصدر تغذية (عمود جاف)
- قاطعة أو زر ضاغط







ب - المتقبل: صمام مشع كهربائي

- مصدر تغذية (عمود جاف)
- قاطعة أو زر ضاغط



### تمرين 4: أتمم الفراغات وأربط بسهم كل طاقة بالعنصر المناسب.

 <p>محرك كهربائي</p>	←	طاقة ضوئية
 <p>مكواة</p>	←	طاقة صوتية
 <p>مصباح كهربائي</p>	←	طاقة ميكانيكية
 <p>جرس كهربائي</p>	←	طاقة .....

طاقة .....

