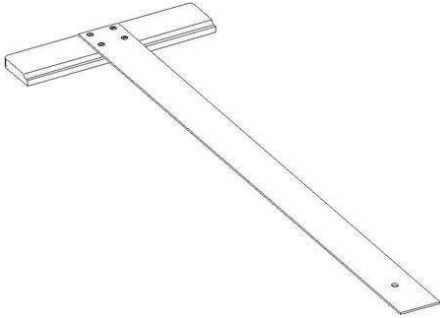
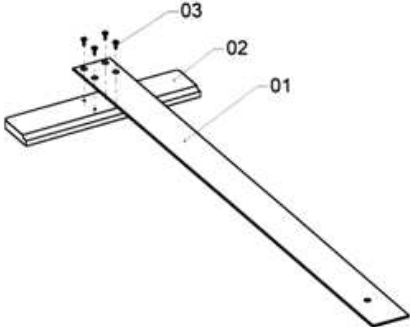
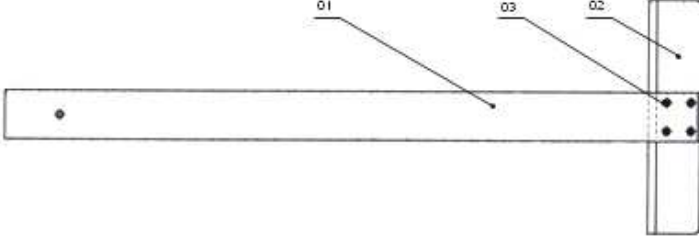

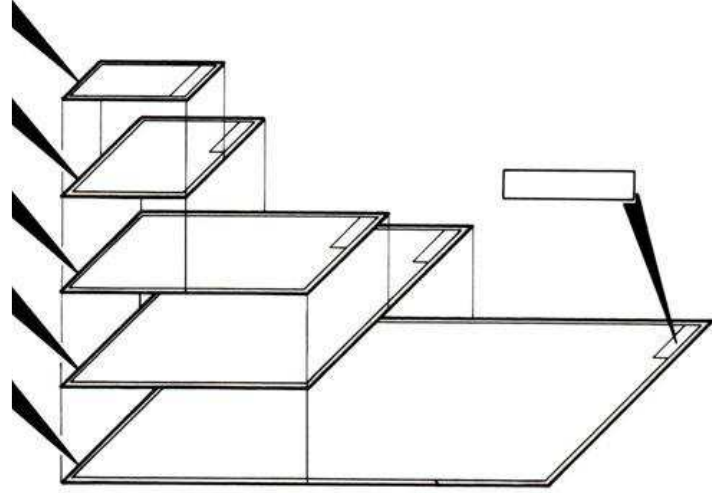


2- أكمل الجدول التالي بما يناسب موضحا بذلك أنواع الرسوم .

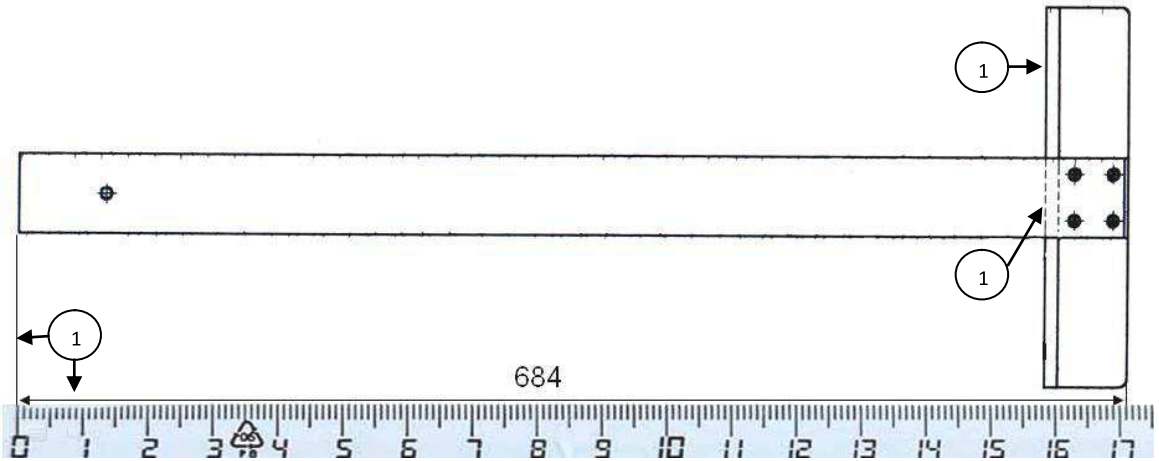
الرقم	الرسم	التسمية
1	
2	
3	
4	

3- لاحظ وثائق الرسم وأكمل المطلوب بما يناسب .

A4
.....	420	297
.....	594	420
A1
.....	1188	840
وثيقة الرسم	الطول	العرض
	الأبعاد بالمليمتر	



4- لاحظ المعطيات وحدد السلم المستعمل لتمثيل أداة الرسم .



القياس الحقيقي =

قياس الرسم =

السلم = قياس = قياس = قياس

.....	3	1
.....	2

5- تأمل الخطوط المرقمة في الرسم السابق و سمها حسب نوعها وسمكها.