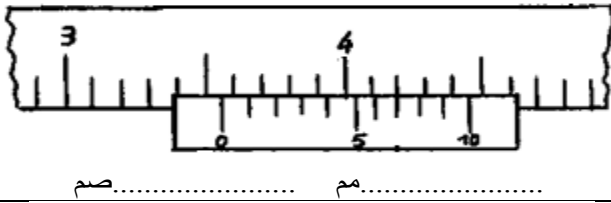
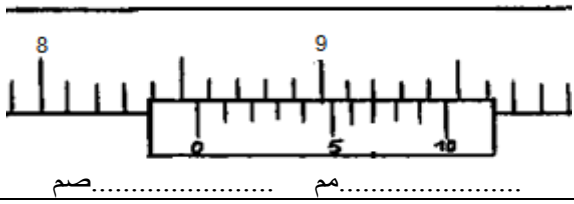
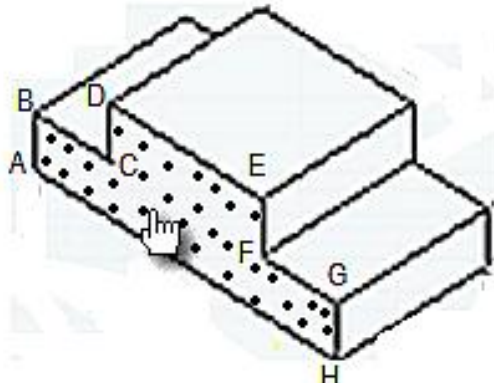
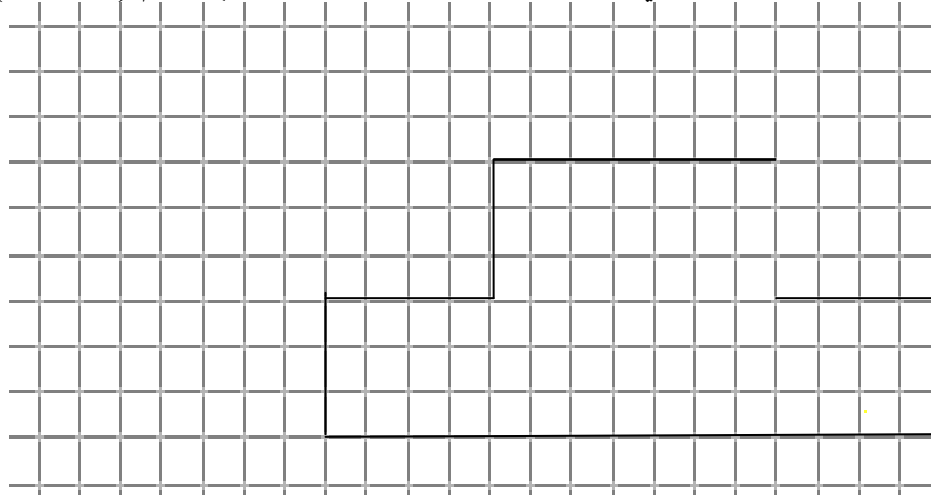
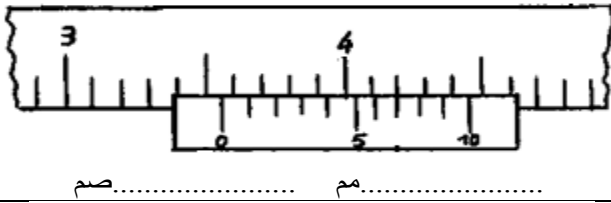
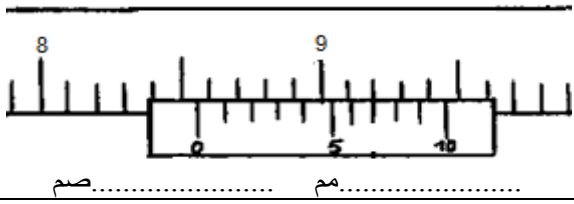
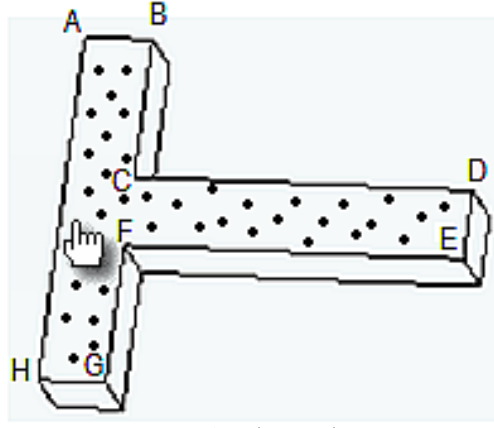



|   |  |   |
|---|--|---|
| الاسم:.....<br>اللقب:.....<br>الرقم:.....القسم:7 أ..... | اختبار كتابي في مادة<br>التربية التكنولوجية<br>التوقيت: 30 دقيقة<br>أفريل 2012 | المدرسة الإعدادية<br>محمود المسعدي<br>سببية<br>الإعداد:<br>اساتذة التربية التكنولوجية |
| العدد: 20/.....   |  |   |

|   |  |
|---|--|
| <b>** الجزء الأول " استعمال القدم الزالقي " :</b> |  |
| 03  |  <p>1 - لون المسطرة فقط بقلم تلوين.<br/> 2 - إستخرج البعد المناسب في الوضعية التالية مستعملا وحدتان (مم/صم)</p>   |
| 03  |  <p>1 - لون المسطرة فقط بقلم تلوين.<br/> 2 - إستخرج البعد المناسب في الوضعية التالية مستعملا وحدتان (مم/صم)</p>   |
| 02<br>02  | <p><b>الجزء الثاني: رسم ثلاثي الابعاد لـ " منصّة الفانزين " :</b></p> <p>1- لون الوجه العلوي على الرسم المنظوري.<br/> 2- ماهو إتجاه النظر المستعمل في هذا الرسم؟<br/> .....</p> <p>3- أعد إنجاز رسم ثلاثي الابعاد على الشبكة حسب المعطيات التالية:</p> <p>* وجه أمامي ABCDEFGH<br/> * يساري علوي (↖)<br/> * 45°<br/> * K= 0.5<br/> * السلم 1:1</p>  <p>الرسم المنظوري</p> |
| 04<br>04<br>02                                    | <p><b>ملاحظة: ** لقد وقع إنجاز جزء من الوجه الامامي. ** طول الخطوط المائلة يساوي 20 مم (4 مربعات)</b></p>  <p>نظافة الرسم والورقة</p>  |

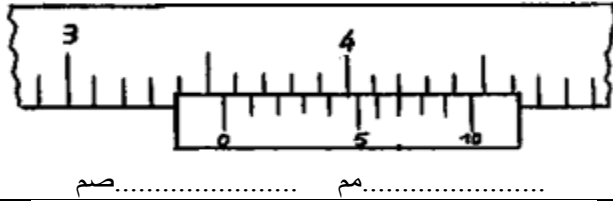
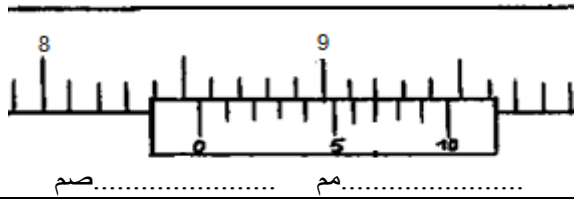
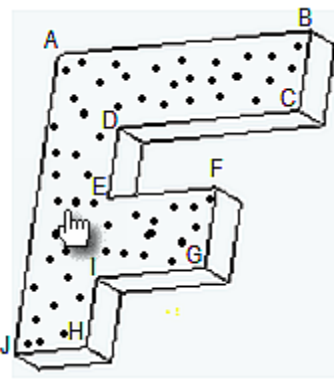




|   |  |   |
|---|--|---|
| الاسم:.....<br>اللقب:.....<br>الرقم:.....القسم:7 أ..... | اختبار كتابي في مادة<br>التربية التكنولوجية<br>التوقيت: 30 دقيقة<br>أفريل 2012 | المدرسة الإعدادية<br>محمود المسعدي<br>سببية |
| العدد: 20/.....   | الإعداد:<br>اساتذة التربية التكنولوجية   |   |

|  |  |  |
|--|--|--|
| ** الجزء الأول " استعمال القدم الزالقي " : |  |  |
| 03   |                         | 3 - لون المسطرة فقط بقلم تلوين.<br>4 - إستخرج البعد المناسب في الوضعية التالية مستعملا وحدتان (مم/صم)  |
| 03   |                         | 3 - لون المسطرة فقط بقلم تلوين.<br>4 - إستخرج البعد المناسب في الوضعية التالية مستعملا وحدتان (مم/صم)  |
| 02   |  <p>الرسم المنظوري</p> | الجزء الثاني: رسم ثلاثي الابعاد لمسطرة :<br>1- لون الوجه اليميني على الرسم المنظوري.<br>2- ماهو إتجاه النظر المستعمل في هذا الرسم؟<br>.....<br>3- أعد إنجاز رسم ثلاثي الابعاد على الشبكة حسب المعطيات التالية:<br>* وجه أمامي ABCDEFGH<br>* يساري علوي (↖)<br>* 45°<br>* K= 0.5<br>* السلم 1:1 |
| 04   | ملاحظة: ** لقد تم إنجاز جزء من الوجه الامامي. ** طول الخطوط المائلة يساوي 20 مم (4 مربعات)               |  |
| 04   |                      |  |
| 02   | نظافة<br>الرسم<br>و<br>الورقة  |  |



|   |  |   |
|---|--|---|
| الاسم:.....<br>اللقب:.....<br>الرقم:.....القسم:7 أ..... | اختبار كتابي في مادة<br>التربية التكنولوجية<br>التوقيت: 30 دقيقة<br>أفريل 2012 | المدرسة الإعدادية<br>محمود المسعدي<br>سببية<br>الإعداد:<br>اساتذة التربية التكنولوجية |
| العدد: 20/.....   |  |   |

|  |   |
|--|---|
| <p align="center"><b>** الجزء الأول " استعمال القدم الزالقي " :</b></p>  |   |
| <p>03</p>   | <p>5 - لون المسطرة فقط بقلم تلوين.<br/>6 - إستخرج البعد المناسب في الوضعية التالية مستعملا وحدتان (مم/صم)</p>   |
| <p>03</p>   | <p>5 - لون المسطرة فقط بقلم تلوين.<br/>6 - إستخرج البعد المناسب في الوضعية التالية مستعملا وحدتان (مم/صم)</p>   |
| <p>02</p>  <p align="center">الرسم المنظوري</p> | <p><b>الجزء الثاني: رسم ثلاثي الابعاد لقطعة مصنعة :</b></p> <p>1- لون الوجه اليميني على الرسم المنظوري.<br/>2- ماهو إتجاه النظر المستعمل في هذا الرسم؟<br/>.....</p> <p>3- أعد إنجاز رسم ثلاثي الابعاد على الشبكة حسب المعطيات التالية:</p> <p>* وجه أمامي ABCDEFGHIJ<br/>* يساري علوي (↖)<br/>* 45°<br/>* K= 0.5<br/>* السلم 1:1</p> |
| <p><b>ملاحظة: ** لقد وقع إنجاز جزء من الوجه الامامي. ** طول الخطوط المائلة يساوي 20 مم (4 مربعات)</b></p>                          |   |
| <p>04</p>                                      |   |
| <p>02</p> <p>نظافة<br/>الرسم<br/>و<br/>الورقة</p>  |   |



**b) Le pied à coulisse**

