

□ العدد: من 20

فرہی تالیفی عدد 01

السرية التكنولوجية

□ وېسبر 2011

التوقيت: 60 دقيقة

المسرح والإعلام

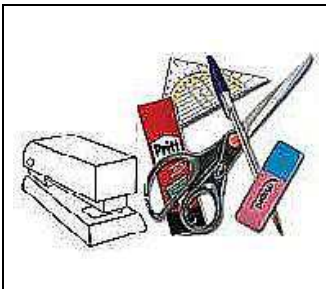
□۔ مصری سبب

الاعداد:

أساتذة التربية التكنولوجية

الجزء الاول:


س١: أذكر المجال الذي تنتمي إليه هذه المنتجات المتنوعة :



..... مجال



..... محال



..... مجال

س٢: ما معنى التكنولوجيا؟

الجزء الثاني: تتمحور بقية الاسئلة حول الموضوع التالي

تتلخص دورة حياة المنور العاكس منذ فكرة الاحتياج الاولى وهي ضرورة تمكين الاستاذ من عكس محتوى الورق الشفاف على الشاشة الى غاية المرحلة الاخيرة وهي الاتلاف في عشرة مراحل كاملة.


س1) المطلوب تعبير الجدول:



الرمز	إسم النشاط	التعريف
A..	التأكد من أن هناك حاجة للمنور العاكس
A..	صنع المنور العاكس في الورشات بكميات كبيرة و تخزينها
A ₃	تصور

سج: لدراسة هذا المشروع استعملت المؤسسة المصنّعة الحاسوب , أتمم الفرا

..... الوحدة المركزية: تعتبر

.....: تنشر المعلومات 

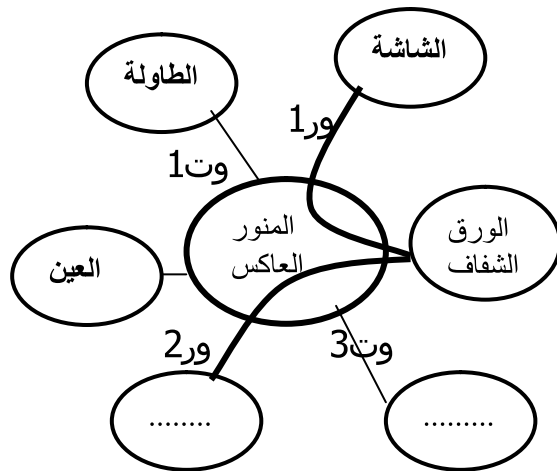
..... لوحة المفاتيح:

..... الطابعة:



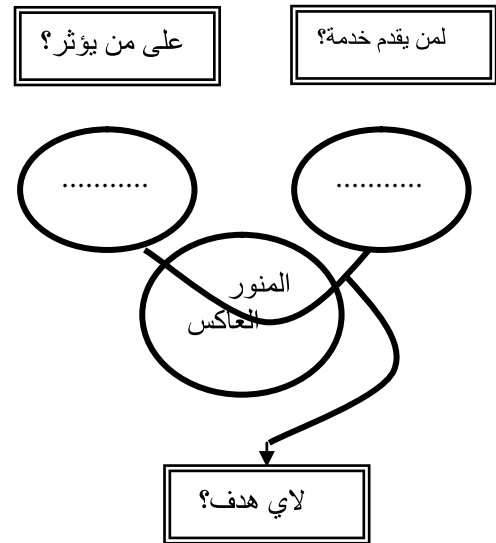
الجزء الثالث :

أتمم أداتي التعبير عن الحاجة والتعبير: الوظيفة لكل نفس المنتج



صغ الوظائف التالية:

- ورقة 1: يعكس.....محتوى.....على.....
 ورقة 2: يمكن المُنور العاكس الاستاذ من تكبير محتوى الورق الشفاف.
 ورقة 3: يشتغل المُنور العاكس بالطاقة الكهربائية.

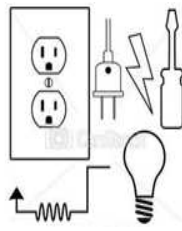


الجزء الرابع: خاصيات المواد المستعملة:

(س) تأمل جيدا الوضعيات التالية وأجب بما يناسب:

* طلب منك أبوك تغليف سلك كهربائي معطب داخل المنزل، هل تستعمل:

- ورق الألمنيوم للغرض.
- لفيفة بلاستيكية للغرض.



أشطب الخطأ وأعلل جوابي:

.....

* وجدت شخصا مصعوقا بالتيار الكهربائي، وقررت مساعدته هل:

- تسحب مباشرة.
- تستعمل قضيب نحاسي لإنقاذه.
- تستعمل قطعة خشبية لإنقاذه.



أشطب الخطأ وأعلل جوابي:

* طلب منك المساعدة لتحريك طعام ساخن، هل تستعمل:

- ملعقة خشبية
- ملعقة فولاذية
- ملعقة ألومنيوم

أشطب الخطأ وأعلل جوابي:

.....




* عثر على بقايا زورق تحت الماء، وقع إستعمال المبرد للتعرف على إسم المادة 1 و 2: أتمم:

1- المادة: نحاس

اللون:

2- اللون: أبيض فضي

المادة:



01
نظافة
الورقة
استعمال
الادوات
(الهندسية)