

الاسم واللقب .....	فرض تألفي عدد 1 المادة: التربية التكنولوجية	المدرسة الإعدادية حبيب ثامر باردو الأستاذ: : سفيان بومنجل 2016/2015
القسم 7 اساسي .....	التوقيت: 60 دقيقة	
الرقم: .....		

### المنتج: عجاجة الكهربائية



تقديم المنتج: تستعمل العجاجة الكهربائية من طرف المستعمل لعجن الطحين.

(1) أ- ما هو المجال الذي ينتمي له هذا المنتج : .....

(0.5 ن)

ب- قبل صناعة العجاجة الكهربائية ماذا كان يستعمل الإنسان لعجن الطحين

(0.5 ن)

(2) أردنا أن ندخل بعض التحويلات بهذه العجاجة الكهربائية لذا سنستعمل الحاسوب

(0.5 ن)


أ- ما هو المكون بالحاسوب الذي يمكننا من إدخال الصورة بالحاسوب: .....

(0.5 ن)

ب- كيف يمكن لنا إخراج الصورة من الحاسوب : .....

(1.5 ن)

(3) أكمل الفراغات باسم النشاط و رمزه



(4) أ- ما اسم هذه الأداة: .....


(2 ن)

ب- اتمم هذه الأداة العجاجة الكهربائية

(0.5 ن) الخدمات: .....

ب- أكمل الأداة التالية بما يناسب من عناصر ثم قم  
ربطها بالمنتج و قدم الصياغة المناسبة لكل منها

(2.5 ن)



(2 ن)

ور : ..... المستعمل من

وت 1 : ..... بالتيار الكهربائي

وت 2 : ..... ثمن

وت 3 : ..... عين الناظر



( 2.5 ن )

6 أ- أكمل الجمل التالية بما يناسب

المواد ..... هي مواد ..... للتيار الكهربائي و يمكن تصنيفها الى مواد .....  
وهي المواد ..... مثل ..... و مواد ..... و هي المواد .....  
مثال ..... أما المواد ..... هي مواد ..... للتيار الكهربائي

ب - ما هي العملية التقنية التي نقوم بها للتعرف على اللون الأصلي للمواد المعدنية : ( 0.5 ن )

( 2 ن )

7 أ - ما اسم عنصر التحكم المستعمل في الأمثلة التالية و قدم الرمز المناسب له

الرمز	اسم عنصر التحكم	
	.....	تحكم بجرس المنزل
	.....	العاجنة الكهربائية

( 0.5 ن )

ب - عند اشتراء عنصر تحكم نجد مكتوب عليه بعض الأرقام فما هو المقصود بـ :



..... : 250 V -

..... : 5 A -

( 2 ن )

8 أ- ما هو نوع مصادر الطاقة التالية و قدم الرمز المناسب لكل منها

الرمز	نوعية مصدر الطاقة	مصدر الطاقة
	.....	بطارية
	.....	مولد طاقة للدراجة

( 2 ن )

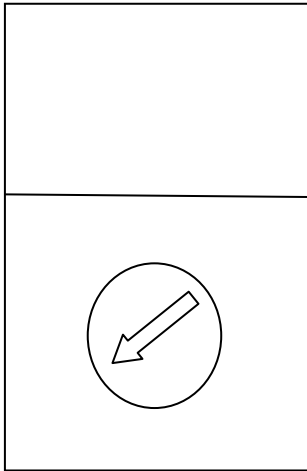
ب - لنعتبر الرسم التالي لجهاز الفولطمتر حدد :

..... : القراءة L -

..... : العيار C -

..... : السلم E -

استنتج قيمة الجهد  $U = \dots = \dots = \dots$



عملا موفقا

