





<b>Ecole Préparatoire Magel Bel Abbas, Kasserine</b> ***** <b>DEVOIR DE SYNTHESE N°1</b>  Informatique 	<b>Enseignant : Mr BAHLOUL Faiez</b>  <b>Date : 01/12/2014</b>   <b>Durée : 1 Heure</b> 
--	--

Nom & Prénom : .....	Classe.....Groupe .....	Note :..... /20
----------------------	-------------------------	-----------------

**Exercice 1: (2,5 points)**

Compléter les phrases par les mots convenables de la liste suivantes :

**Un CD / Stocker / Octet / capacité / le disque Dur.**

- Je peux ..... des données dans un support de stockage.
- La quantité d'information enregistré dans un support de stockage dépend de sa ....., cette dernière est mesurée en ..... et ses multiples.
- Le support de stockage principal de l'ordinateur est le .....
- Je peux utiliser .....pour enregistrer un film de taille **600 MØ**.

**Exercice 2 (4 points) :**

Mettre une **(x)** devant la ou les bonne(s) réponse(s) :

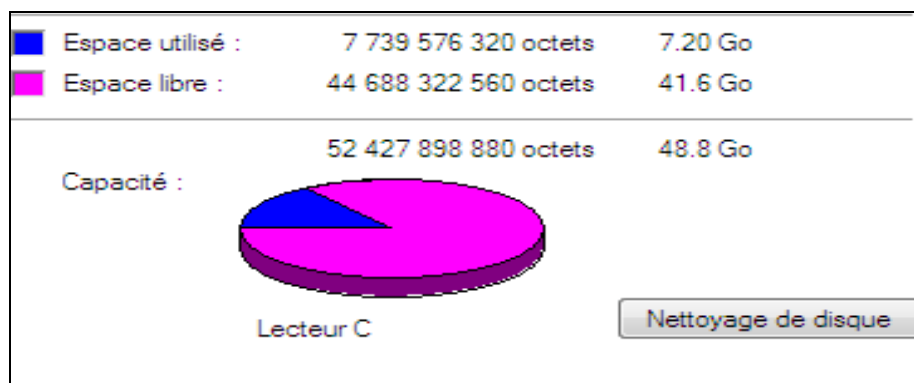
<b>❶ Un Disque Dur :</b> <input type="checkbox"/> Permet la lecture et l'écriture sur les CD <input type="checkbox"/> Possède une grande capacité <input type="checkbox"/> Peut être effacé	<b>❷ Un lecteur de CD permet :</b> <input type="checkbox"/> La lecture et l'écriture sur les CDs <input type="checkbox"/> La lecture seulement des CDs <input type="checkbox"/> L'écriture seulement des CDs
<b>❸ Un graveur DVD est un :</b> <input type="checkbox"/> Périphérique d'entrée <input type="checkbox"/> Périphérique de sortie <input type="checkbox"/> Périphérique d'entrée/sortie	<b>❹ Avec un CD-RW, les données gravées :</b> <input type="checkbox"/> peuvent être modifiées <input type="checkbox"/> ne peuvent pas être modifiées <input type="checkbox"/> doivent être des images

**Exercice 3 (5 points) :**

1. Ecrire le numéro de chaque support de stockage devant sa capacité :

N°	Support de stockage	N°	Capacité
1	Flash disque	.....	1,44 MØ
2	DVD	.....	700 MØ
3	CD	.....	2 GØ
4	Disquette	.....	4,7 GØ

2. La figure suivante représente les caractéristiques d'un support de stockage magnétique :



a) Quel est le nom de ce support de stockage ?

.....

b) Quelle est sa capacité totale ? .....

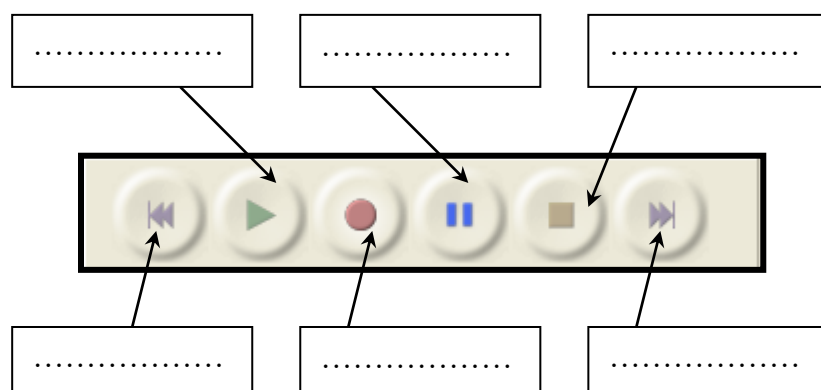
c) Exprimer en **Mo** l'espace libre ?

.....

d) Combien faut-il de **DVD** pour graver l'espace Utilisé ?

.....

**Exercice 4 : (2,5 points)** Remplir les vides en donnant le nom de chaque bouton :



**Exercice 5 : (6 points)** Compléter les vides puis Mettez en Ordre les étapes suivantes en mettant des numéros de 1 à 4:

**1. Pour créer un fichier son il faut:**

☐  
☐  
☐  
☐

Cliquer sur Le Bouton "ENREGISTREMENT".

Lancer le logiciel de traitement de son « ..... ».

Cliquer sur le Bouton "STOP".

Brancher un .....

**2. Pour exporter un fichier son au format WAV, il faut:**

☐  
☐  
☐  
☐

Cliquer sur le bouton "Enregistrer".

Choisir la commande ".....".

Saisir le nom du fichier et choisir l'emplacement.

Dérouler le Menu ".....".

