

المدرسة الإعدادية فرحات حشاد	فرض مراقبة عدد علوم الحياة و الأرض	السنة الدراسية: 2009/2008
الإسم و اللقب: 7 أساسي 2. الرقم:		

تمرين ع-1



عرّف المصطلحات التالية

عاريات البذور:

جهاز خضري:

تمرين ع-2

تبرز الوثائق التالية نباتين من مغطاة البذور. أكمل تعميم الجدول بما يناسب.

		
		عدد الأوراق
		نوع الورقة
		توضع الأوراق على الساق

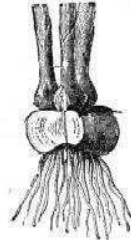
تمرين ع-3

تختلف النباتات الزهرية في سيقانها و أوراقها و جذورها

1- أذكر كل نوع من الجذور التالية



.....2



.....1



.....3

2- أذكر نوع كل هذه السيقان



.....1



..... 2



3- أذكر نوع كل ورقة معتمدا في ذلك الجدول

.....3

			
			حافة النصل
			توضع العروق داخل النصل

تمرين ع-III-د

تمثل الوثيقة التالية نبتتين زهريتين. صف هذين النبتتين معتمدا الجدول

النبتة ب	النبتة أ	
		
.....	الشعبة مع التعليل
.....	الصنف مع التعليل