

السنة الدراسية:
2012/2011
المستوى: 8 اساسي

فرض عادي عدد 03 علوم الحياة و الأرض

المدرسة الإعدادية بالكريب
الاستاذة: شراز التيلي

الاسم..... اللقب..... القسم..... الرقم.....

التمرين 1 عدد (03 نقاط) :

1. اجب بـ "صحيح" او "خطا" مع اصلاح الخطا إن وجد و ذلك بتغيير كلمة واحدة :

- للخروف اضراس عريضة مسطحة و هو حيوان عاشب فارض

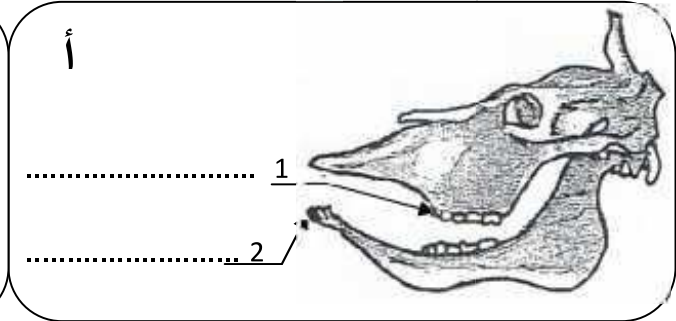
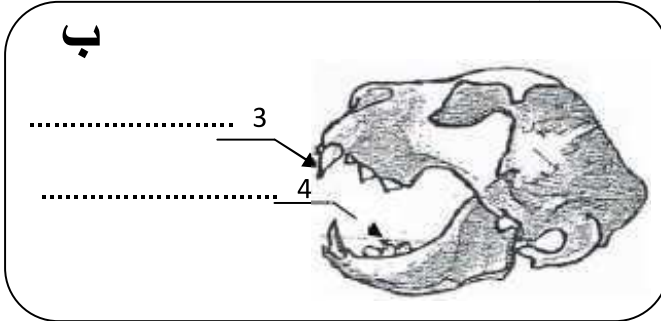
- لكل حيوان لائح انياب قوية مخروطية الشكل

- الحيوانات اللاحمة ليس لها انياب

التمرين 2 عدد (05 نقاط) :

تمثل الوثيقة التالية مجموعتين حيوانين فقريين:

حيوان "أ" و حيوان "ب":



1. اكمل بيانات هذه الرسوم :

2. تعرف إلى النظام الغذائي لكل حيوان مع تعليل الإجابة في هذا الجدول:

الحيوان	النظام الغذائي	التعليل
(أ)
(ب)

عرف المصطلحات التالية :

- ✓ السفاد:
- ✓ الالتاح:
- ✓ التفريخ:

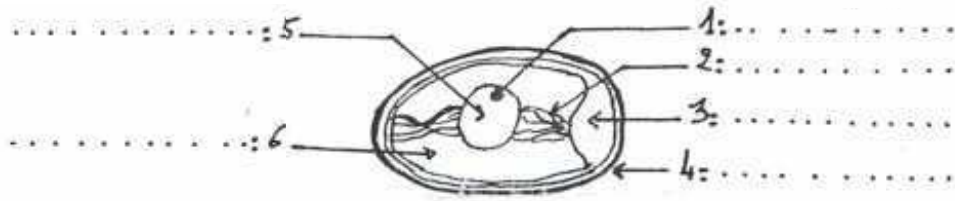
I. اذت عملية تربية الدواجن بالطريقة التقليدية إلى ظهور عدة سليات في حين انه مند الثمانينات عمد الفلاحون إلى استعمال طرق عصرية لتربية الدواجن:

1. اكمل الجدول التالي ذاكرة سليتين من سليات الطريقة التقليدية و طريقتين مكنتنا من تحسين إنتاج الدواجن معتمدا على ما درسته.

طريقة تحسين إنتاج الدواجن	سليات الطريقة التقليدية
•	•
•	•

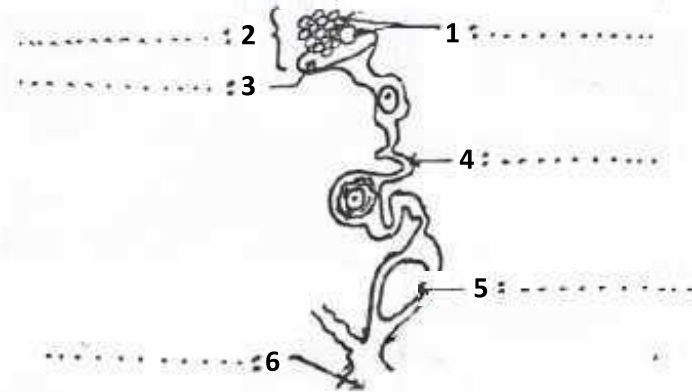
II. تتكاثر الطيور بالبيض.

1- اكمل بيانات الرسم التالي.



رسم مبسط لبيضة غير مخضبة

تتكون البيضة في الجهاز التناسلي الانثوي عند الدجاجة : اكمل بيانات هذا الرسم



2- اكمل الفقرة التالية بما يناسب من المصطلحات التالية:

- عند يقذف الدبك في الدجاجة الحيوانات المنوية و هي تمثل ذكورية تناسلية.
- تتحد نواة الحيوان المنوي مع نواة لتكون ، تسمى هذه العملية و يحدث ذلك المسالك التناسلية للدجاجة لذلك يسمى

تلقيح داخلي ، مقدرة ، السفاد ، البويضة ، خلايا ، الجنين ، داخل ، الإخصاب