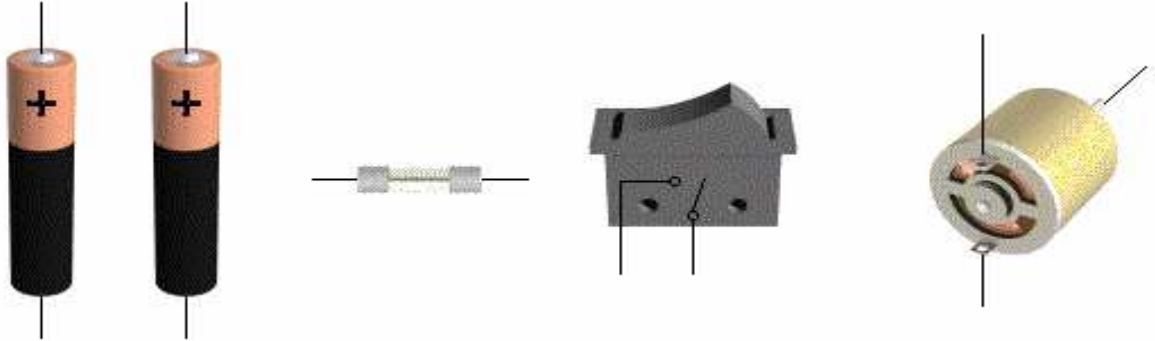
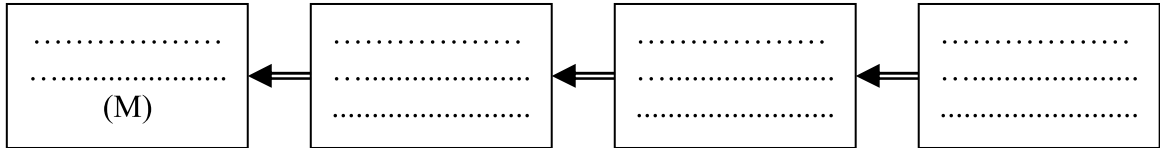


الإسم : اللقب :		اختبار كتابي عدد 2 في مادة التربية التكنولوجية		المدرسة الإعدادية حليمة الشعبوني-عقارب
/20	الرقم :	التوقيت: 15 دق	الضارب: 1	التاريخ:
	الفصل: 8 أساسي.....	الأستاذ : معز السماوي		

1- اربط مكونات الدارة: (2.5ن)




2- جزئ مكونات الدارة إلى كتل وظيفية: (4ن)



3- أكمل الجدول بما يناسب: (7.5ن)

المكونات	الكتلة	الوظيفة	الرسم المقنن
بطارية (3 V)	التغذية
.....	2 A
.....
محرك (M)

4- أكمل رسم الدارة الكهربائية باستعمال الرموز المقتنة: (4ن)



5- ادرج « امبيرمتر » و « فولتметр » لقيس جهد القابل: (2 ن)