

20/.....

الاسم: .....

اللقب: .....

القسم: 8 أساسي

الرقم: ....

فرض مراقبة 02-2022

التربية التكنولوجية

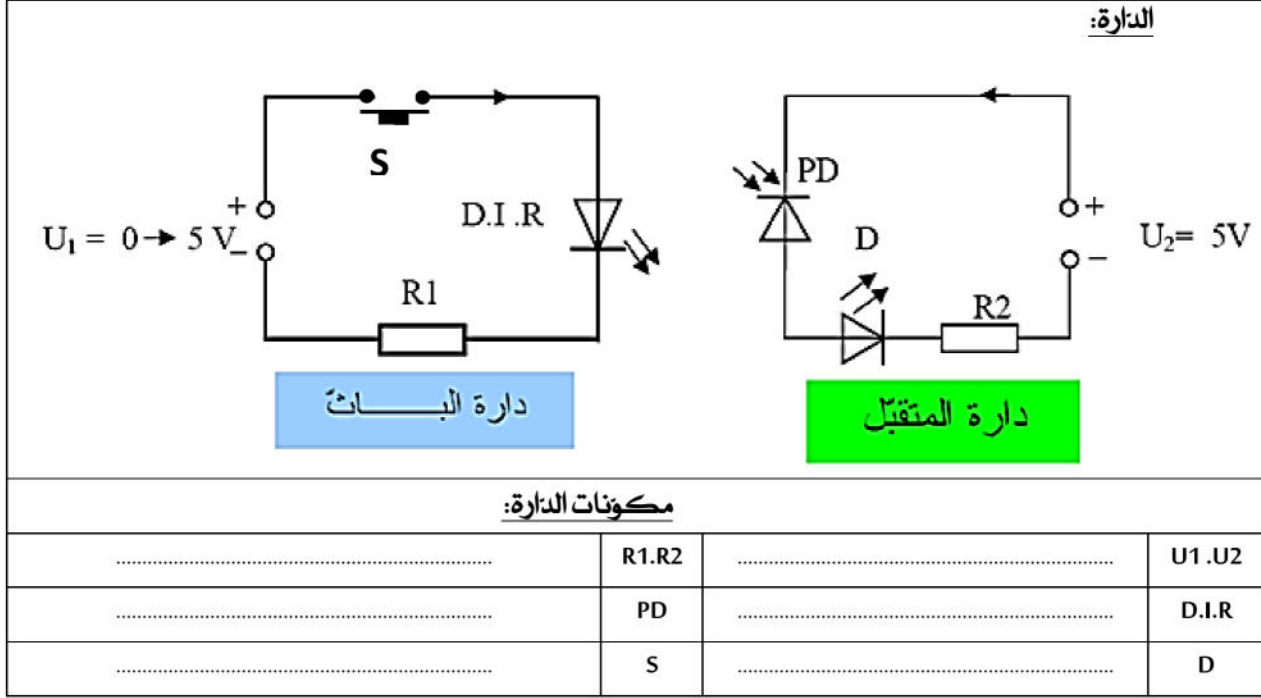
التاريخ: 2019/01/29\_ (التوقيت: 60 دقيقة)

معهد الناصر الفوز

بمقار

الأستاذ: مهدي لغمي

تمرين 1: أكمل الأسماء مكونات الدارة.



تمرين 2: أكمل الجدول التالي برموز المكونات.

الاسم	مقاوم	مقاوم متغير	محرك
الصورة			
الرمز			

الاسم	مصباح	صمام مشع	الجرس
الصورة			
الرمز			

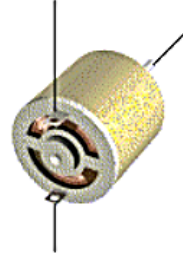
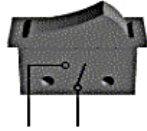


**تمرين 3:** ضع علامة (×): يستعمل التيار الكهربائي لتشغيل الأجهزة الكهربائية للحصول على:

الجهاز	الحرارة	الإثارة	الحركة	الصوت والمعلومات
مدفئة 				
حاسوب 				
مصباح كهربائي 				
محرك كهربائي 				

**تمرين 4:**

1- اربط بين هذه المكونات للحصول على دائرة كهربائية.



2- انجز الرسم البياني المقنن لهذه الدارة.

