

الإسم واللقب : .....

القسم : ..... الفوج : ..... ع/ر .....



/20

### إختبار كتابي 3

تربية تكنولوجية

8 أساسي:

الضارب: 1

مدة الإنجاز: 30 د

التاريخ:

إعدادية البساتين  
القصرين  
مخبر التكنولوجيا

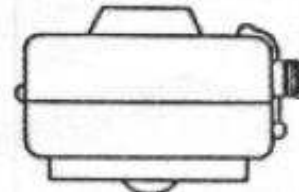
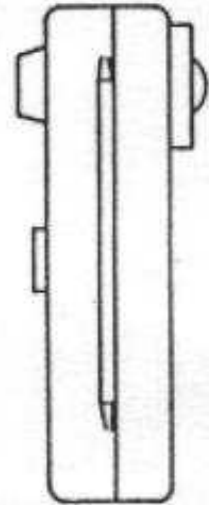
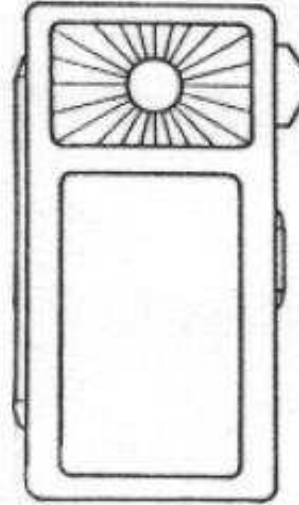
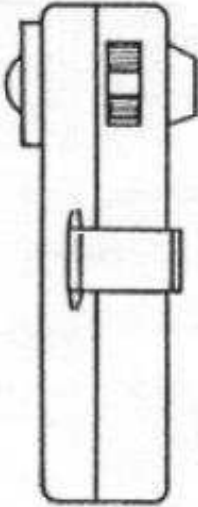
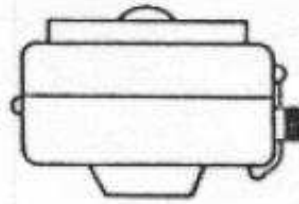
1- نقترح عليك مصباح جيب ممثل بخمسة مساقط منفصلة .

1-1- أرسـم خط الإنعكاس بين المسقطين اليساري والعلوي .

1-2- أبرز شاشة الإنارة بنفس اللون في كل المساقط التي تكون فيها ظاهرة .

5

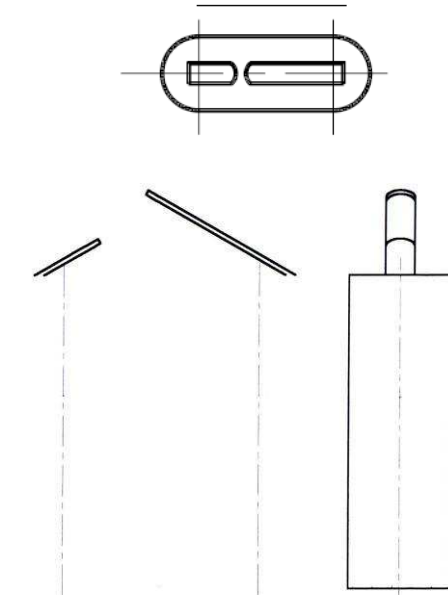
5



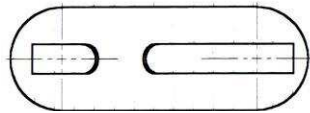
2- إستعن بالرسم المنظوري للعمود الجاف المستعمل في تغذية مصباح الجيب وسمّ المساقط الستة .



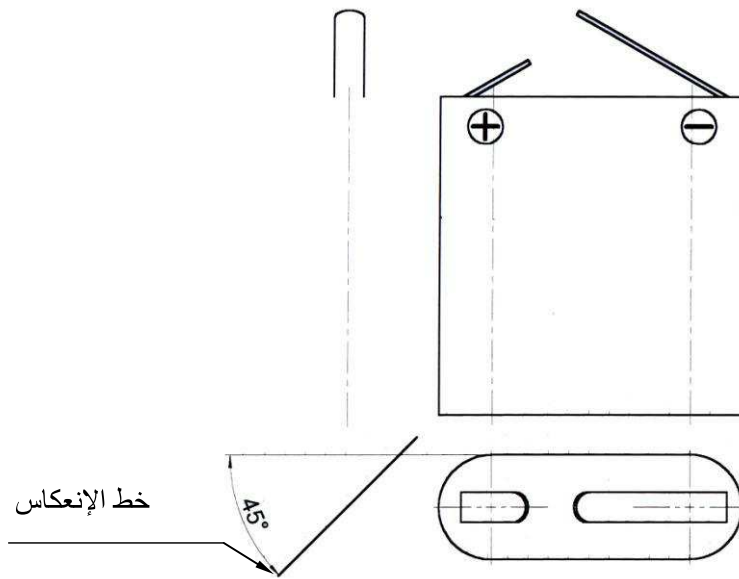
3



2



5



2-1- إستنتج السقط الرأسي من المسقطين المقدمين وذلك بمدّ خطوط عمودية وأفقية بين المساقط المتقابلة .

2-2- إستنتج المسقط اليميني من المسقطين المقدمين. تنقل الأبعاد بين المساقط المتقابلة عن طريق خطوط مساعدة أفقية ' وعن طريق خط الإنعكاس بين المساقط الغير متقابلة .