


6

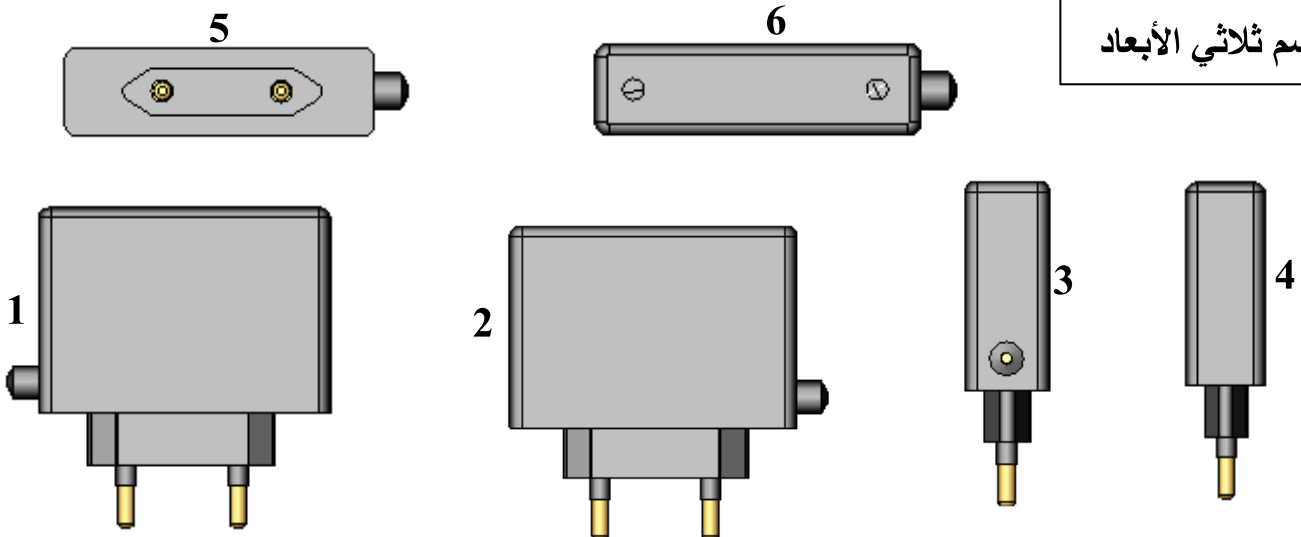
- تمرين عدد 1** أ - تعرّف إلى هذه الجهة من الدارة المطبوعة و اذكر اسمها . إجابة : جهة أو الجهة
- ب - اشرح ماذا يجري في المرحلتين التاليتين من مراحل الدارة المطبوعة وما هي الأدوات و المواد التي نستعملها ؟
- التشميس.....
-
- التنظيف.....
-

تمرين عدد 2 أتأمل مساقط شاحن بطارية الهاتف النقال واكتب في الجدول اسم كل مسقط مع اعتبار الرسم عدد 2 مسقطاً رأسياً

.....	4	مسقط.....	1
.....	5	2
.....	6	3

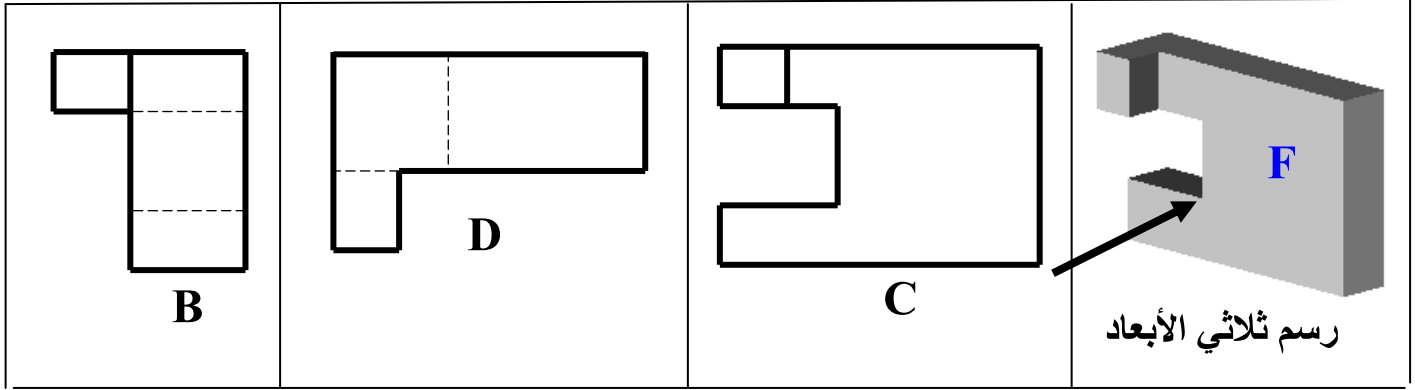


6





تمرين عدد 3 أشاهد الرسم الثلاثي الأبعاد و مساقط القطعة الموائية وأكمل تعمير الجدول الموائي بكتابة الرمز المناسب تحت كل مسقط المساقط



المسقط العلوي	المسقط اليميني	المسقط الرأسي
.....

تمرين عدد 4 بعد مشاهدة الرسم الثلاثي الأبعاد أكمل المسطتين اليميني و العلوي للقطعة التالية.

