

الاسم: .....	موضوع مراقبة رقم 1 في مادة التكنولوجيا	المدرسة الإعدادية دار فضال سكرة
اللقب: .....	8 أساسي ....	
التاريخ: 2011/5/...	العدد: 20/.....	المدة: نصف ساعة
		الأستاذة: معاد حمادي

هام : \* قبل الشروع في الإجابة أحرص على قراءة الاختبار كاملا \*يمنع تبادل الأدوات \* احرص على استغلال كامل الوقت

التمرين الأول: (2.5 نقاط)

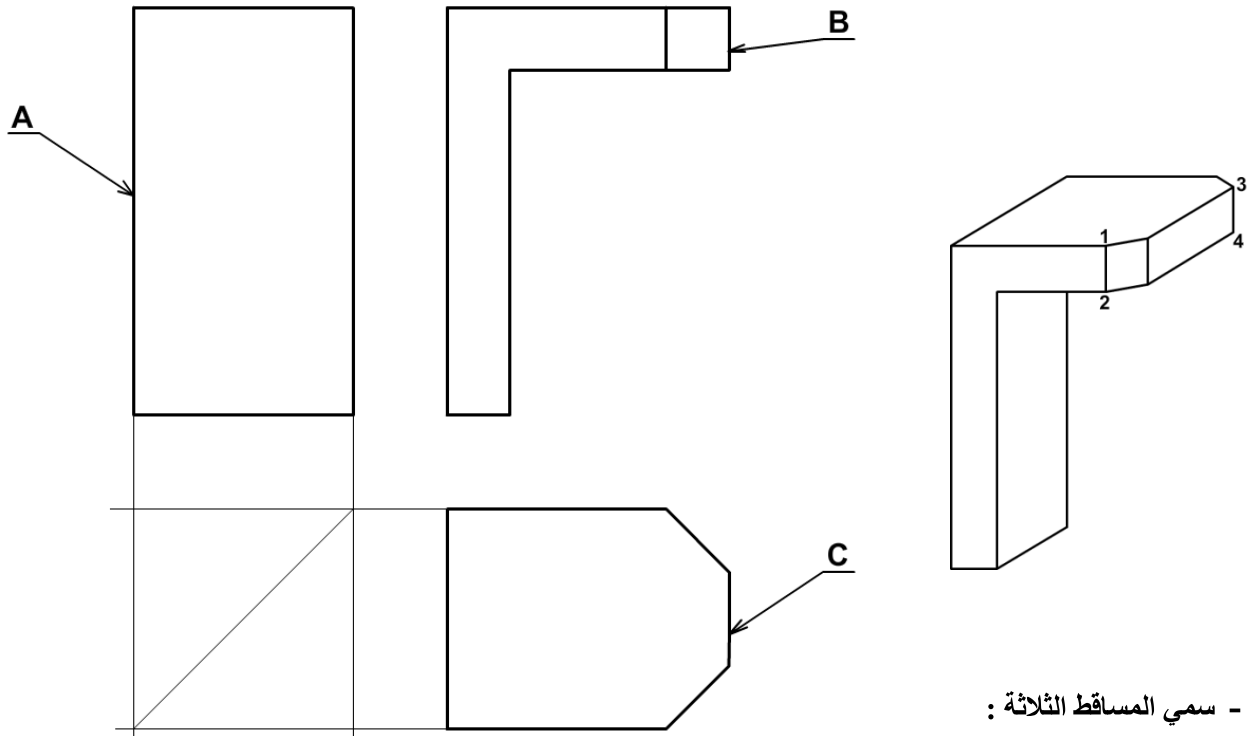
(1) أجب بنعم أو لا على المقترحات التالية:

- ترسم الأضلاع الظاهرة بالخط الرقيق المتقطع (.....)
- تكون الوثائق التقنية ذات مقاس A4 أكبر من مقاس A3 (.....)
- تكتب أسماء المساقط في الرسم التقني فوق المسقط (.....)
- يرسم المسقط الخلفي أسفل المسقط الرأسي (.....)
- المسقط الرأسي و اليميني و اليساري والخلفي ترسم على نفس الخط الأفقي و لها نفس الطول (.....)

(10.5 نقاط)

(2) إنطلاقا من الرسم المنظوري للقطعة التالية،

- 1 - لون في الرسم الشامل الظاهر في القطعة 1 و 2 بلون مختلف في المسطتين
- 2 - لدينا رسم تعريفي في ثلاثة مساقط ورسم منظوري لحامل الكاشف رقم 1:



أ - سمي المساقط الثلاثة :

- A .....
- B .....
- C .....

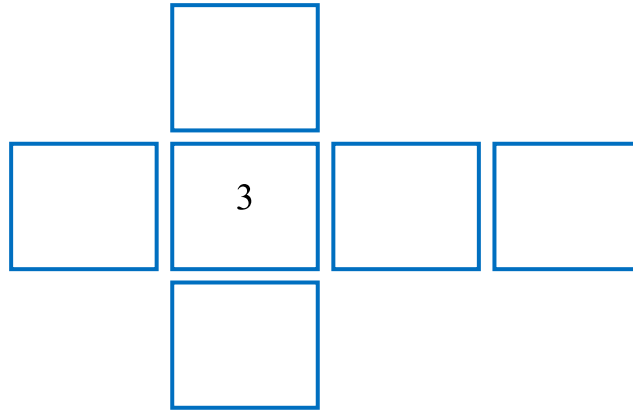
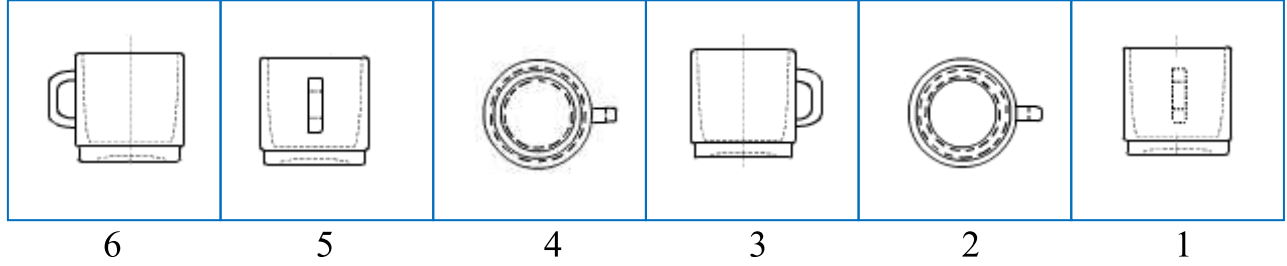
ب - أتمم رسم المساقط A و C .

## التمرين الثاني: أكمل الجمل التالية بما يناسب. (7 نقاط)

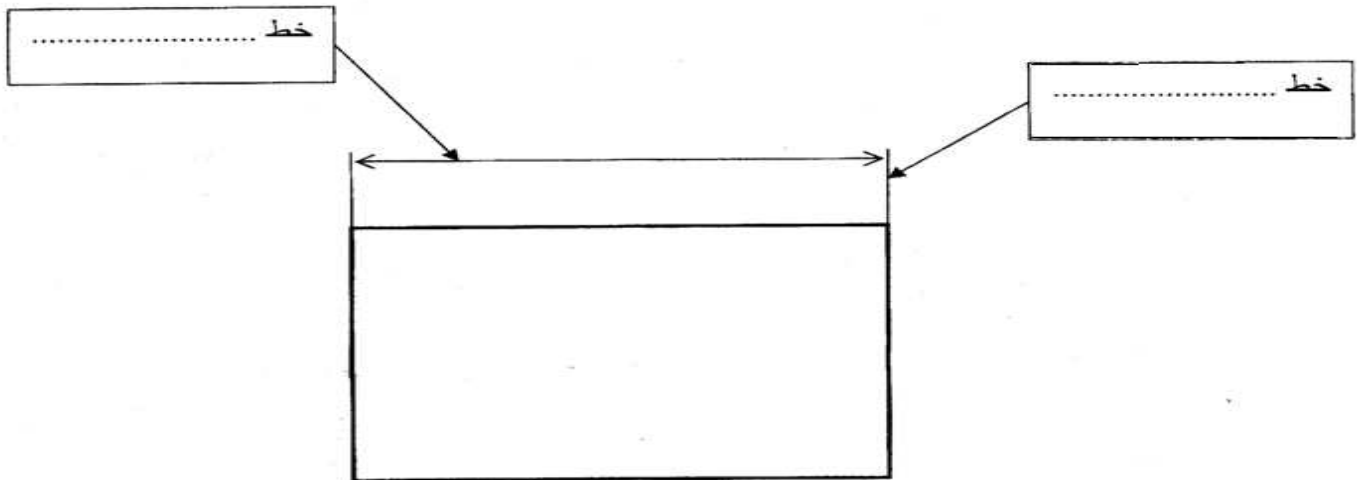
- ننظر من ..... و نرسم المسقط اليميني على ..... المسقط الأمامي.
- ننظر من ..... و نرسم المسقط السفلي على ..... المسقط الأمامي.
- للتمييز بين المساقط نسمي المسقط حسب .....

### التمرين الثالث:

- أ- يمثل الرسم التالي ستة مساقط غير مرتبة للكأس.
- أضع رقم كل مسقط في مكانه المناسب.



ب ( اكمل تكميرا لفراغات باستعمال العبارات التالية :عمودي ... البعد ... أفقي ... التحديد



إذا كان البعد ..... فان الأرقام تكتب فوق خط البعد

إذا كان البعد ..... فان الأرقام تكتب على يسار خط البعد