

**السند**

تمثل الصورة محطة ارضية شخصية للرصد الجوي يمكن لاي شخص شراءها ووضعها في حديقة منزله ليتعرف على حالة الطقس لاسبوع ( الضغط الجوي \* سرعة الرياح \* اتجاه الرياح \* الحرارة \* الامطار \* ) تسجل المعلومات التي تلتقطها المحطة في قرص ليزري خاص DVD موصول بها . يتصل هذا القرص بالحاسوب لمعالجة المعلومات و اعطاء نتائج حالة الطقس لاسبوع.



تتحمل هذه المحطة العوامل المناخية وتستشعرها و تقيسها بدقة . ثمنها مناسب حوالي 200 دينار . وتشتغل بخمسة اعمدة جافة ذات V1.5

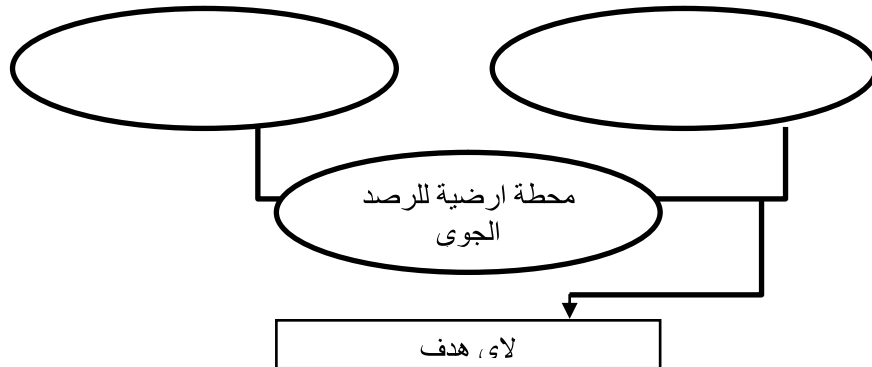
**السؤال الاول**

اتتم اداة التعبير عن الحاجة الى محطة الرصد الجوي

/1.5

علم من يؤثر عند استعماله؟

لمن يقدم الخدمة؟

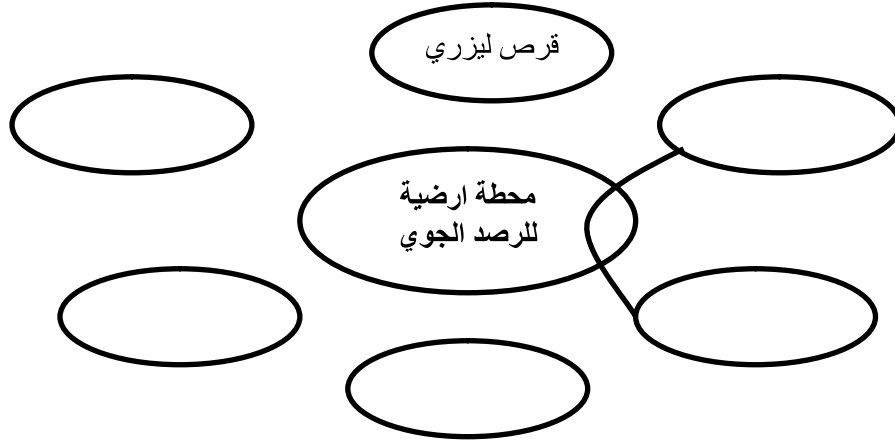


/1

تمكن المحطة الارضية للرصد الجوي المستعمل من.....حالة الطقس بدقة المنتج  
الهدف .....

السؤال الثاني اتم اداة العبير عن الحاجة الى المحطة الارضية للرصد الجوي مستعينا بالسند لمعرفة العناصر الخارجية و وضعها في محيط استعمالها

/3



/10

السؤال الثالث

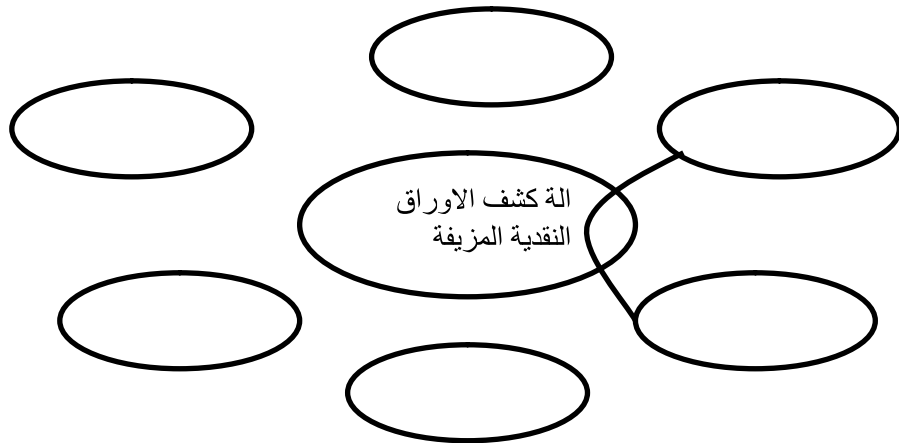
اتم جدول وظائف الخدمات و خصائصها مستعينا بالسند

الرمز	الوظيفة	المعيار	المستوى	الليونة
ور	تمكن ..... المستعمل من معرفة ..... بدقة	المدة	.....	.....
وت1	..... المحطة الارضية للرصد الجوي ب..... بسهولة	سهولة الاتصال	.....	.....
وت2	تشتغل.....	.....	.....	V1 -+ 0.1 -+
وت3	تستشعر و تقيس المحطة الارضية للرصد الجوي.....	.....	1 الى 90مليمتر 5 الى 45 عقدة	0.5-+ عقدة -+
وت4	.....	الثمن	.....	.....

السؤال الرابع

/4.5

/4



/10

ناصيات وظائف الخدمات لالة كشف الاوراق النقدية المزيفة

الرمز	الوظيفة	المعيار	مستوى	الليونة
ور	تمكن..... الصراف من كشف.....	.....	ثانية	.....
وت1	تشتغل.....	.....	...220V... ....2A.....	.....
وت2	تصدر.....صوتا عند.....	القوة	50DB	.....
وت3	يكون..... مناسبا.....	الثلث	.....	50-+
وت4	..... .....	الشكل	..... ابيض وبني	.....

## السؤال الثاني

من اي صنف من اللدائن البلاستيكية تصنع آلة كشف الاوراق النقدية المزيفة و ما سبب ذلك؟  
الصنف.....  
السبب.....  
.....  
.....

توضع هذه الالات داخل علب محمية بصنف من اللدائن البلاستيكية. اذكر هذا الصنف و سبب اختياره؟

الصنف.....  
سبب اختياره.....  
.....

حظ سعيد