

المدرسة الإعدادية فطومة بورقيبة	فرض تألوفي عدد 2 في التربية التكنولوجية		8 أساسي.....
الأستاذ : حسان السايحي			الاسم:.....
التاريخ:			اللقب:.....
	التوقيت: 60دق	الضارب: 1	

20

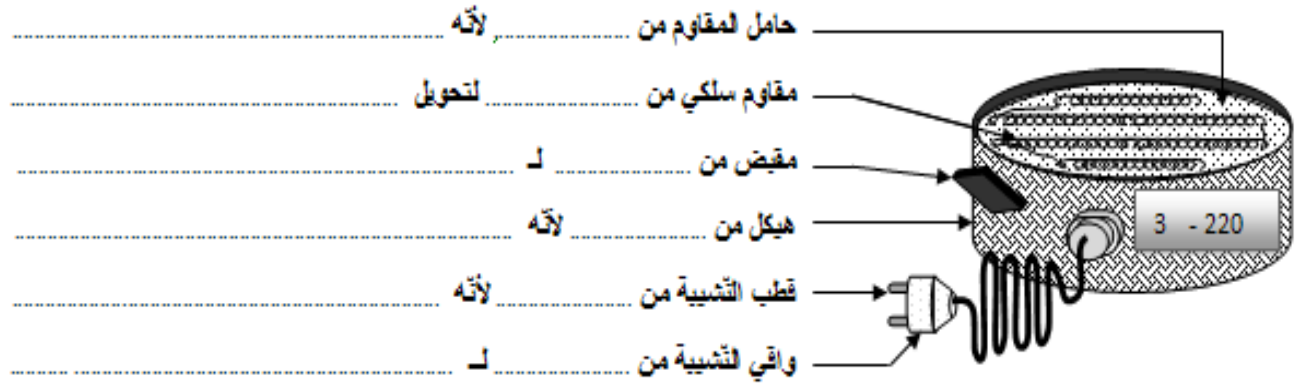
ملاحظة: نظافة ورقة الامتحان (1 نقطة)

سؤال ع 1 دد : 3ن


أكمل الفقرة التالية : " تتكوّن الدّارة الكهربائيّة من مصدر تغذية لـ بالطاقة الكهربائيّة، جهاز لحماية الدّارة من التّيار الكهربائي، جهاز تحكّم لـ في الدّارة ، لنقل التّيار الكهربائي من إلى وممتقل لتحويل الطاقة إلى طاقة ضوئيّة، طاقة ، طاقة ، طاقة " .

سؤال ع 2 دد : 6ن

1 - من بين الموادّ التالية (رخام ، بلاستيك ، نحاس ، نيكال ، فولاذ مطلي ، باكليت ، بلّور ، خشب) ، اذكر المادّة المستعملة لصنع كلّ مكوّن من مكوّنات السخّان الكهربائي ، علّل جوابك بتحديد بعض الخصائص مثل (ناقل للكهرباء ، عازل للحرارة)



2 - السخّان الكهربائي هو جهاز تقني يحتوي على متقليل كهربائي. ما هو نوع المتقليل ؟ ما هي الطاقة التي يتقبلها ؟



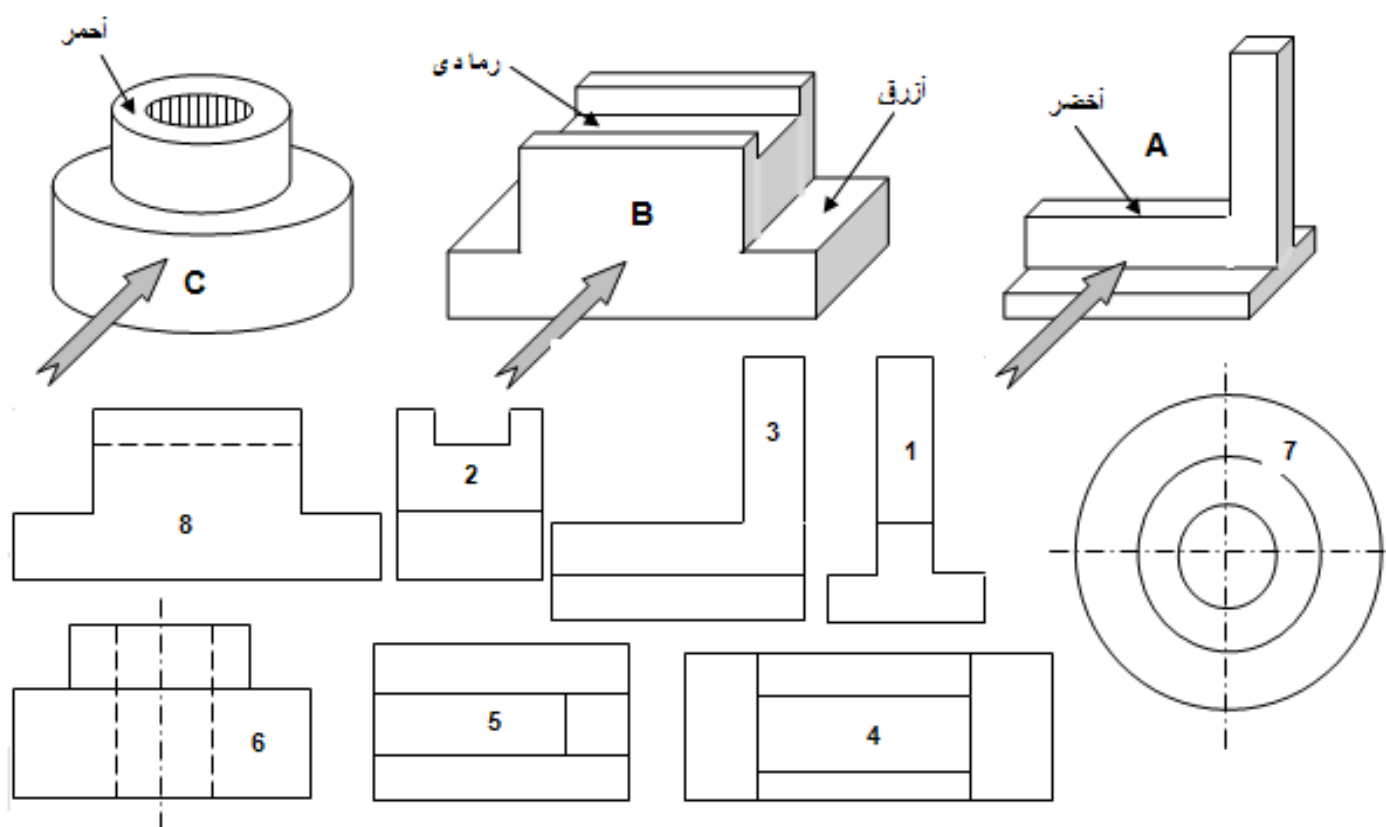
3 - أقرأ الخصائص الكهربائيّة للسخان : 220 V : : 3 A :

سؤال عـ 3 دد: 10

1- حدد المسقط الرأسى، اليسارى و العلوى للقطع

فى الجدول التالى

2 - لون بالألوان المحددة الأضلاع والمساحات على المساقط المناسبة



الرسم المنظوري	الرسم A	الرسم B	الرسم C
المسقط الرأسى	-----	-----	-----
المسقط العلوى	-----	-----	-----
المسقط اليسارى	-----	-----	-----