

المدة : 60 دقيقة

المستوى : 8 أساسي

فرض تأليفي عدد 02

المدرسة الإعدادية الرياض جربة

الأساتذ : الهادي بوسنة

التاريخ :/...../20

المادة : التربية التكنولوجية .

الاسم : اللقب : القسم : الرقم :

20

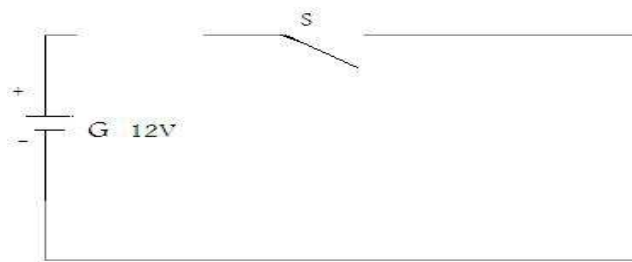
المنتج : آلة ثقب محمولة:



التعريف : هي آلة لثقب المواد ، تشتغل بالبطارية .

التقبل في جهاز تقني

- (1) - أتمم الرسم البياني المقنن لدارة آلة الثقب بإدراج رمز المتقبل المناسب ورمز الصهيرة :
- أذكر وظيفة الصهيرة في هذه الدارة :



- (2) أتمم الجدول التالي بوضع علامة (x) في المكان المناسب .

المنتج	الرمز المقنن	الطاقة التي يتقبلها				الطاقة التي يوفرها		
		كهربائية	أخرى	ضوئية	حرارية	ميكانيكية	صوتية	
آلة ثقب محمولة								

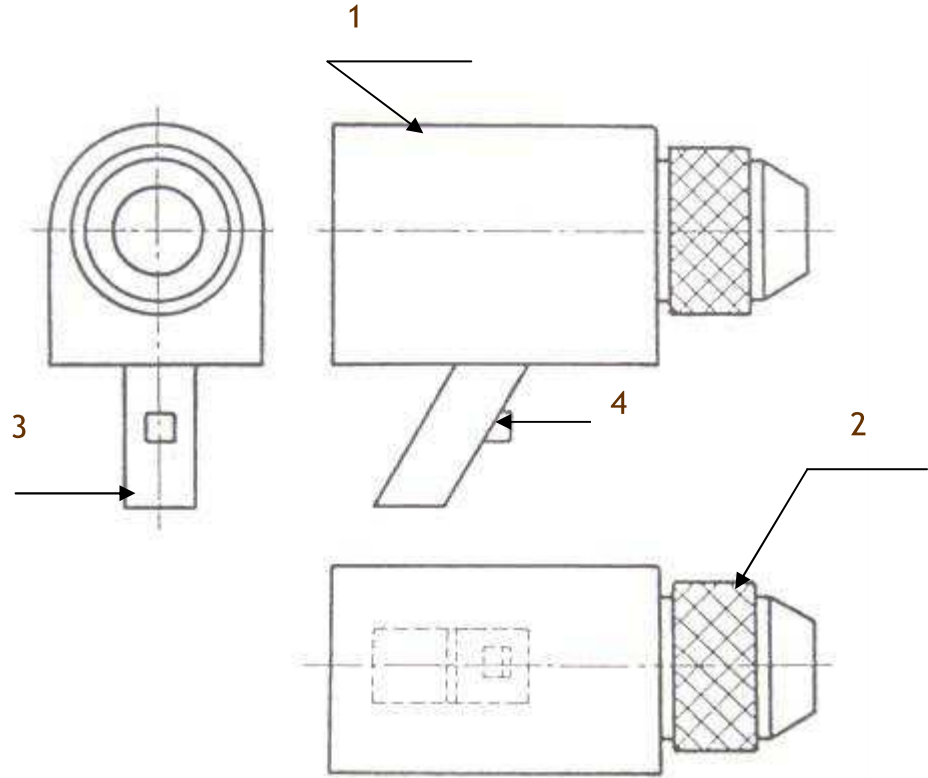
7

التعبير البياني: الرسم الشامل.

تأمل الرسم الرسم الشامل لآلة الثقب المحمولة ،

1 : لون الممسك 2 باللون الأخضر في المساقط الثلاثة

2 : أتمم جدول البيانات أسفله بالمعلومات اللازمة



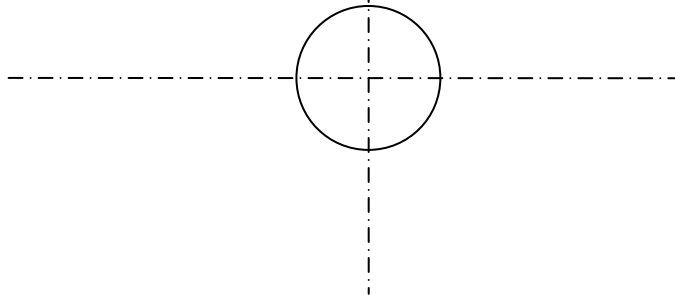
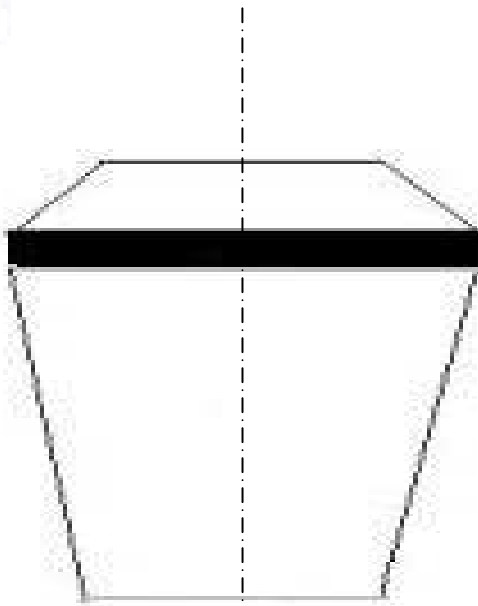
4	زر التشغيل	بلاستيك	
3	مقبض	بلاستيك	
2	الممسك	فولاذ	
1	الهيكل	بلاستيك	
الرقم	التسمية	المادة	الملاحظات

المدرسة الإ... حادية :

الإسم :	المنتج:	السلم : 1: 1
اللقب :		
القسم :		الرقم :

التعبير البياني: الرسم التعريفي

- 1 (أتمم رسم المسقط الرأسى والمسقط العلوى المبسطين للممسك 2 .
- 2 (أنجز الترقيم المناسب ، علما أن السلم المستعمل هو 1:1 .



4

4

8