

الاسم و اللقب:

فرض تألّفي عدد1

م 1 الطاهر صفر المروج 3

القسم 9 أساسي 3_2_1

علوم الحياة و الأرض

الأستاذة: راضية السنوسي

الجزء الأول (12 نقطة)

تمرين عدد1 : أجب بصواب أو خطأ و أ صلح الجمل الخاطئة (5 نقاط)

❖ يملك الضفدع النخاعي مركزا عصبيا واحدا وهو الدماغ

.....

❖ تحتوي المادة السنجابية على ألياف عصبية

.....

❖ عصب النسا عصب مزدوج

.....

❖ خلال الفعل الانعكاسي تنتقل الاليف الحركية السائلة من المستقبل الحسي إلى المركز العصبي

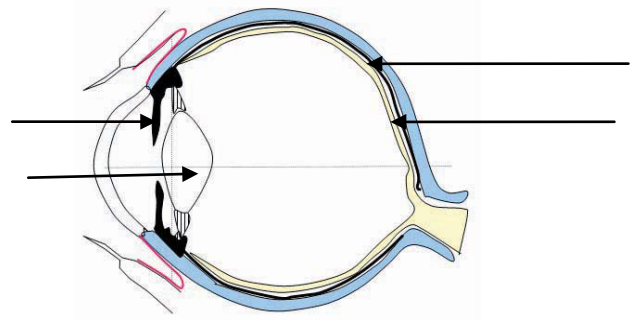
.....

❖ الفعل الانعكاسي هو دائما ودّ فعل تجاه منبه خارجي أو داخلي

.....

تمرين عدد2 : (4 نقاط) يمثل الرسم التالي مقطعا أماميا خلفيا للعين

❖ ضع بيانات الرسم



تعمل العين مثل آلة التصوير لأنهما يملكان مكونات متشابهة من حيث الدور.



❖ حدّد نوع الصّورة التي تكوّنها العين :.....

❖ يمثّل الجدول التالي مقارنة بين العين و آلة التصوير , املأ فراغاته

الوظيفة	أجزاء آلة التصوير	أجزاء العين
.....	1
.....	2
.....	3
.....	4

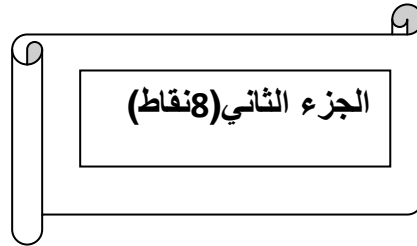
تمرين عدد 3: (3 نقاط) أجب الافادة أو الإفادات الصّحيحة .

✓ الصّلبة : غشاء أسود رقيق _ غشاء أبيض سميك _ غشاء شفاف رقيق

✓ العصب البصري : عصب حركي _ عصب حسي _ عصب مزدوج

✓ الجسم البلوري : عدسة محدّبة الوجهين _ عدسة مقعّرة الوجهين _ وسط شفاف

✓ الشبكية : غشاء رقيق شفاف _ ترسم عليها الصورة _ عضلة منقّدة



1_ لديك صديقا مصابا بداء السكري ذهبت معه لیتلقی حقنة "الأنسولين" فلاحظت أنّ الممرض یبعد الحقنة

عن عينيه لیتمکن من قراءة الأرقام جيّدا و تحديد الكميّة .

✓ حدّد العيب البصري الذي يعاني منه الممرض :.....

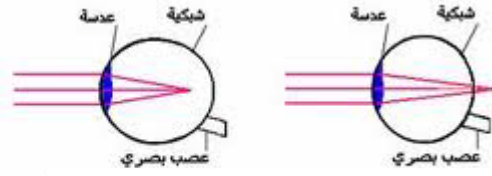
✓ علّل إجابتك معتمدا على النصّ :.....

✓ حدّد أسباب العيب :.....

.....



✓ أخط العين المناسبة لهذا العيب:



2_ وخزت الإبرة اليد اليمنى للممرض فجذب يده بسرعة

✓ حدد ممّا يلي العناصر المتدخّلة في هذا الفعل الانعكاسي

عصب النّسا_ عضلة اليد اليمنى _ النخاع الشوكي _ الدّماغ_ العصب الرابط بين اليد اليمنى و
النخاع الشوكي_ عضلة اليد _ الجلد _ الشبكية

✓ حرّر فقرة تصف من خلالها مسار السيالة العصبية خلال هذه الحركة

.....

.....

.....

.....

3_ عند خروجكم من محلّ التّمرّض شعر صديقك بالجوع فتناول طبق أرز

✓ تعرّف بعض المكونات الغذائيّة البسيطة للأرز من خلال التجارب التالية

التجربة	رشاحة الأرز + محلول الفهلنق + التسخين	الأرز + التسخين	أرز + ماء اليود
النتيجة	راسب أحمر اجري	البخار
الاستنتاج	يحتوي الأرز على النّشا

✓ هل بإمكان صديقك تناول هذا الطعام

.....



