

الاسم :	اختبار كتـــــــــــــــــابي	المدرسة الإعدادية
اللقب :	عـــــــــــــــــد 1	تمرة
القسم : 9 أساسي	العدد :	المادة : تربية تكنولوجيا
الرقم :		أعداد : أنور بن مالك



قلم تخزين

كراس الشروط الوظيفي لقلم التخزين

/2

أتمم الفراغات التالية:

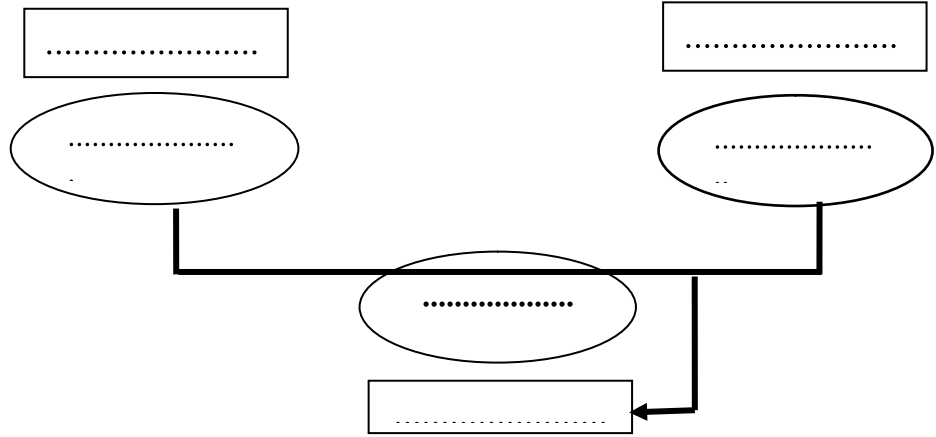
ⓐ : لاحظنا أن الأجهزة المتوفرة في السوق لا تلبي حاجة المستعمل من حيث أنه باهظ الثمن ومتوسط الجودة.

ⓑ الطلب: يندرج هذا المشروع في إطار حاجة إلى تخزين المعلومات.

ⓒ يصنع في المصنع.

ⓓ أعبر عن الحاجة إلى باستعمال أداة التعبير عن الحاجة

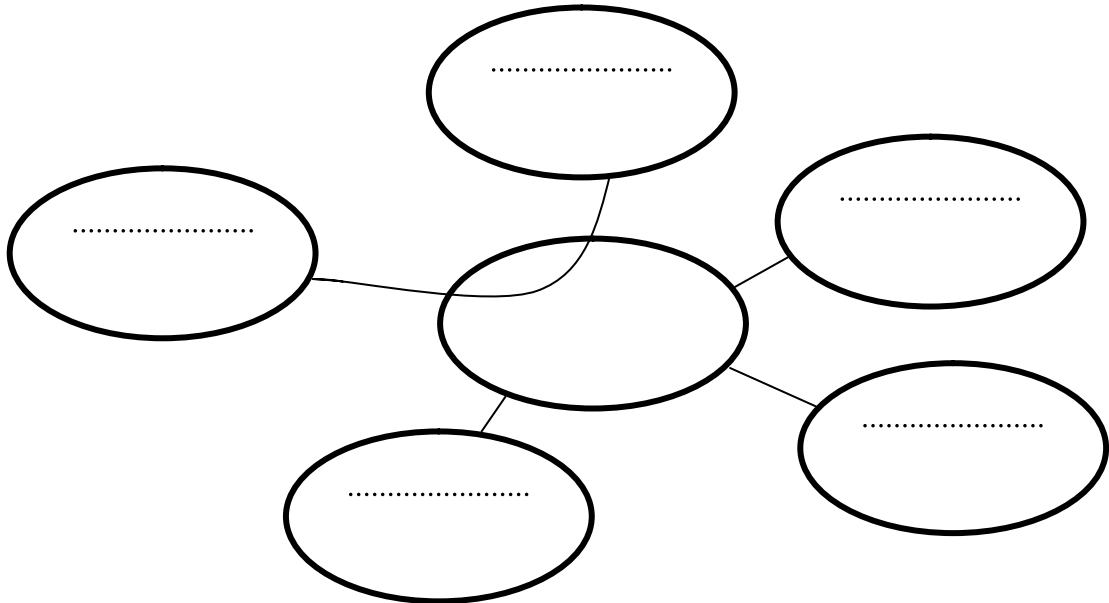
/4



أعبر عن الحاجة بـ:

ⓐ تتم أداة التعبير الوظيفي معتمدا على كل الوثيقة؟

/4

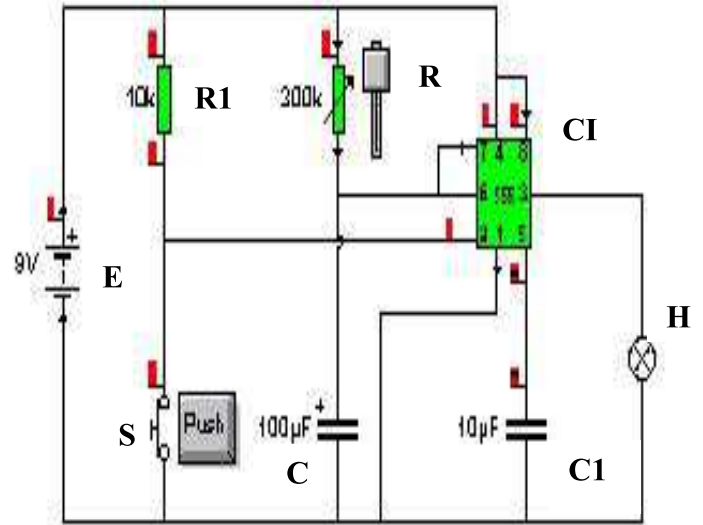


أكمل الجدول التالي متمما صياغة الوظائف ومحددا خاصياتها؟

الترتيب	الرمز	الوظيفة	المعيار	المستوى	الليونة
01	ور	20G	± 1 octet
02	وت2	سلامة تامة	
03	وت3	5V 30mA	$\pm 0.5V$ $\pm 0.1mA$
04	وت1	غ ± 0.1

أتمم أسماء المكونات لدارة المؤقت الالكتروني:

المكون	أسم المكون
R
C
H	مصباح
CI
S
E	مصدر تغذية



ضع علامة في الخانة المناسبة:

- ☐ مدة إضاءة المصباح هي مدة : شحن المقاوم R ☐ شحن المكثف C1 ☐ شحن المكثف C
☐ لتغيير شدة التيار الكهربائي : نغير قيمة R ☐ نغير قيمة المكثف C1 ☐ نغير قيمة R1

عملا موفقا