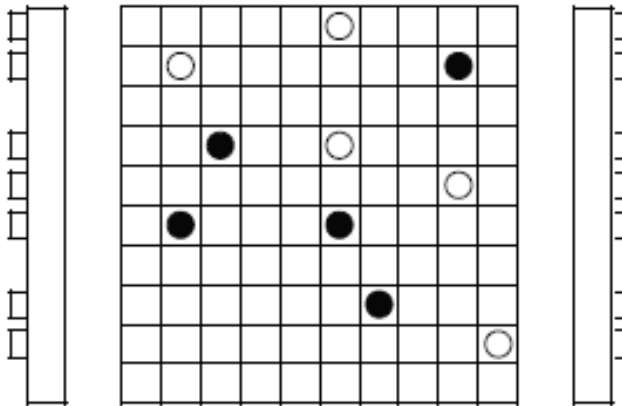
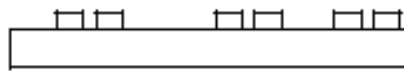
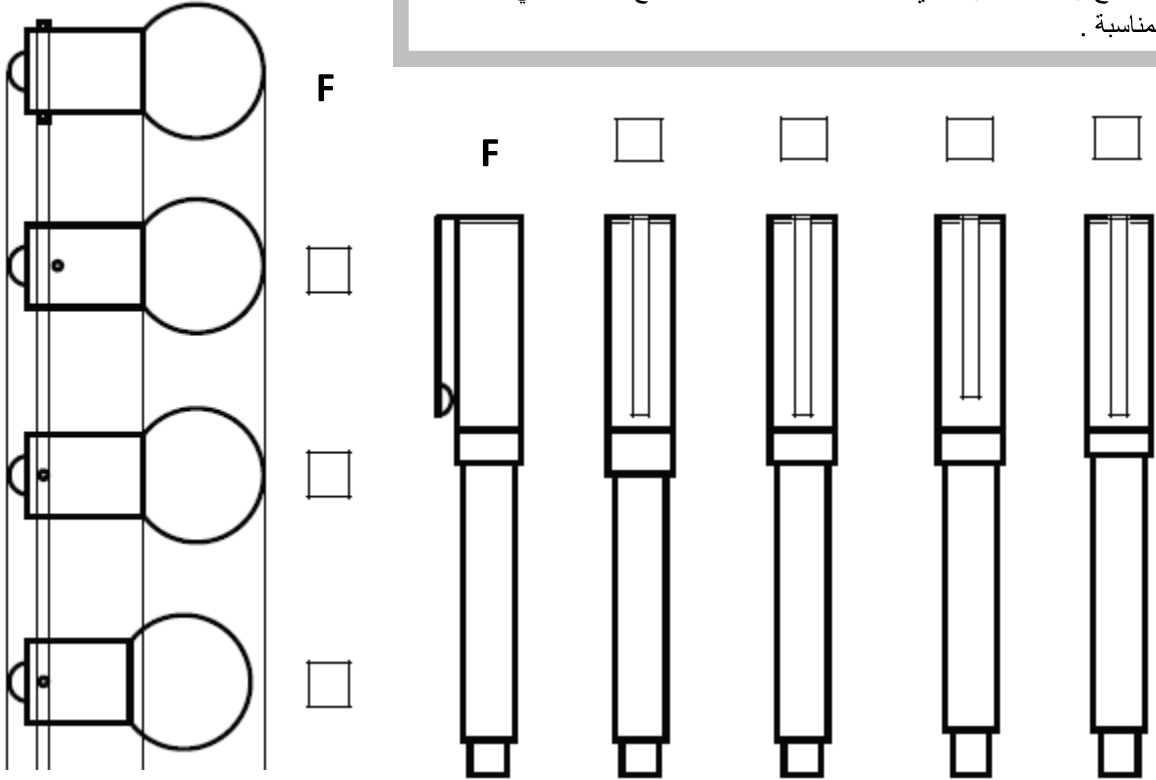


الإسم واللقب : القسم : الفوج : ع/ر <div style="display: flex; align-items: center;"> <div style="border: 1px solid black; padding: 5px; margin-left: 10px;">/20</div> </div>		<h2 style="margin: 0;">إختبار كتابي 2</h2> <p style="margin: 0;">تربية تكنولوجية</p>		<div style="border: 1px solid black; border-radius: 50%; padding: 10px; width: 150px; margin: 0 auto;"> <p style="margin: 0;">إعدادية البساتين القصرين مخبر التكنولوجيا</p> </div>	
التاريخ:		مدة الإنجاز: 30 د		الضارب: 1	
9 أساسي :					

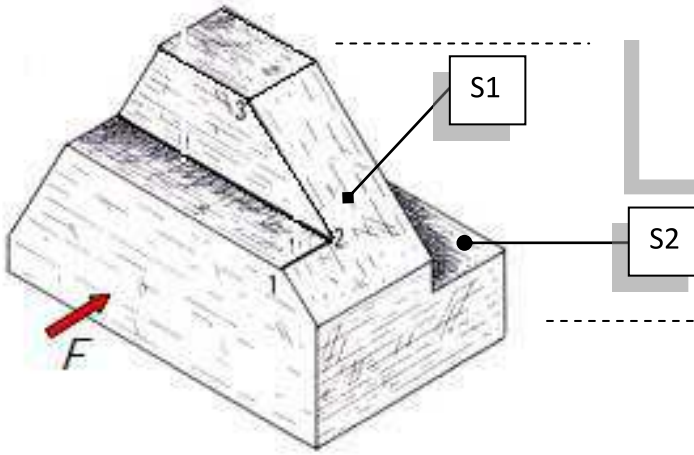
1- حدّد من بين الإقتراحات المقدمة المسقط اليساري للقلم و المسقط العلوي لمصباح رفاف السيارة الذي يقابل المسقط F وذلك بوضع علامة x في الخانة المناسبة .



2- إعتمد مبدأ الإسقاط المتعامد المشار إليه في السؤال الأول لتحديد الأشكال السوداء التي تظهر على المسقط الرأسي على بقية المساقط الأخرى مستعملا لونا موحد لكل جسم .

3- لاحظ الرسم المنظوري للقطعة المصنعة الموالية .

1-3- سمّ العمليات التقنية المنجزة S1 و S2.



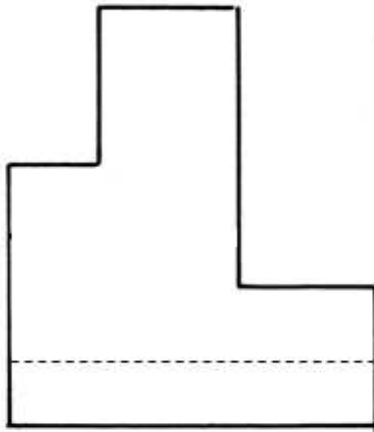
3- 2 - إستعن باتجاه النظر F وسمّ المساقط المقدمة لتعريف القطعة.

3- 3 - أكمل الحواف الظاهرة والمخفية على كل المساقط .

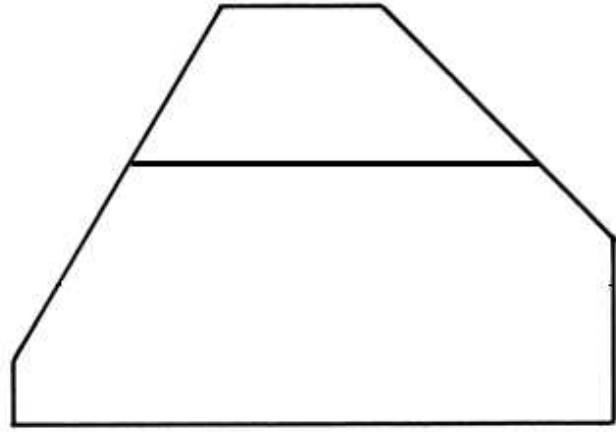
3- 4 - سجل النقاط (1)، (2) و (3) على كل المساقط .

3- 5 - وضح بنفس اللون السطح S1 على المساقط التي يكون فيها ظاهرا .

مسقط



مسقط



مسقط

