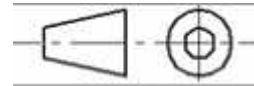


الاسم... اللقب الرقم	اختبار كتابي عدد 2 المادة تربية تكنولوجية	مدرسة الإعدادية 20 مارس المرناقية الأستاذ الهادي العبيدي 2011-2010
التاريخ.....	التوقيت 30 دق	أساسي

### التمرين الأول

1- لما يشير الرسم التال (1)



2- اسم المسقط يكتب على الرسم (1)

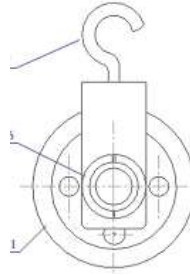
3- كل رسم شامل يكون مصحوبا بمدونة. ما هي وظيفتها (1)

4- ما هو نوع الرسم الذي نعتمده لصنع قطعة؟ (1)

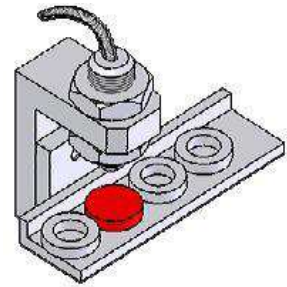
5- اذا أنجزت رسما وفق السلم 1 ; 5  
أبعاد الرسم كم مرة تساوي أبعاد القطعة ؟ (2)

### التمرين الثاني

أربط بما يناسب (3)

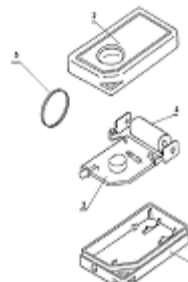


\* رسم منظوري مركب



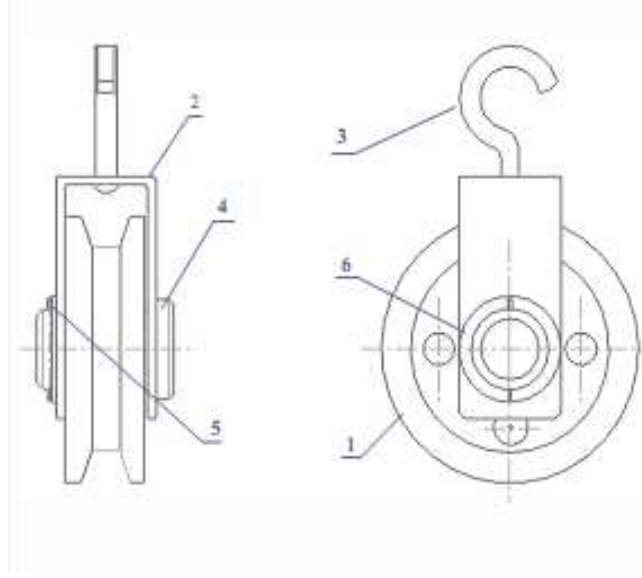
\* رسم شامل

\* رسم منظوري مفكك



### التمرين الثالث

- 1 - لون القطعة رقم (1) في المسقطين بالأحمر في المسقطين (2)
- 2 - لون الحامل (3) بالأخضر في المسقطين (2)



### التمرين الرابع

- 1 - مستعينا بالرسم المنظوري ثم أكمل المسقط الرأس والمسط اليساري والمسط العلوي مستعملا أدوات الهندسة (7)
- 2 - رقم الحز إذا أن السم أنجز وفق السلم 1 ; 1

