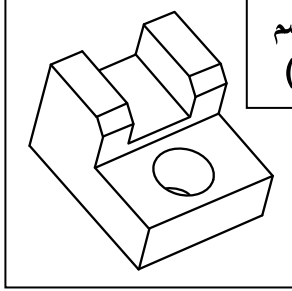
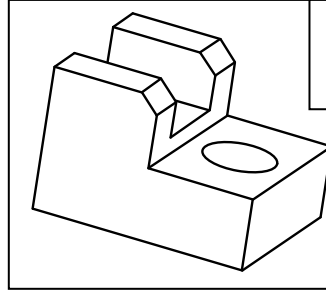
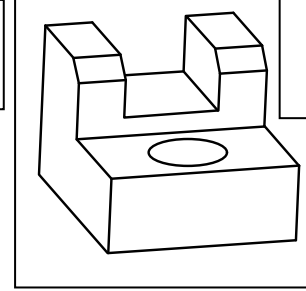


اسم و لقب التلميذ:

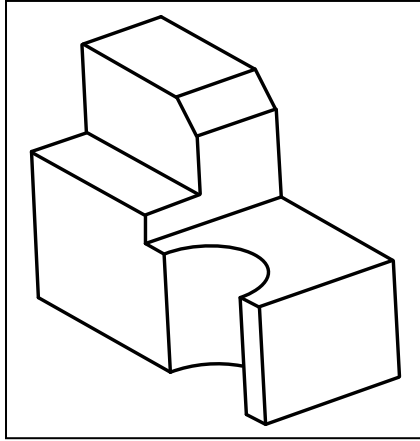
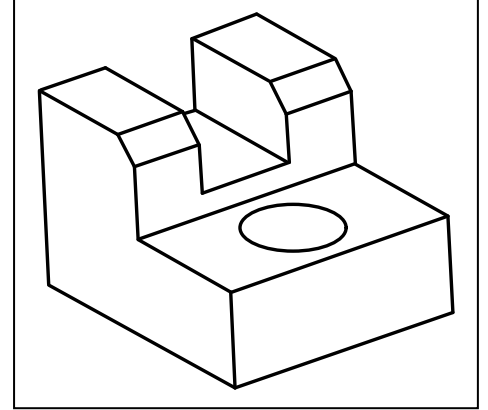
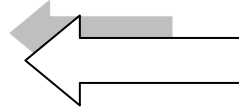
قسم: 9 أساسي الرقم:

1. النشاط 1

(1) لون الوجه الأمامي للقطعة في الرسم (1) و الوجه اليساري في الرسم (2) و الوجه العلوي في الرسم (3).

الرسم
(3)الرسم
(2)الرسم
(1)

(2) لون المساحة التي يمر عليها المنشار عند القطع.

الرسم
(3)الرسم
(1)

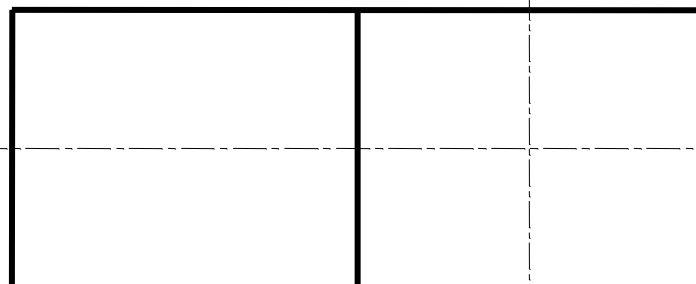
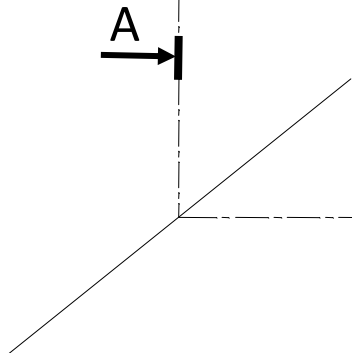
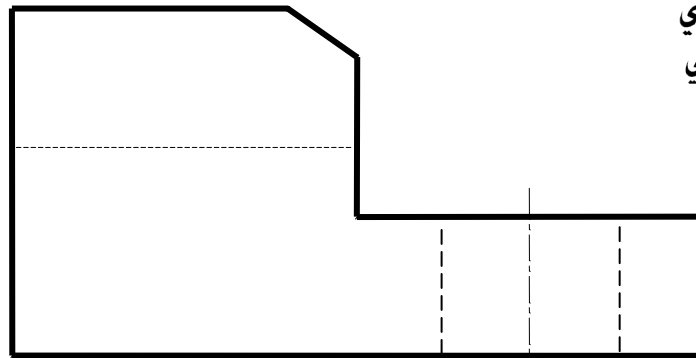
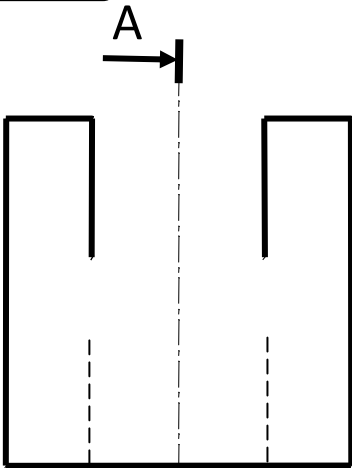
(3) بالاعتماد على الرسم المنظوري للقطعة اتم رسم التالي.

A-A

(أ) المسقط الراسي حسب القطاع A-A

(ب) المسقط العلوي

(ج) المسقط اليميني



II. النشاط 2

(4) أكمل الفراغ بما يناسب :

...../2

قطعة تحتوي على لولب




قطعة تحتوي على لولب



...../2

(5) أكمل الفراغ بما يناسب: جهاز صنع اللولب الخارجي - جهاز صنع اللولب الداخلي.



.....



.....