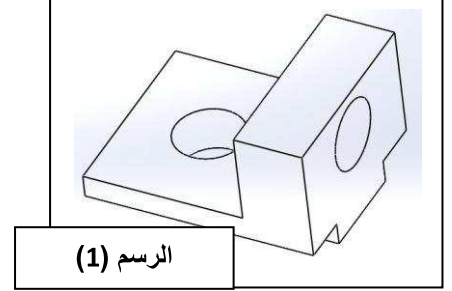
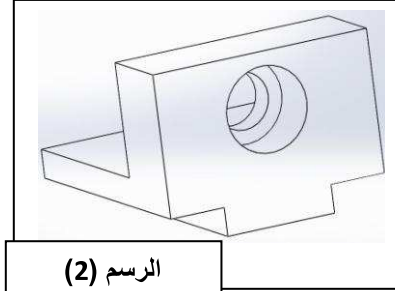
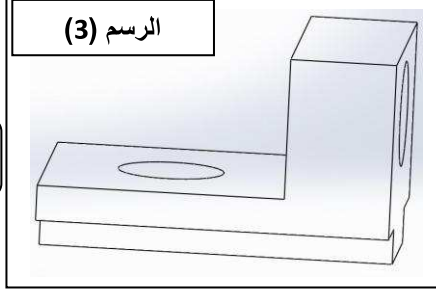


اسم و لقب التلميذ .....

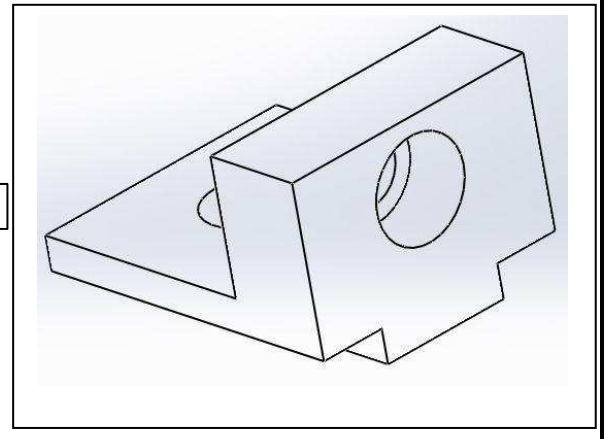
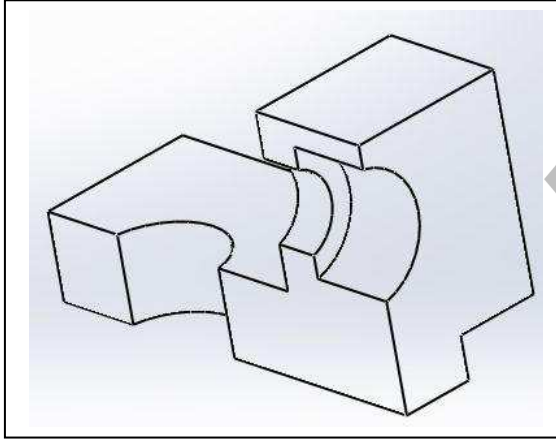
قسم: 9 أساسي الرقم .....

## 1. النشاط 1

(1) لون الوجه العلوي للقطعة في الرسم (1) و الوجه اليميني في الرسم (2) و الوجه الأمامي في الرسم (3).



(2) لون المساحة التي يمر عليها المنشار عند القطع.

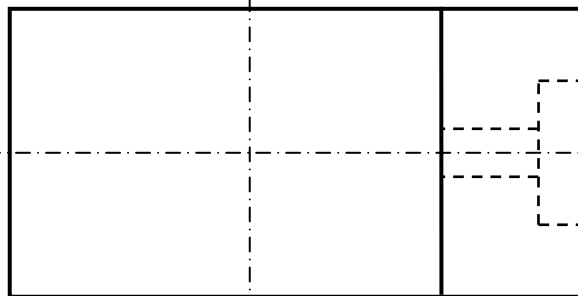
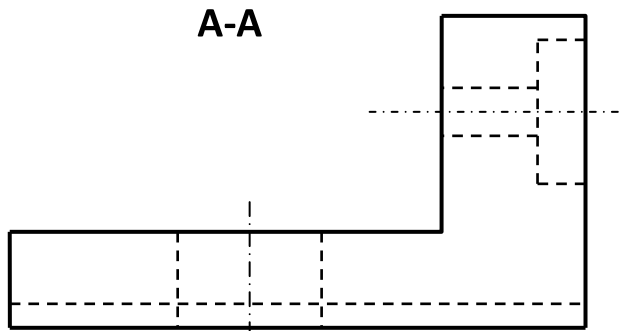
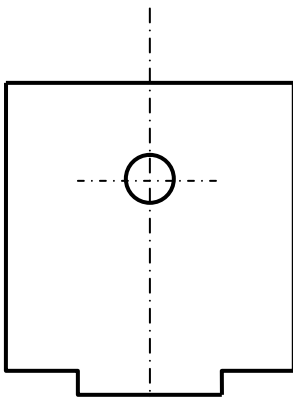


(3) بالاعتماد على الرسم المنظوري للقطعة اتمم رسم التالي.

(أ) المسقط الراسي حسب القطاع A-A

(ب) المسقط العلوي

(ج) المسقط اليميني

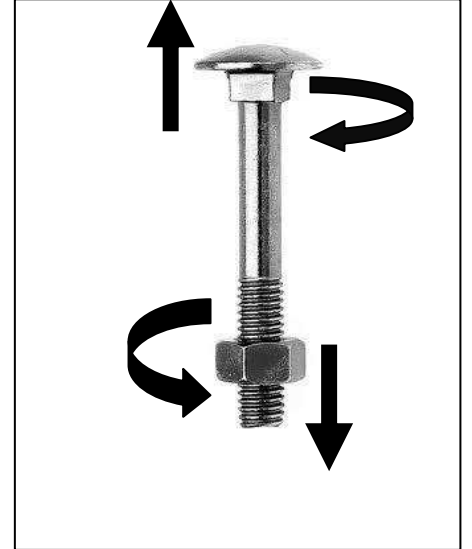


A↑

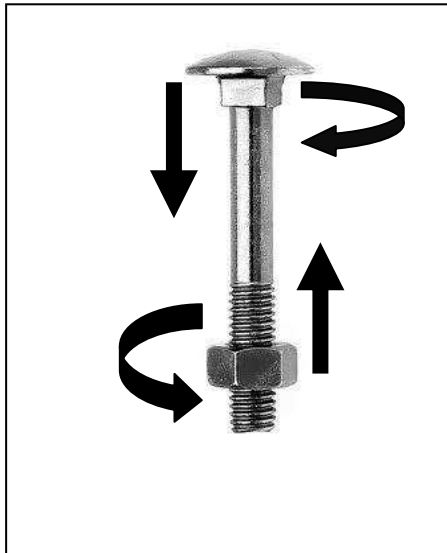
A↑

## II. النشاط 2

(4) أكمل الفراغ بما يناسب : يميني - يساري




قطعة تحتوي على لولب .....



قطعة تحتوي على لولب .....

(5) أكمل الفراغ بما يناسب: جهاز صنع اللولب الخارجي - جهاز صنع اللولب الداخلي.



.....



.....

...../2

...../2