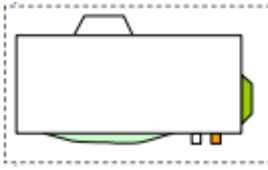
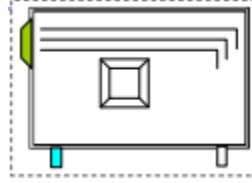


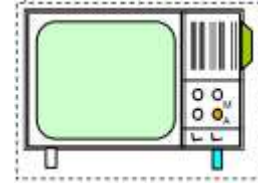
1- أذكر أسماء المساقط التالية منطلقين من الرسم رقم ①



③

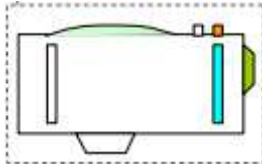


②

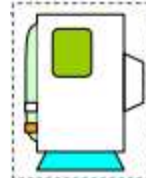


①

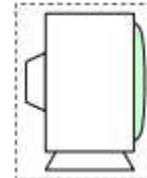
المسقط الأمامي



⑥

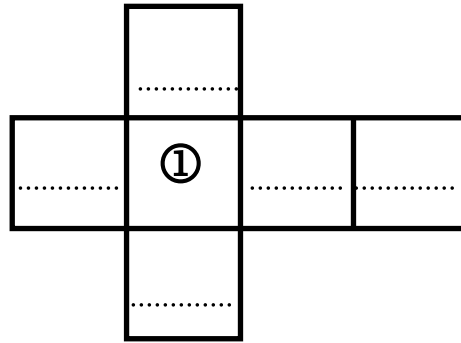


⑤



④

- حدد مواقع هذه المساقط حسب هذا المدرج بكتابة الرقم المناسب.

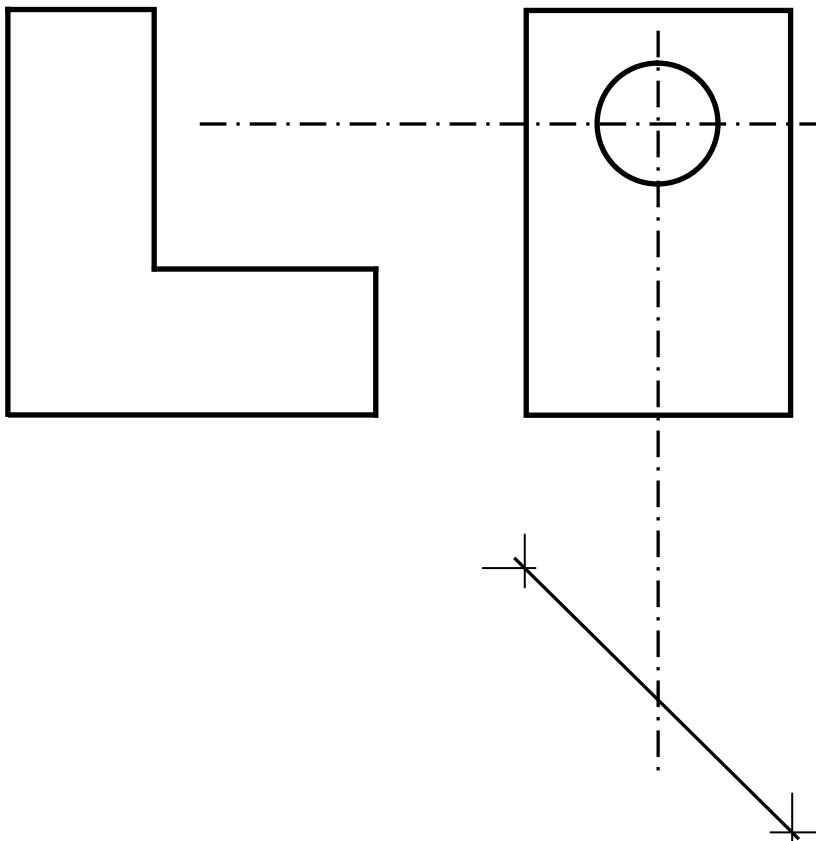


2 - أكمل رسم المساقط التالية:

- المسقط الأمامي

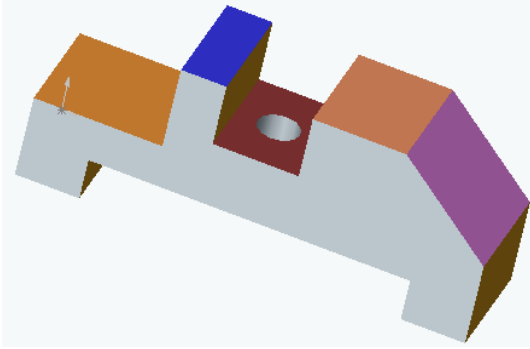
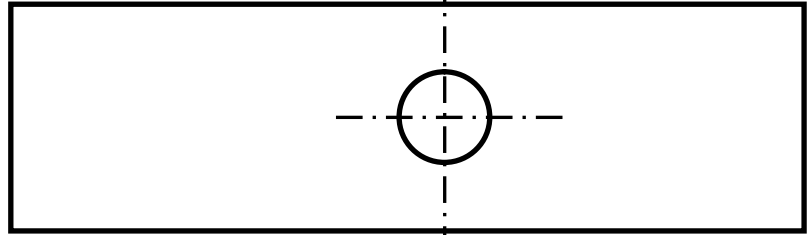
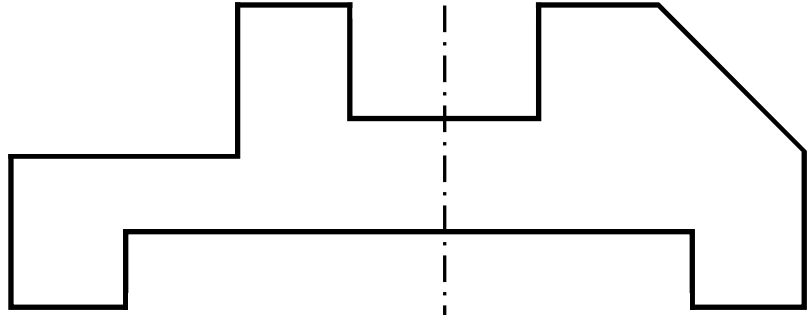

- المسقط اليساري

- المسقط العلوي



3 - أكمل رسم المساقط التالية:

2.5



التمرين الثالث:

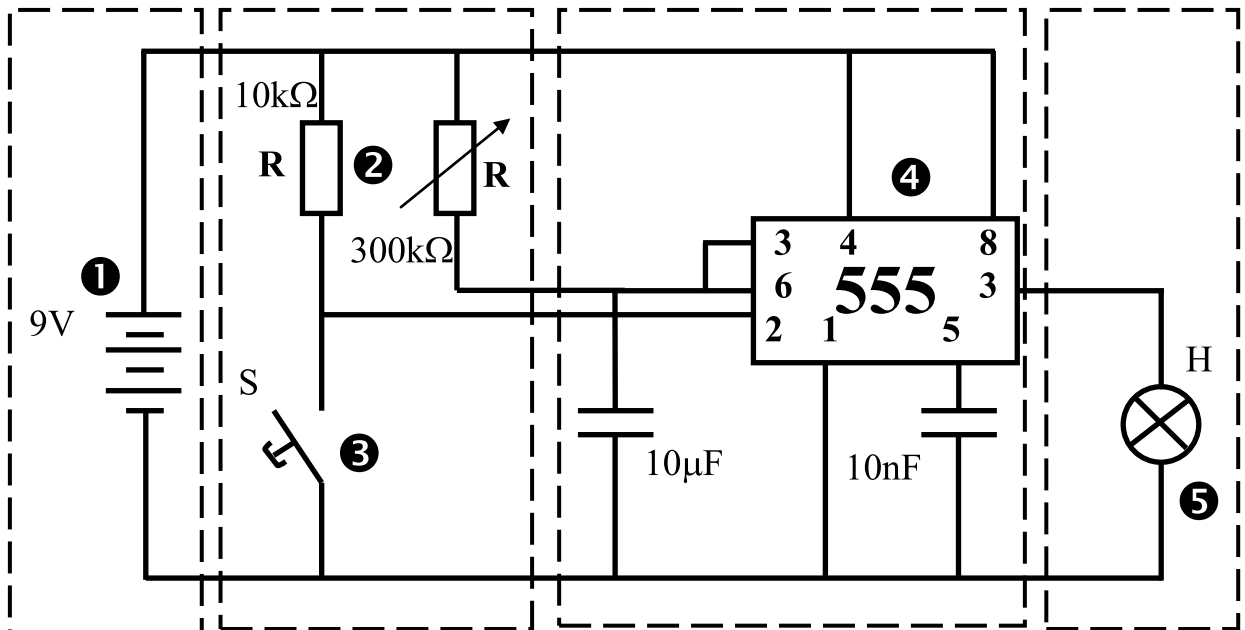
1 - ما هي نوع الإشارة المناسبة في هذه الأجهزة؟

1

نوع الإشارة	الأجهزة
.....	فرن
.....	مكواة
.....	غسالة
.....	الحاسوب

2- حدد في هذا الرسم أسماء الأجزاء:

2



.....

3- اذكر أسماء المكونات المرقومة في الجدول:

..... -1
..... - 2
..... -3
..... - 4
..... -5

4 – اذكر الأجهزة التي تستعمل عنصر التوقيت بوضع علامة في الخانة المناسبة

☐ مكيف

☐ تلفاز

☐ آلة ثقب كبيرة

☐ آلة قطع المعادن

☐ مصعد كهربائي

☐ فرن

الإسم:..... اللقب:.....		الفرض التأليفي ع1 حد المادة: التربية التكنولوجية		المدرسة الإعدادية سهل حمام سوسة
الرقم:..... القسم:9...	العدد المسند: 20	الضارب: ا	التوقيت: ساعة واحدة	التاريخ:

التمرين الأول:

1 - تتنوع آراء و اختيارات أفراد مكتب الدراسات في ترتيب وظائف الخدمات.
فقرر مدير المؤسسة أن يستند الجميع إلى هذا الاختيار.
ابحث عن القيمة و النسبة المئوية لكل وظيفة.

[illegible]

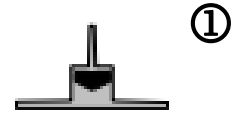
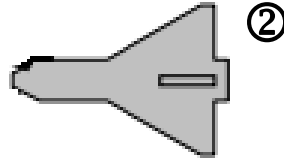
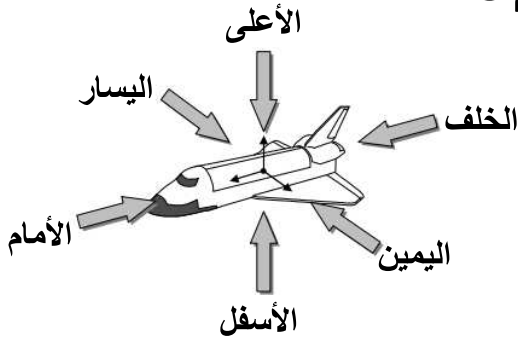
2 - أنجز الرسم البياني لترتيب الوظائف



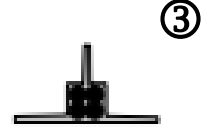

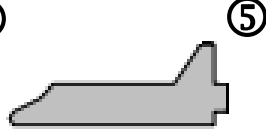
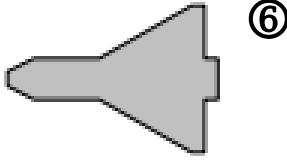
3 - كراس الشروط الوظيفي تحتوي على:(اشطب العبارة الخاطئة)

- | | |
|------------------------------|-----------------------|
| ✧ تقديم عام للمنتج | ✧ إطار الصنع |
| ✧ شحن الشرط و الوظائف | ✧ قرارات لجان التأديب |
| ✧ التعبير عن الحاجة | ✧ تضخيم وظائف الخدمات |
| ✧ مستندات المؤسسة المصنعة | ✧ ترتيب وظائف الخدمات |
| ✧ تحديد خاصيات وظائف الخدمات | ✧ التعبير الوظيفي |

1- أذكر أسماء المساقط التالية منطلقين من الرسم رقم ①

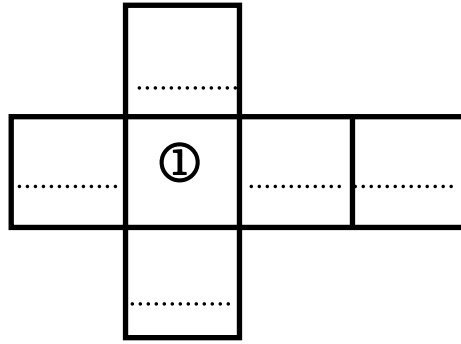


المسقط الأمامي



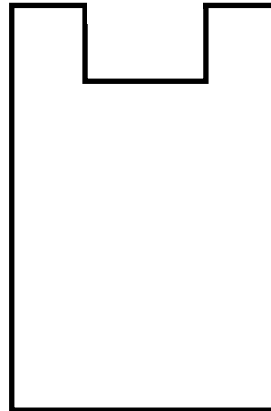
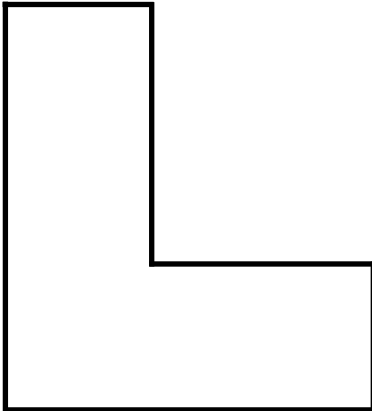
2.5

- حدد مواقع هذه المساقط حسب هذا المدرج بكتابة الرقم المناسب.

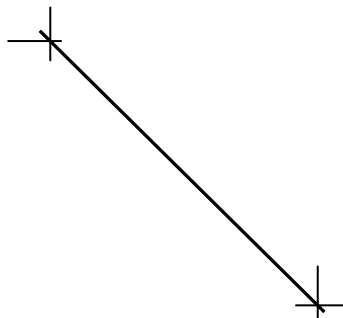


2 - أكمل رسم المساقط التالية:

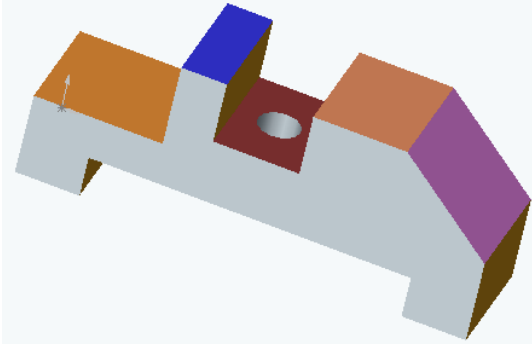
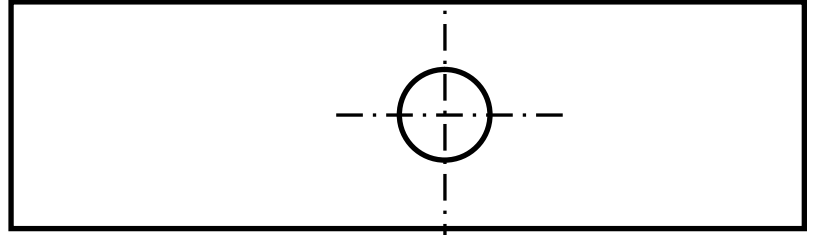
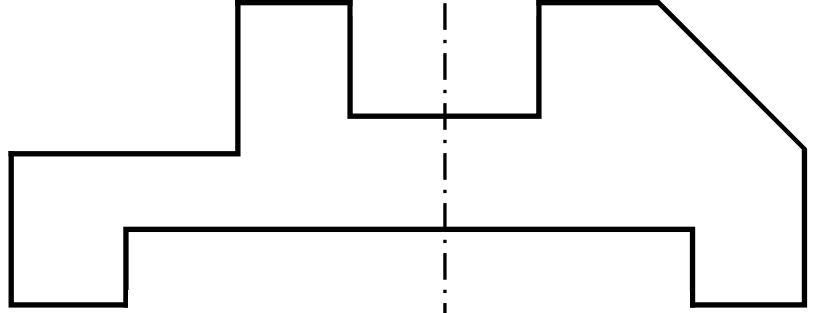

- المسقط الأمامي
- المسقط اليساري
- المسقط العلوي



2.5



3 - أكمل رسم المساقط التالية:

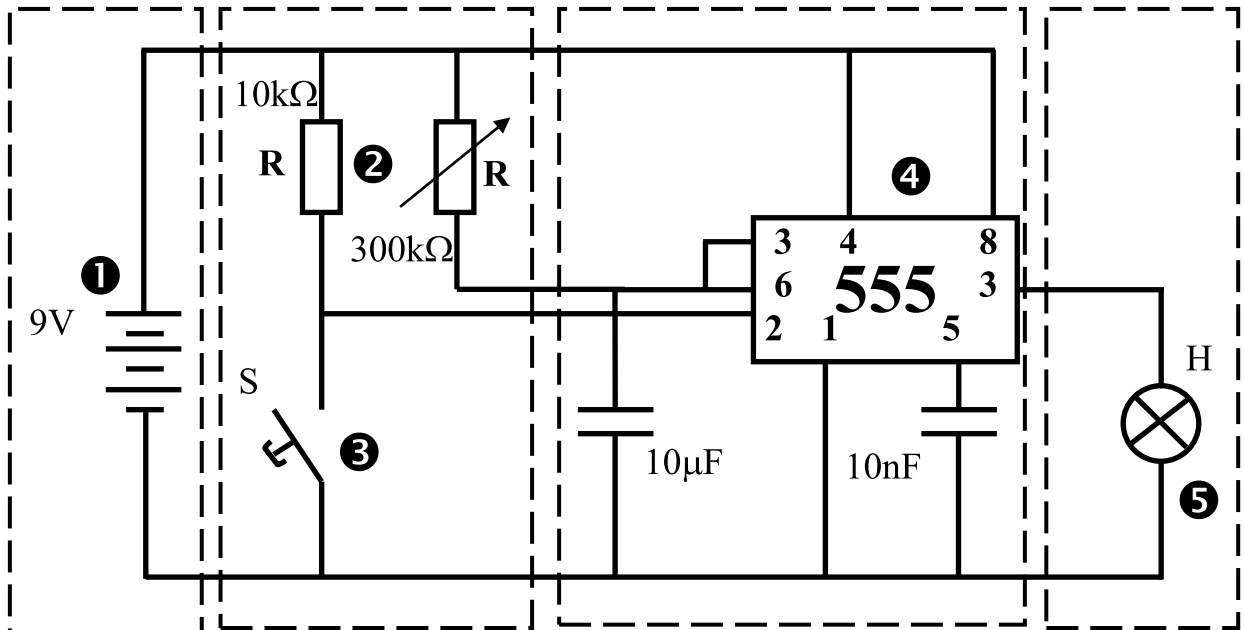


التمرين الثالث:

1 - ما هي نوع الإشارة المناسبة في هذه الأجهزة؟

نوع الإشارة	الأجهزة
.....	جهاز إنذار ضد تسرب الغاز
.....	دراجة عادية
.....	جهاز لشحن البطاريات
.....	جهاز المولتيمتر لمعرفة الناقلية الكهربائية

2 - حدد في هذا الرسم أسماء الأجزاء:



.....

3- اذكر أسماء المكونات المرقومة في الجدول:

..... -1
..... - 2
..... -3
..... - 4
..... -5

4 – اذكر الأجهزة التي تستعمل عنصر التوقيت بوضع علامة في الخانة المناسبة

- | | |
|--|---|
| <input type="checkbox"/> ميزان الكتروني | <input type="checkbox"/> جهاز قيس حرارة الانسان |
| <input type="checkbox"/> آلة ثني البلاستيك | <input type="checkbox"/> آلة طهي المأكولات |
| <input type="checkbox"/> مصعد كهربائي | <input type="checkbox"/> آلة التشكيل الحراري |