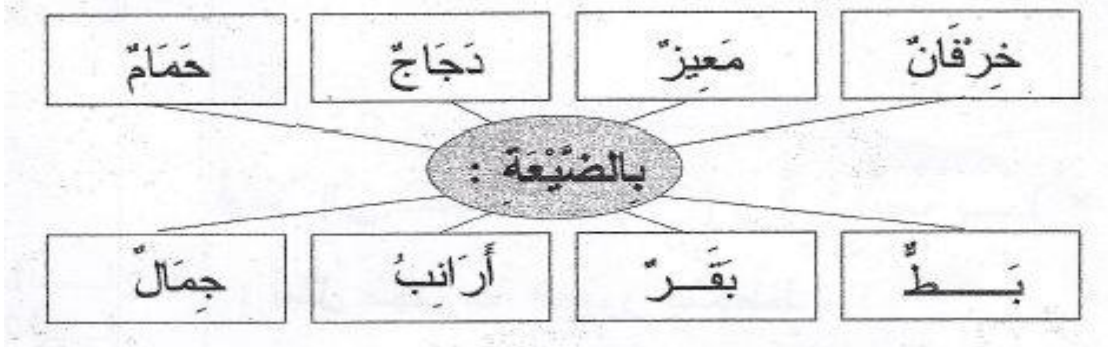


السند 1

هذه يسر تزور ضيعة عمها . . . ما أسعدها و هي تتعرّف إلى الحياة في الريف.



1-1/ أتعرف إلى حيوانات الضيعة و أشطب الخطأ.



مع 1
| |

مع 2
| |


1-2/ أضع (x) تحت صورة كل إنسان في المشهد.

مع 1
| |

مع 2
| |


1-3 / ألون الجواب السليم:

مع 1
| |



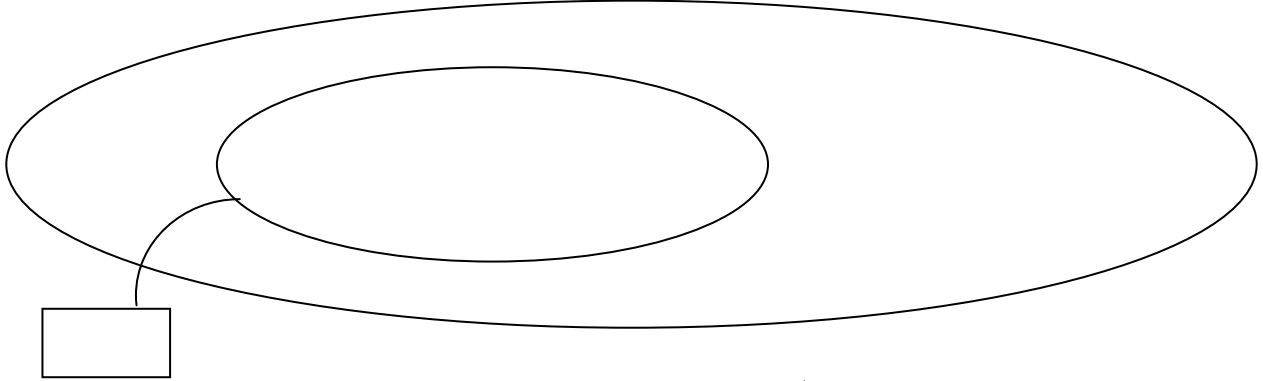
مع 4
| |

هذه مخططات لبعض ما نراه في ضيعة عم يسر.



أرمز للخروف بـ Δ و ارمز إلى المعزاة بـ \square
2-2/ أمل تمثيل مجموعة الغنم بالمخطط .

2-3/ أجزئ المجموعة و أكتب كم كل مجموعة جزئية:



أرمز للحمامة بـ (\bigcirc) وإلى البطّة بـ (\times) و إلى الديك بـ Δ
2-4/ أمثل مجموعة الطيور بمخطط .

2-5/ أجزأ المجموعة و أكتب كم كل مجموعة جزئية.

جدول إسناد الأعداد

مستويات التملك	معايير الحد الأدنى									
	مع1		مع2أ			مع2ب			مع4	
انعدام التملك	0		0			0			0	
التملك دون الأدنى	0.5	0.25	1.5	1	0.5	1.5	1	0.5	0.5	0.25
التملك الأدنى	0.75	1	2	2.5	3	2	3	2.5	1	0.75
التملك	1.25	1.5	3.5	4	4.5	3.5	4	4.5	1.5	1.25

معايير التمييز
مع5
0
2
3
4