

الإسم و اللقب: ..... / القسم:

① بمناسبة عيد ميلاد أمي خرج الأبطال إلى  
المغارة لشراء القديّة

|        |       |
|--------|-------|
| الضاعة | الشمع |
| خاتم   | د. 24 |
| عقد    | د. 84 |
| خوش    | د. 45 |

اتفق الأبطال على شراء الخاتم والخوش  
ابحث عن الشمن

دعم

دعم

② بعد شراء القديّة بقي للأبطال مبلغ ماليّة

أبحث عن قيمته  
القطيع الذي بقيت لأحمد  
بقي لزين 56 مبي  
بقي لزيد 84 مبي  
أضرب هذا المبلغ

دعم

دعم











③ اَمْتَدْعِي الْأَطْفَالَ بَعْضَ الْأَصْدِقَاءِ وَالْأَقْرَابِ  
 فَقَدِمْنَ 16 امْرَأَةً وَ 10 بَنَاتًا وَ 23 وَلَدًا  
 مَا هُوَ عَدَدُ الصُّيُوفِ؟

محل  
 +  
 -  
 +  
 -

④ أَرْتَبِّي أَعْدَادَ الْعَمَلِيَّةِ تَصَاعُدِيًّا

⑤ قَدِمَ الْأَبُ بَاقِيَةً جَمِيلَةً مِنَ الْأَزْهَارِ  
 أَجْمَعِ حَجْمُونََةَ الْأَزْهَارِ وَأَعْمُرِ الْجَدُولَ

|   |   |   |  |   |   |
|---|---|---|--|---|---|
|  |  |  |  | ع | ا |
|  |  |  |  |   |   |

⑥ قَدِمَ الصُّيُوفُ الْمَهْدَايَا فَكَانَتْ 25 قَارُورَةَ عِطْرِ  
 وَ 11 طَارًا بِهِ صُورٌ جَمِيلَةٌ وَ 10 زَهْرَاتٍ  
 أَجِيبِ السُّؤَالَ الْمُنَاسِبَ

\* مَا هُوَ عَدَدُ الْمَهْدَايَا؟  
 \* مَا هُوَ عَدَدُ الْأَزْهَارِ؟

# 7) أجب عن السؤال السابق

دس 4

□

# 8) بعد انتهاء الحفل دخل الأطفال غرفتكم

دس 4

□

ليمنجزوا دروسكم

أقارن

38

90

30 + 46

40 + 26

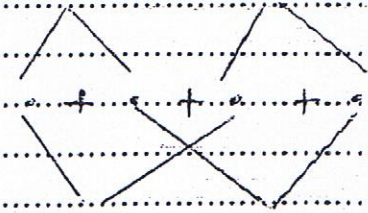
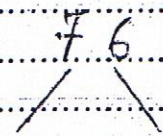
74

47

# 9) أفكّر باستخدام شجرة الحساب

دس 4

□



جدول باستخدام الأعداد

| دس 0 | دس 1 | دس 2      | دس 3  | دس 4 | العدد الناتج      |
|------|------|-----------|-------|------|-------------------|
| 0    | 0    | 0         | 0     | 0    | العدد الناتج      |
| 2    | 1    | 3 / 2 / 1 | 5 / 4 | 1    | دون الشجرة الأخرى |
| 3    | 2    | 6         |       | 2    | الشجرة الأخرى     |
| 5    | 3    | 9 / 8 / 7 |       | 3    | الشجرة الأخرى     |

..... + ..... = 76