

السند 6: في آخر الحفل أهدى الأديب لابنته
 3 مَجْهُوجَاتٍ مِنَ الْقِيَصِ. تَعْدُ الْأُولَى 21
 قِصَّةً وَتَعْدُ الثَّانِيَةُ 13 قِصَّةً أَكْثَرَ مِنَ الْأُولَى
 وَتَعْدُ الثَّلَاثَةُ 4 قِصَصٍ



التعليمة 10: أَحْسَبُ عَدَدَ الْقِيَصِ بِالمَجْهُوجَةِ الثَّانِيَةِ

+	_____	=	_____	+	_____

مع 1
 لا
 مع 0
 لا

التعليمة 11: أضع علامة (x) أمام السؤال العنابي

سأبحث الآن عن:

- عدد القيص في المجموعة الأولى
- عدد القيص في المجموعات الثلاث
- متن كل القيص



مع 5
 لا

التعليمة 12: أجب عن السؤال الذي اخترته

+	_____	=	_____	+	_____

مع 5
 لا

التعليمة 13: هل جمعت البيت 60 قصة بإتقان

أشطب الخطأ

+	جمعت البيت 60 قصة	إتقان	لا
---	-------------------	-------	----

مع 5
 لا

لأن:



جدول اسناد الأعداد

عدد 5	عدد 4	عدد 3	عدد 2	عدد 1	
1	0	0	0	0	انعدام التعداد
2	1	1	1,5 1 0,5	1	(- - +)
3	2	2	2	2	(- + +)
4	3	3	3 2,5	3	(+ + +)



المادة:
المعلم (ة):
العدد المسند: 20/.....

اختبار الثلاثي الثالث
2013/2012



المستوى: الأولي / ع / ر

اللقب:

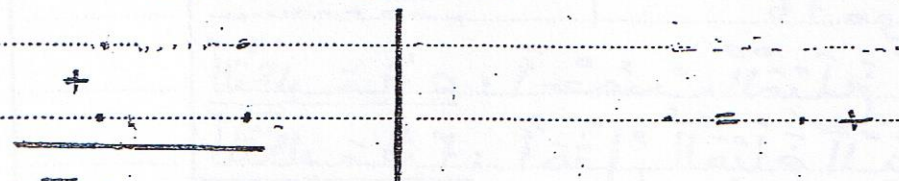
الاسم:

السند 1: اليوم تحنقل سميت بعيد ميلادها.
صنعت أمها 41 قطة من المراتب الصغيرة
الحجم و 8 قطع من المراتب الكبيرة الحجم

مع
لا

التعليمة 1: أحسب عدد قطع المراتب التي صنعتها الأم

مع
لا



التعليمة 2: أرتب أعداد العمليات تصاعدياً

مع
لا




السند 2: اشتري أجورها 93 بالوناً أحمر اللون
و 19 بالوناً أزرق اللون و 6 شموع

مع
لا

التعليمة 3: أحسب عدد البالونات التي اشتراها الأب

مع
لا



التعليمة 4: أرتب أعداد العمليات من الأكبر إلى الأصغر

مع
لا

السند 3: اشتدعت سميت أمها 36 قطة
الحقل 36 طفلاً
التعليمة 5: أفكر حسب اختياري



..... + = 36

معد
||




السند 4: اشتري بسامي ورييم ومرام هدايا
لمديقتهم سمية وبقني لهم هذه المبالغ المالية

بقني لسامي	بقني لرييم	بقني لمرام
66 مبي	68 مبي	

معد
||

التعليمة 6: أحسب المبلغ الذي بقني لسامي
التعليمة 7: أمثل المبلغ الذي بقني لرييم
التعليمة 8: اكمل تمثيل المبلغ الذي بقني لمرام

السند 5: عذبة صورة لسمية مع أصدقائها أثناء
الحفل



التعليمة 9: أُنظف الحظاءة
تحميل سمية العصى السحرية بيديها اليمنى

معد
||

تقف سمية على يسار علي يمين خرايس
الهدايا فوق تحت أنظاولت