




المادة: إيقاظ علمي	اختبار الثلاثي الثالث 2013/ 2012	المدرسة الابتدائية حي السعادة بالمستير
الاسم واللقب:.....	المستوى:2.....	العدد المسند:...../20

السند 1: قَصِدَ أَحْمَدُ الْبَحْرَ وَلَمَّا وَصَلَ أَرْتَمَى فِي الْمَاءِ

وَشَرَعَ يَسْبَحُ.

التعليمة 1: أضع علامة في الخانة المناسبة:

الحيوان	يتنفس في:	الماء	البر
			
			
			

التعليمة 2: أكمل بما يناسب:

الضفدعة تتنفس في البر ب..... وفي الماء ب.....

التعليمة 3: أصلح الخطأ إن وجد:

تننفس الفقرة بجديها.

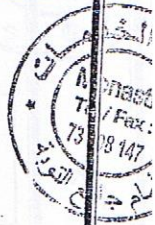
.....





السند 2: وَلَمَّا تَعِبَ أَحْمَدُ، اسْتَلْقَى فِي ظِلِّ الشَّمْسِيَّةِ وَاسْتَرَاحَ قَلِيلًا ثُمَّ تَصَفَّحَ كِتَابًا عَنْ عَالِمِ الْحَيَوَانَ. التعليمة 4: أَصْلِحِ الْخَطَأَ إِنْ وُجِدَ: يَرْتَفِعُ صَدْرُ أَحْمَدَ فِي حَالَةِ خُرُوجِ الْهَوَاءِ مِنْهُ.

التعليمة 5: أَرْبُطِ الْحَيَوَانَ بِعِضْوِ النَّقْلِ الْمُنَاسِبِ لَهُ:



• الْقَوَائِمُ



• الزَّعَانِفُ



• الْأَجْنِحَةُ

• الْأَرْجُلُ



التعليمة 6: أَصْلِحِ الْخَطَأَ إِنْ وُجِدَ: تَتَنَقَّلُ الضَّفَدَةُ فِي الْمَاءِ بِزَعَانِفِهَا.



السند 3: أَحَسَّ أَحْمَدُ بِالْجُوعِ فَتَنَاوَلَ طَعَامَهُ وَهُوَ يَفْكِرُ فِيمَا دَرَسَهُ فِي حِصَصِ الْإِقْيَاطِ الْعِلْمِيِّ.



مع 3

مع 1

مع 3



التعليمة 7: أَرْبُطْ بِسَهْمٍ:

\* التَّفَاخَةُ \*

\* البُخَارُ \*

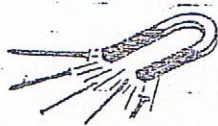
\* المَشْرُوبَاتُ العَازِيَّةُ \*

\* مَحْتَوَى الكُرَّةِ \*

التعليمة 8: أَشْطَبُ العِبَارَةِ الخَاطِئَةُ وَأَعْلَى:

يَأْخُذُ      لَا يَأْخُذُ      العَصِيرُ شَكْلَ الكَأْسِ لِأَنَّهُ .....

التعليمة 9: أَذْكَرُ نَوْعِ القُوَّةِ المُسَلِّطَةِ:



### جدول إسناد الأعداد

مع 3	مع 2	مع 1	المعايير	التمك
0	0	0		انعدام التملك
2	1.5 - 1 - 1/2	-5 - 4 - 3 - 2 - 1	7 - 6	التمك دون الأدنى
4	2	8		التمك الأدنى
5	3 - 2.5	12 - 11 - 10 - 9		التمك الأقصى

