

سند 1: جد عصام له صيغة كبيرة فيها أشجار مثمرة وحيوانات متنوعة.

تَوَعُّدُ الْأَشْجَارِ	زَيْتُونٌ	بُرْتُقَالٌ	تُفَّاحٌ	خَوْخٌ
عَدَدُهَا	18	12	20	9

تعلیمة 1: أحسب عدد أشجار الزيتون والبرتقال:

$$\boxed{\dots} = \dots$$

تعلیمة 2: أحسب عدد أشجار التفاح والخوخ:

$$\boxed{\dots} = \dots$$

تعلیمة 3: أحسب العدد الجملي للأشجار بطريقتين مختلفتين:
الطريقة الأولى

الطريقة الثانية

$$\boxed{\dots} = \dots$$

سند 2

ي ركن من الصيغة استعمل به 12 بقرة و 14 ثورًا و 10 عجول.
حسب عدد الأبقار والعجول:

www.devoir.tn

$$\boxed{\dots} = \dots$$

في ركن آخر زينة بها 2 نعجة و 35 دشا و 16 ماعزًا.
حسب عدد النعاج والكباش:

$$\boxed{\dots} = \dots$$






تُنتَجُ الْبَقَرَاتُ كَمِيَّةً كَبِيرَةً مِنَ الْحَلِيبِ ، يَبِيعُ مِنْهَا الْجَدُّ
68 لِيْتْرًا لِلْمَتَاجِرِ وَ 27 لِيْتْرًا لِجِيرَانِهِ وَيَتْرُكُ 3 لِيْتْرَاتٍ لِعَائِلَتِهِ .
(اَحْسِبْ مَا تُنتِجُهُ الْبَقَرَاتُ مِنَ الْحَلِيبِ .

..... = .. =

(4) اَحْسِبْ كَمِيَّةَ الْحَلِيبِ الْمُبَاعَةِ :

..... = .. =

السَّنَدُ 3 : سَاعِدَ عِصَامُ وَأُخْتَاهُ سَنَاءُ وَ هُدَى جَدَّهُمْ عَلَى
إِطْعَامِ الْحَيَوَانَاتِ فَأَعْطَاهُمْ الْمَبَالِغَ التَّالِيَةَ :

مَبَالِغُ عِصَامٍ :	مَبَالِغُ سَنَاءَ : 75 مي	مَبَالِغُ هُدَى : 90 مي
		
أَحْسِبْ قِيَمَةَ الْمَبَالِغِ	أُمْلِئْهُ بِ 4 قِطْعِ نَقْدِيَّةٍ	ارْشُمِ الْقِطْعَ النَّاقِصَةَ

السَّنَدُ 4 : هَذَا الْمَشْهُدُ لِعِصَامٍ وَأُخْتِهِ يُطْعِمَانِ الْحَيَوَانَاتِ :
التَّعْلِيمَةُ ④ : اكْمِلْ بِ (فَوْقَ / تَحْتَ / وَرَاءَ / أَمَامَ / عَلَى يَمِينِ /
عَلَى يَسَارِ) .



- * عِصَامُ سَنَاءَ .
- * الْبَقَرَتَانِ عِصَامِ .
- * الدَّجَاجُ وَالْفَرَاخُ سَنَاءَ .

جدول اسناد الأعداد

مع 5	مع 4	مع 3	مع 1	مع 1			
0	0	0	0	0	---		
	1	1	1 1/2	1 1/2	1 1/2	1 1/2	---
2/2	2	2	2	2	2	2	++
4	3	3	3	2,5	3	2,5	+++

الحساب
الذهني

www.devoir.tn

العدد المسند

20

16

المجموع 2

