













السند 1: وَصَلَ الْأَطْفَالُ أَحْمَدُ وَسَلْمَى وَرَبَابُ إِلَى الْكُتَيْبَةِ  
وَمَعَ كُلِّ وَاحِدٍ مَبْلَغًا مِنَ الْمَالِ كَمَا يُبَيِّنُهُ الْجَدْوَلُ التَّالِي.

يَمْلِكُ أَحْمَدُ	تَمْلِكُ سَلْمَى	تَمْلِكُ رَبَابُ
        		  
.....	885 مي	985 مي

التعليمة 1:

- \* أَحْسَبُ الْمَبْلَغِ الَّذِي يَمْلِكُهُ أَحْمَدُ
- \* أُمِلُّ الْمَبْلَغِ الَّذِي تَمْلِكُهُ سَلْمَى بِأَقْلٍ عَدَدٍ مُمَكِّنٍ مِنَ الْقِطْعِ النَّقْدِيِّ
- \* أَكْمَلُ تَمَثِيلِ مَبْلَغِ رَبَابِ.

السند 2: اشترت سلمى أوراقا ملونة بـ 475 مي وأقلاما

شمعية بـ 385 مي.

واقترنت رباب أشرطة يقل ثمنها عن ثمن الأوراق الملونة بـ 125 مي.







التعليمة 2: أَحْسَبُ ثَمَنَ مُشْتَرِيَاتِ سَلَمَى.

التعليمة 3: أَحْسَبُ الْمَبْلَغَ الْمُتَبَقِّي لِسَلَمَى.

التعليمة 4: كَمْ ثَمَنُ الْأَشْرَاطَةِ؟

التعليمة 5: كَمْ بَقِيَ لِرَبَاب؟

السند 3: وَاشْتَرَى أَحْمَدُ شَرِيْطًا لَاصِقًا لِتَجْمِيلِ لَوْحَةٍ ثَمَنُهُ 450 مي وَمَجْمُوعَةُ صُورٍ وَبَقِيَ لَهُ 15 مي.  
التعليمة 6: أَبْحَثْ عَنْ ثَمَنِ الْمُشْتَرِيَاتِ.

التعليمة 7: أَبْحَثْ عَنْ ثَمَنِ مَجْمُوعَةِ الصُّوَرِ.





السند 4: أَرَادَتِ الْيَنْتَانِ سَلَمَى وَرَبَابُ شِرَاءَ غِلَافَيْنِ بِمَا  
بَقِيَ لَهُمَا، تَمَنَّى الْغِلَافِ الْوَاحِدِ 475 مِي.  
\* أَطْرَحُ سُؤَالَاً مُنَاسِبًا لِلْوَضْعِيَّةِ وَأُجِيبُ عَنْهُ.



\* رَسَمِ عَلَى الْغِلَافِ مُضْلَعَاتٍ:

أَكْمِلُ رَسَمَ مُضْلَعٍ رُبَاعِي:	أَرَسِمُ مُضْلَعًا سَدَاسِيًّا:	أَرَسِمُ خَطًّا دَاخِلَ الْمُضْلَعِ لِلْحُصُولِ عَلَى مُثَلَّثٍ وَخُمْاسِي:

جدول أسناد الأعداد

مستويات التملك	مئة 1	مئة 2	مئة 3	مئة 4	مئة 5
انعدام التملك	0	0	0	0	0
التملك دون الأدنى	1/05	1/05	1	1	1
التملك الأدنى	1,5	1,5	2	2	3/2
التملك الأقصى	2,5/2 3	2,5/2 3	3	3	4

