


④ جَمْعُ التَّلَامِيذِ مَبْلَغُ مَالِيَّةٍ لِصِنَاعَةٍ أَفْنِجَةٍ لِعَرْضِ



مَسْرُوحِيَّةٍ
- إِذْ خَرَّ سَمِيرٌ -

- أَحْسَبْ هَذَا الْمَبْلَغَ ... مِي

- شَرَى سَمِيرٌ مِلْفَاتٍ مِنَ الْوَرَقِ الْمَقْوَى بِ 570 مِي



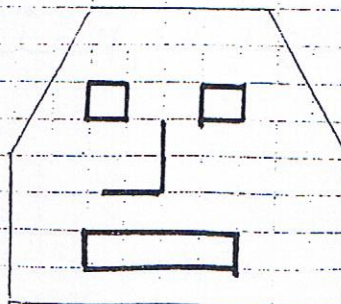
- أَمَثِلْ الْمَبْلَغَ بِأَقْلَ عَدَدٍ مُمَكِّنِ مِنَ الْقِطْعِ النَّقْدِيَّةِ :



- أَبْحَثْ عَنِ الْمَبْلَغِ الْمُتَبَقِّي لِسَمِيرٍ


- أُرَتِّبْ أَعْدَادَ الْعَمَلِيَّةِ تَصَاعُديًّا :

⑤ قَصِّ التَّلَامِيذِ الْمِلْفَاتِ حَسَبِ الْأَشْكَالِ التَّالِيَةِ



- التَّوْنُ كُلُّ قِنَاعٍ لَهُ 3 أَضْلَاعٌ
- أَضْعُ عِلَامَةً (ب) تَحْتَ الْقِنَاعِ الَّذِي لَهُ 6 أَضْلَاعٌ
- أَكْمِلْ رَسْمَ الْقِنَاعِ النَّاقِصِ لِتُصَيِّحَ ذَا 7 أَضْلَاعٍ

③ سَحَبْتُ سَلْمَى مِنْ حَصَالَتِهَا 894 مِي:



- أَرَسُمُ الْقِطْعِ النَّقْدِيَّةِ النَّاقِصَةِ
- اشْتَرَتِ سَلْمَى قَارُورَةَ لِيْصِقٍ بِ 257 مِي وَأُورَاقًا مَلَوْنَةً
- ب 486 مِي • كَمْ صَرَفَتْ ؟
- كَمْ بَقِيَ لِسَلْمَى ؟

• صَرَفَتْ سَلْمَى _____

• بَقِيَ لِسَلْمَى _____

• قَالَ يُمَكِّنُهَا شِرَاءُ مِمْحَاةٍ بِ 195 مِي ؟ أَعْلِلْ جَوَابِي

④ كَانَ بِحَافِظَةِ نَقُودٍ رَامِي 775 مِي شَرَى أُرْبُطَةً لِشَدِّ الْأَقْنَعَةِ بِ 235 مِي وَصَلَّاهَا ثَمَنَهُ يَفُوقُ ثَمَنَ الْأُرْبُطَةِ بِ 165 مِي

• مَا هُوَ ثَمَنُ الصِّلَمَالِ ؟ • مَا هُوَ ثَمَنُ الْمُشْتَرِيَاتِ ؟ • كَمْ بَقِيَ لِرَامِي ؟

مكتبة الخدمات

إمام جامع التوبة بالمنستير



1. اكتب أكبر عدد (العملية المكتبة الخدمات)

معد
لا

امام جامع التوبة بالمنستير

1

2. اكتب أصغر عدد (العملية الثانية)

3. المسألة:

عدد التلاميذ بالمدرسة 589 حضر منهم يوم
عرض المسرحية * 196 تلميذا
* 274 تلميذة

4. أضع علامة (X) أمام التعليلة المناسبة:



* ما هو عدد الأقسام؟

* ما هو عدد الأمتحان؟

* ما هو عدد التلاميذ الذين حضروا العرض؟

* ما هو عدد المعلمين؟

* ما هو عدد التلاميذ الذين تغيبوا عن العرض؟

معد

لا

5. حل المسألة:

معد

لا

لا



مكتبة الخدمات

امام جامع التوبة بالمنستير

Devoir.tn

toutes les matières, tous les niveaux

