

السنة 2	اختبار الثلاثي الثالث جوان 2009 المادة: رياضيات	المدرسة الابتدائية الخاصة نور المعارف
الاسم و اللقب: .....		

السند 1: بمُناسبة اليوم الوطني للمُستَقلين نَظَّمت  
الْمَدْرَسَةُ زِيَارَةً إِلَى مَرْكَزِ رَعَايَةِ الْمُسْلِمِينَ  
وَالْتَهَضَّتْ إِلَى الْمَسَارِيفِ جَمَعَتِ الْمَدْرَسَةُ  
مَتَبَلَةً قَدْرَهُ: 950 ديناراً

سَاهَمَ تِلْكَ مِذَى الدَّرَجَةِ الثَّانِيَةِ بِمَبْلَغِ تَدْرُجٍ  
أَمَّا تِلْكَ مِذَى الدَّرَجَةِ الثَّالِثَةِ فَسَاهَمُوا  
بِمَبْلَغٍ أَكْثَرَ مِنَ الْمَبْلَغِ الَّذِي سَاهَمَ بِهِ تِلْكَ  
الدَّرَجَةِ الثَّانِيَةِ بِ 70 ديناراً

التعليلة 1: أَحْسَبْ مَقْدَارَ مُسَاهَمَةِ تِلْكَ مِذَى  
الدَّرَجَةِ الثَّالِثَةِ

م 1

ل

م 2 ب

ل

التعليلة 2: أَحْسَبْ جُمْلَةَ مُسَاهَمَةِ الثَّلَاثَةِ

م 2 ب

ل

أَمَّا التَّابِقُ فَسَاهَمَتْ بِهِ الْأُسْرَةُ الثَّرَبُوتِيَّةُ  
التعليلة 3: أَحْسَبْ مَقْدَارَ مُسَاهَمَةِ الْأُسْرَةِ  
الثَّرَبُوتِيَّةِ

م 1

ل

م 2 ج

ل

صَوَّفَ الْمُشْرُوفَ 300 دِينَارًا ثَمَنَ كِرَاءِ الْعَاقِلَةِ  
و 180 دِينَارًا ثَمَنَ عِدَائِهِمْ خَلَوَهُ مَقَهُمْ  
و 40 دِينَارًا مَضَارِيفَ مُخْتَلِفَةٍ

التعليمية: أَحْسَبُ جُمْلَةَ الْقَضَارِيفِ

مذهب  
لـ

التعليمية: أَحْسَبُ الْمَبْلَغِ الْمُتَبَقِّي عِنْدَ الْمُشْرُوفِ

مذهب 1  
لـ  
مذهب 2  
لـ

اشْتَرَى الْمُدِيرُ بَعْضَ الْهَدَايَا وَبَقِيَ  
عِنْدَهُ 230 دِينَارًا  
فَأُجِيبَ بِمُخْفَوَعَةٍ مِنَ الْقَلَابِيسِ  
لِلْمُسْتَسْتَنِّ ثَمَنُهَا 250 دِينَارًا

التعليمية: أَخْتَارُ سُؤَالَ مَنَاسِبًا ثُمَّ أُجِيبُ عَنْهُ

أَحْسَبُ ثَمَنَ الْقَلَابِيسِ  
أَحْسَبُ الْمَبْلَغِ الْمُتَبَقِّي  
أَحْسَبُ الْمَبْلَغِ الَّذِي يَنْقُضُهُ

مذهب 5  
لـ

الْجَوَابُ:

-----  
-----

السند 3: من بين المقاريف المختلفة اشترى  
المُشْرِفُ أغلفة للكتب الهدايا  
تَمَنُّ الواحد 680 في

التعليمة: أمثل هذا المبلغ بأقل عدد ممكن  
من القطع النقدية

م 3  
ـ

كما اشترى أكياس الحقل الهدايا فمفع هذه  
القطع تَمَنُّ الكيس الواحد

-----

(5) (20) (50) (50) (100) (100)

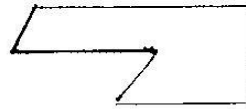

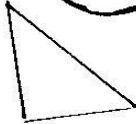
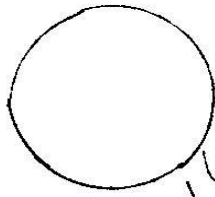
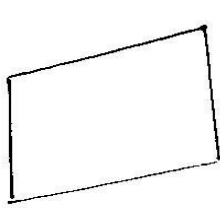
م 3  
ـ

أحسبها لا تعرف تَمَنُّ الكيس

كما أقتنى أسير طه لتزيين القلب تَمَنُّها 970 في  
التعليمة: أحيد بخط مغلق القطع التي تَمَنُّ هذا  
المبلغ

(100) (100) (100) (50) (50) (100)  
(20) (50) (50) (50) (20) (10)

السند 4: كائنت علب الهدايا مختلفة الألوان  
والألوان



أَلْوَنُ :  
بِالْأَخْضَرِ كُلَّ عِلَاقَةٍ شَكْلُهَا تِلَاثِي  
بِالْأَسْوَدِ كُلَّ عِلَاقَةٍ شَكْلُهَا رِباعِي  
بِالْأَزْرَقِ كُلَّ عِلَاقَةٍ شَكْلُهَا خَمَاسِي

م 4

ل 1

السنة 5، في اليوم المَحَدَّ لِلزَّيَارَةِ رَكِبَ الْجَمِيعُ  
الْحَافِلَاتُ فَقَدَتْهُمْ الْمُسْتَرْفُونَ فَوَجَدَهُمْ  
297 تَلْمِيزًا  
مِنْ بَيْنِهِمْ 146 بَشَاوِ الْبَقِيَّةِ أَوْلَادِ  
التَّعْلِيمَةِ أَحْسَبَ عَدَدَ الْأَوْلَادِ

م 4

ل 1

### جدول إسناد الأعداد

معايير التقييم		معايير الحصة الأدنى					المعايير
م 5 ب	م 5 د	م 4	م 3	م 2 ج	م 2 ب	م 1	مسؤولية =
		0	0	0	0	0	انعدام التفكك - - -
2,5	2,5	1	1,5	1	1	0,5	التفكك دون الحصة الأدنى - - +
		2	3	2	2	1	التفكك الأدنى - + +
5		3	4,5	3	3	1,5	التفكك الأقصى + + +