



تقيم مكتسبات المتعلمين في النهاية الفترة الثالثة

*السند ع1 حدد:قرر إخوة الثلاثة : رونق سيف وإسراء انتاج قصته ولإنجاز مشروعاتهم كسروا حصا لاتهم فوجدوا لمبالغ التالية :

رونق	سيف	إسراء
 		
مي.....889مي	695مي

• أحسب قيهة مبلغ رونق وأمثل مبلغ سيف وإسراء بما يناسب

• اشترت رونق ورقا مقوى بـ 420 مي ومقصاب 390مي

• أحسب ثمن مشتريات رونق :

.....

.....

• أحسب المبلغ الباقي لها :

.....

.....

في حين شرى سيف لصاقا بـ 245مي و 40 م من الأشرطة الملونة بـ 185 مي

أحسب ثمن مشتريات سيف :

.....

.....

أحسب المبلغ الباقي لسيف :

.....

.....

*أما إسراء فقد شرت أقلاما 320مي و غلafa بـ 150مي

أحسب ثمن مشتريات إسراء

.....

.....

أحسب المبلغ الباقي

.....

.....

*جمع الأطفال الثلاثة ما تبقي لهم من مال وأراد وشراء قصة ب750مي :


أضع العلامة (x) أمام السؤال المناسب:(يمكن اختيار أكثر من سؤال)

*كم يبقي لهم بعد شراء القصة

كم ينقصهم شراء القصة

أجب عن الأسئلة التي اخترتها

قص الإخوة الأشرطة الملونة في أشكال مختلفة :

الشكل			
عدد الاضلاع	4	.	.
اسمه